



厚职公考官方微信公众账号

扫码关注

真题试卷	预测押题	批改模考	经验分享
报名时间	报考指导	招聘信息	政策答疑

2015年四川省招警考试

行政职业能力测验试卷

第一部分常识判断

(共15题, 参考时限15分钟)

根据题目要求, 在四个选项中选出一个最恰当的答案。

1. 下列关于人民警察的相关说法, 错误的是:

- A. 人民警察必须以宪法和法律为活动准则
- B. 人民警察在非工作时间, 遇有其职责范围内的紧急情况, 可以履行职责
- C. 人民警察认为决定和命令有错误的, 可以按照规定提出意见, 但不得中止或者改变决定和命令的执行
- D. 人民警察不得散布有损国家声誉的言论, 参加非法组织, 参加旨在反对国家的集会、游行、示威等活动, 参加罢工

2. 下列关于村民委员会的说法, 错误的是:

- A. 人民政府有关部门委托村民委员会开展工作需要经费的, 由委托部门承担
- B. 罢免村民委员会成员, 须有登记参加选举的村民过半数投票, 并须经投票的村民过三分之一通过
- C. 村民委员会应当实行少数服从多数的民主决策机制和公开透明的工作原则, 建立健全各种工作制度
- D. 登记参加村民委员会选举的村民, 选举期间外出不能参加投票的, 可以书面委托本



村有选举权的近亲属代为投票

3. 2015年4月6日, 国务院办公厅印发了《机关事业单位职业年金办法》, 《办法》规定, 从2014年10月1日起实施机关事业单位工作人员职业年金制度。下列有关说法错误的是:

- A. 职业年金基金采用个人账户方式管理, 个人缴费实行实账积累
- B. 职业年金是代替机关事业单位基本养老保险的一种保险制度
- C. 工作人员在职期间死亡的, 其遗产继承人可以继承职业年金个人账户余额
- D. 制定本办法是为了建立多层次养老保险体系, 促进人力资源的合理流动

4. 下列关于行政处罚听证程序的说法, 不符合《中华人民共和国行政处罚法》规定的是:

- A. 听证适用回避制度
- B. 当事人可以亲自参加听证, 也可以委托一至二人代理
- C. 当事人要求听证的, 应当在行政机关告知后七日内提出
- D. 行政机关应当在听证的七日前, 通知当事人举行听证的时间、地点

5. 人民币采取不兑现纸币的形式, 是信用货币。下列关于信用货币的说法中, 正确的是:

- A. 具有强制性
 - B. 具有十足的内在价值
 - C. 不是债务货币
 - D. 典型的存在形式是银行券
6. 利率对汇率的影响尤其是在短期极为显著, 高利率:

- A. 有利于抑制进口
- B. 会造成货币贬值
- C. 会扩大资本流出
- D. 可以避免产生紧缩效应

7. 美国电灯泡行业, 有128家厂商参与竞争, 但四家厂商控制了电灯泡的90%市场; 中国彩电业厂家众多, 但是几家企业控制着大部分市场。这里描述的是:

- A. 完全垄断市场
- B. 寡头垄断市场
- C. 完全竞争市场
- D. 垄断竞争市场

8. 下列关于我国能源与资源的说法, 正确的是:

- A. 从时间来说, 我国夏秋两季风力普遍大于冬春两季
- B. 我国煤炭资源丰富, 煤炭资源量最多的省区是内蒙古自治区
- C. 我国是稀土资源第二丰富的国家, 稀土储量和产量仅次于俄罗斯
- D. 我国地热资源丰富, 东南沿海和西藏、云南一带是地热资源丰富的地区

9. 李某和张某邀请王某出来玩牌, 两人计划在王某喝的酒里面下迷药, 然后诱骗王某交出身上的现金及手机、手表等贵重物品。但李某在投放迷药时下的剂量过大, 导致王某打牌时就昏昏睡去, 李张二人趁机将王某随身携带的现金、手机等物拿走后离去。本案例中李某和张某的行为构成了:

- A. 诈骗罪
- B. 抢夺罪
- C. 盗窃罪
- D. 抢劫罪



10. 关于 19 世纪自然主义文学和其他文学流派, 下列选项中的对应关系正确的是:
- A. 现代现实主义戏剧的创始人——福楼拜
 - B. 英国第一位重要的浪漫主义诗人——布莱克
 - C. 超现实主义诗歌的鼻祖——王尔德
 - D. 自然主义的开山之作——《徜徉集》
11. 淝水之战为中国历史上著名的以少胜多的战例, 下列有关说法正确的是:
- A. 以前秦的全面胜利告终
 - B. 双方主要指挥官为谢安及苻坚
 - C. 在今湖北宜都一带交战
 - D. 纸上谈兵的典故出自此场战争
12. 下列历史上中国共产党召开的重要会议不是发生在土地革命战争时期的是:
- A. 古田会议
 - B. 六届一中全会
 - C. 洛川会议
 - D. 两河口会议
13. 超导体的两个重要特性是:
- A. 零电阻和抗磁性
 - B. 超微性和抗磁性
 - C. 零电阻和稳定性
 - D. 超微性和稳定性
14. 亚洲是世界七大洲中面积最大的洲, 位于:
- A. 东半球的东北部
 - B. 西半球的东北部
 - C. 东半球的西北部
 - D. 西半球的东南部
15. 中国传统文化中的“四君子”指的是四种植物, 它们是中国人感物喻志的象征。下列关于“四君子”的说法, 正确的一项是:
- A. 梅: 空谷幽放, 孤芳自赏
 - B. 兰: 不趋炎势, 世外隐士
 - C. 竹: 筛风弄月, 潇洒一生
 - D. 菊: 探波傲雪, 剪雪裁冰

第二部分言语理解与表达

(共 30 题, 参考时限 35 分钟)

本部分包括表达与理解两方面的内容。请根据题目要求, 在四个选项中选出一个最恰当的答案。

16. 文学作品在艺术价值上有高低的分别, _____ 出这高低而特有所好, 特有所恶, 这是非常重要的。

填入画横线部分最恰当的一项是:

- A. 鉴别
- B. 鉴赏
- C. 辨识
- D. 辨认

17. 我十分敬佩巴金老人的人品, 他 _____, 朴实无华, 心灵如蓝天一般透明, 在今天这个功利浮躁的年代里, 这种说真话做真人的品质实在是难能可贵。



填入画横线部分最恰当的一项是:

- A. 胸无点墨
- B. 胸无城府
- C. 不识之无
- D. 蕙质兰心

1. _____国家能源局、国家电网公司先后出台了多个支持光伏发电并网的文件, 业内有研究机构认为, 目前正_____政策阳光的光伏业未来将再陷过剩危机, 行业明年形势仍不容太乐观。业内专家表示, 未来光伏业整合仍将推进, 结构调整的结果是只需五六家龙头制造企业。

填入画横线部分最恰当的一项是:

- A. 尽管 仍 沐浴
- B. 虽然 却 沉浸
- C. 即使 但 沐浴
- D. 由于 因此 沉浸

19. 说到陕西, 会让人联想到沟沟壑壑的黄土高坡、漫天的风沙、羊皮袄白手巾, 还有那奔放高亢的陕北民歌; 来到陕西, 又让人_____被其浓厚历史文化所感染, “天然历史博物馆”的称谓里闪烁着_____的光芒, 昔日周秦风采、汉唐雄风无不从随处可见的城墙缝中、碑林古塔中汨汨流淌。

填入画横线部分最恰当的一项是:

- A. 未免 绚烂
- B. 不免 夺目
- C. 难免 斑斓
- D. 不禁 辉煌

20. 借助网络的力量, 信息的传播速度前所未有地加快, 再加上“好事不出门, 坏事传千里”的千古定律, 企业的负面信息总会被无限放大。这对正面临市场考验的卫浴企业来说, 极有可能成为压死骆驼的最后一根稻草。_____的卫浴市场, 企业_____才是应对关键。

填入画横线部分最恰当的一项是:

- A. 岌岌可危 临渴掘井
- B. 危如累卵 亡羊补牢
- C. 危在旦夕 防患未然
- D. 危机四伏 未雨绸缪

21. 平价医院被视为公立医院改革的一个样板, 它一经提出就_____。在医疗费用飞速上涨、老百姓医疗负担不断加重的情况下, 卫生部提出建立平价医院的主张, 无疑令人振奋。不过, 欣喜之余, 我们还需要对平价医院的性质和运行机制进行准确定位, 否则, 平价医院很可能只是_____的灿烂。

填入画横线部分最恰当的一项是:

- A. 毁誉参半 虚无缥缈
- B. 引人注目 昙花一现
- C. 众口铄金 海市蜃楼
- D. 备受瞩目 空中楼阁

22. 火车站, 一个面相凶悍的中年男人在候车室吸烟, 旅客_____, 管理者_____。这时, 一个女孩拿着一个棒棒糖走近男人说: “叔叔你吃糖吗? 比吸烟好。”男人露出尴尬的微笑, 随即掐灭了香烟。

填入画横线部分最恰当的一项是:



- A. 嗤之以鼻 听而不闻
- B. 侧目而视 听而不闻
- C. 嗤之以鼻 熟视无睹
- D. 侧目而视 熟视无睹

23. 在拥挤的世界上我们都看不到未来却知道自己并不孤单, 不知道是哪来的这份勇气, _____ 身边没有人加油打气 _____ 敢一个人闯天下, 仿佛伸开手臂 _____ 能拥抱世界。

填入画横线部分最恰当的一项是:

- A. 即使 也 就
- B. 虽然 但是 还
- C. 因为 所以 就
- D. 如果 就 还

24. 不知道从什么时候开始, 本市各大展会 _____, 大小展会应接不暇, 可能让市民过目不忘的却又是 _____。

填入画横线部分最恰当的一项是:

- A. 川流不息 源源不断
- B. 络绎不绝 屈指可数
- C. 摩肩接踵 门庭冷落
- D. 连绵不断 不可胜数

25. 中国企业意欲在加拿大建设大规模采矿中心和配套设施, 却 _____ 该国政治家、媒体人、民间机构和原住民团体的一致反对。这并不是加拿大人对中国存有偏见, 其根本原因在于他们对本国资源 _____, 对外企特别是外国国企染指本国自然资源有强烈抵触情绪。

填入画横线部分最恰当的一项是:

- A. 遭受 刚愎自用
- B. 遭致 如数家珍
- C. 遇到 了然于胸
- D. 遭遇 敝帚自珍

26. 江南雨巷、苏州园林、徽派建筑、北京四合院等, 为什么经漫长历史依然为人们 _____, 成为无数游子的乡愁? 一个重要原因就在于, 这些建筑 _____ 了强大的文化基因和深厚的文化感情。

填入画横线部分最恰当的一项是:

- A. 津津乐道 融入
- B. 兴味索然 融入
- C. 津津乐道 注入
- D. 兴味索然 注入

27. 向来对华高调强硬, 誓言要“抵抗中国扩张”的安倍, 为什么突然转变态度, 要求与习近平见面、恢复中日两国的“战略伙伴关系”呢? 其根本原因, 是国际局势和日本内政都没有按照安倍所希望的方向发展。内外交困下的安倍, 不得不 _____, 试图以修复中日关系作为 _____ 困境的出路。

填入画横线部分最恰当的一项是:

- A. 改弦更张 逃脱
- B. 改弦更张 摆脱
- C. 改弦易辙 摆脱
- D. 改弦易辙 逃脱

28. 以至精至简来 _____ 这些看似朴实无华, 实则 _____ 精湛工艺的瓷器, 这种审美观



点将中国明代学者对宋代瓷器的评价以及日本禅宗对中国建窑黑釉茶盏的_____完美结合起来。

填入画横线部分最恰当的一项是:

- A. 诠释 蕴藏 推崇
- B. 解释 蕴含 崇拜
- C. 解释 蕴含 提倡
- D. 诠释 孕育 倡导

29. 曾子曰:“慎终追远, 民德归厚矣。”清明节是中华民族祭奠先人、缅怀逝者的传统节日,

着每个家庭对先人的缅怀。同时作为民俗, 清明节又承担着历史记忆的文化功能。但在这个原本是近人情、近自然的节日里, 却一

出各种“不清明”的现象, 祭祀恶习

: 清明扫墓, 不少人除了燃放烟花爆竹和香烛冥币之外, 还陪烧“麻将”“汽车”“豪宅”, 让原本清静的山林顿时乌烟瘴气。

填入画横线部分最恰当的一项是:

- A. 寄托 涌现 屡见不鲜
- B. 依托 呈现 司空见惯
- C. 赋予 显现 习以为常
- D. 寄寓 浮现 不足为奇

30. 中国的香文化有着_____的历史。在华夏文明诞生之初, 我们的祖先就将香文化融入了进来, 并成为这个悠久灿烂的人类文明中_____的一笔。从有文字记载以来_____数千年的中华文化发展史来看, 中国的香文化是整个华夏文明中极其重要的组成部分。

填入画横线部分最恰当的一项是:

- A. 亘古长青 锦上添花 流传
- B. 源远流长 浓墨重彩 绵延
- C. 薪火相传 刻画入微 延续
- D. 熠熠生辉 光彩夺目 留传

31. 设计艺术是“艺术化的造物行为”, 所探讨的是人的生活如何以物质化、艺术化的形式展现出来, 所以其发展必须考虑艺术学科与其他人文学科、自然学科、社会学科之间的融合与交叉。设计艺术教育要在艺术学方面培养学生的审美能力、造型能力和创新思维能力, 在学科方面使学生获得自然科学、社会科学和人文科学方面的知识和技能。总体上, 设计艺术富于创造力的艺术构思、源于生活并引领生活的设计理念等, 共同构成了设计艺术教育的培养要素。

这段话主要讲述的内容是:

- A. 设计艺术教育的功能和定位
- B. 设计艺术教育的培养目标与内容
- C. 设计艺术的概念和研究范畴
- D. 艺术学科与其他学科的区别与联系

32. 随着生活水平的提高, 人们对于自身健康的关注度大大提高, 希望能够“吸上新鲜的空气, 喝上干净的水”。然而, 日常生活中, 饮用水最主要的问题就是消毒用的余氯、有机化合物和重金属几大污染物质在水中残留。这些污染物质的危害在于我们的身体无法将其分解或排泄掉, 因此会随着时间的推移在我们的身体里不断地积累, 最终对我们的身体造成无法逆转的伤害。于是, 为了喝到安全健康的水, 很多市民都将目光瞄准了净水器。

该文段接下来最可能要讲述的内容是:



- A. 介绍一种新型水质处理器的工作原理
- B. 居民如何选购合格的净水器, 保障饮水健康
- C. 饮用水中的污染物质如何逐渐损害我们的身体健康
- D. 当前我国居民饮用水安全面临的突出问题及有关建议

33. 早在 2012 年就有调查显示, 中国已超越日本成为“过劳死”大国, 巨大的工作压力导致我国每年过劳死亡的人数达 60 万人。而有关医学调查也表明, 我国的亚健康人群比例高达 70%。具体到我们的社会背景下, 经济的发展在带来物质繁荣的同时, 也将所有人导入一种前所未有的竞争状态。尤其是在“任劳任怨”“勤劳致富”等传统观念影响下, 因竞争而忽视身体的隐疾更成为一种不自知的常态。也正因如此, 当我们谈论“过劳死”时, 其实很少着眼于公共层面, 而往往更多是止步于个人生活习性的反思上。个体之变当然非常必要, 但离开特定的社会背景来谈论如何避免“过劳死”, 在很多时候或许只能是徒有“身不由己”之叹。

这段话主要支持的观点是:

- A. 缓解我国“过劳死”问题不能只是让个体反思
- B. 我国经济高速发展的背后隐藏着诸多消极后果及负面影响
- C. 我国过劳死亡人数日渐增多, 根本原因在于社会与行业竞争
- D. 我国“过劳死”现象已十分严峻, 全社会亟须改变传统观念

34. 历史是过去的现实, 现实是未来的历史。历史的研究和传播, 都必须以事实即史料为依据: 史料的真实性是历史科学性的保证, 也是它的生命力所在。以史实为依据, 从历史实际出发, 实事求是, 是历史研究的根本原则和根本方法。历史虚无主义虚无历史的主要手法, 就是随意剪裁和拼凑史料, 往往是取其一点, 以偏概全, 甚至指鹿为马, 颠倒黑白。因此, 对待历史事实的态度, 是尊重史实的客观性, 还是任意为我所用, 把历史变成“任人打扮的小姑娘”, 这是严肃的历史研究和历史虚无主义相区别的一个分水岭。

下列说法不符合文意的是:

- A. 严肃的历史研究必须尊重历史事实, 从事实出发
- B. 如果史料不真实, 历史研究的科学性就无从谈起
- C. 历史虚无主义用主观臆造的联系代替历史的真实联系, 本质上是对一切历史成就的否定
- D. 历史虚无主义违背了实事求是的历史研究的根本原则, 是必须坚决反对的一种错误思潮

35. 不同时代的青年都有属于他们的历史使命。新文化运动前期, 27 岁的李大钊提出“为世界进文明, 为人类造幸福”; 抗日战争年代, 31 岁的赵一曼甘将热血沃中华; 解放战争时期, 29 岁的江竹筠为迎接黎明的曙光在秋风中傲然绽放; 和平建设年代, 22 岁的雷锋留下了大爱的胸怀和忘我的精神; 信息时代, 与互联网相伴成长的数字青年, 理应把个人成长融入党和国家事业发展, 奋力实现中国梦的伟大实践, 担当起作为网络文明建设砥柱中流的青春重任。

给这段文字加上一个标题, 最恰当的是:

- A. 实现中国梦, 青年正当时
- B. 网络时代青年的理想追求与责任担当
- C. 信息时代更需要有思想和有担当的新青年
- D. 为网络文明扬旗, 是中国青年的时代责任

36. 礼从仪式、秩序、关系, 变成了礼品、送礼。前者是“没有钱是万万不能”价值观的异化, 礼轻情意重被扔到了故纸堆中, 价值直接由金钱衡量, 礼物的贵贱高低, 成为调节关系的重点, 互相攀比, 厚此薄彼, 心不够钱来凑。同时由于利益的需要, 商家也推波助澜,



各种礼品礼物的规格档次与金钱的合谋, 演变出一个极其庞大的礼品市场。

根据这段文字, 下列理解不正确的是:

- A. 礼在当下被物质化
- B. 商家造就了礼品市场
- C. 金钱是调节关系的重要因素
- D. 价值观的扭曲在礼品上得到体现

37. 如果在芬兰有人问你: “你还好吗?” 他们是真的想要得到有意义和诚恳的答案, 而不是随口一句: “还好啊, 你呢?” 在交谈时, 最好用心听对方说, 等他们说完再回答。打断对方是很没有礼貌的。与此同时, 聊天时不要做肢体接触。如果你在谈话时碰芬兰人的肩膀或者手臂, 他们很可能像看怪物一样看你。

下列最适合该文段标题的是:

- A. 特别的交流
- B. 怪异的芬兰人
- C. 与芬兰人谈话
- D. 交流中的坦诚

38. 自信是一池优雅的莲花, 淡雅从容; 乐观是满枝馥郁的梅花, 光芒四射; 坚持是一盆娴静的兰花, 睿智沉稳……人生就应该百花齐放, 百花争艳! 我们应该学会自信, 敢于决断; 我们应该学会乐观, 善于包容; 我们应该学会坚持, 勇于挑战, 挑战最大的敌人——自己!

这段文字的关键词是:

- A. 人生
- B. 敌人
- C. 自信
- D. 挑战

39. 人活着并不是一日三餐这么简单, 对于每个人来说, 人生的意义如何实现, 完全是靠自己的态度, 你想要什么样的生活, 就应该积极努力, 只有这样, 才会收获更多的快乐!

文中“只有这样”中的“这样”指的是:

- A. 积极努力
- B. 实现人生意义
- C. 有好的态度
- D. 达到想要的生活

40. 没有质疑就没有慈善, 慈善应该用最包容的尺度面对一切质疑, 问题是, 面对质疑, 慈善者可以辩解吗? 理论上说, 慈善者当然可以辩解, 人人都有为自己的行为辩解的权利。但在实践上看, 慈善的辩解, 收效往往不大, 甚至有反效果。

上述文段意在强调:

- A. 慈善应做到公开透明
- B. 慈善不需要辩解
- C. 慈善是人类超常的行为
- D. 不要让慈善成为负担

41. 对于新技术, 海德格尔曾以哲人姿态发问: 技术化的时代文明千篇一律, 是否还有精神家园? 美国学者罗斯扎克更是一针见血: 相比在黄昏时分去附近的咖啡馆, 网络真的能更有效地交流思想吗? 哲人的忧思, 倒是从另一个角度给出了历史的惯例: 越是缺少文化话语权的草根, 越能更早地拥抱新的文化场; 在原有格局中掌握话语权的精英, 越是更晚地接受新事物。



对于这段话的主要内容概括最准确的是:

- A. 在文化领域, 技术手段的升级会引起部分人的文化焦虑
- B. 面对新技术, 哲人往往闭关自守、以和大众文化划清界限标榜自我
- C. 只要拥有文化话语权, 无论是草根还是哲人, 都能更早地接受新事物
- D. 在文化领域, 人们注定要面对传统与现代并存、高雅与低俗共舞的现象

42. 作为台湾现代民歌运动的推动者, 胡德夫在早年也曾经和李双泽、杨弦并称为“民歌运动三君子”。而以唱自己的歌作为出发点, 台湾流行音乐终于以这场民歌运动为契机, 逐渐渗透到主流乐坛, 在将刘家昌等之前的金牌音乐人拉下神坛之后, 也再创造了一个新的时代, 并且通过之后李宗盛、齐豫、蔡琴、童安格、叶佳修、郑怡、李建复等歌手和创作者的努力, 渐渐形成一种在人文基调上, 呈现现代都市爱恨情仇的华语流行音乐体系, 这一红就红了二十年。民歌也因为进入了工业体系, 在李宗盛等大家的勾勒下, 慢慢变成了流传甚广的情歌。

下列选项中, 不符合文意的一项是:

- A. 胡德夫是台湾现代民歌运动的推动者
- B. 在李宗盛等音乐人的努力下, 现代民歌等同于情歌
- C. 从民歌运动开始, 台湾流行音乐逐渐渗透到主流乐坛
- D. 华语流行音乐体系在一种人文基调的基础上, 呈现了现代都市爱恨情仇

43. 传统营销的致命缺点是它的“演说性”——以自身的利益为基本诉求进行的不遗余力的渲染。而在网络时代, 企业最缺失且对这种缺失最没有意识的, 是在消解生产者与消费者角色边界的情况下参与消费者交谈的能力。在广告无可遏止地衰落之后, 真正崛起的是“参与消费者交谈”, 而不是公关。

下列对于这段话的理解, 正确的是:

- A. 传统的公关与广告并无实质性差别
- B. 相对于传统营销, 公关具有绝对的优势
- C. 企业在面对消费者时, 应维护消费者的绝对话语权
- D. 网络时代, 企业营销应注重加强“参与消费者交谈”的能力

44. 任何一个市场都得随行就市, 供给总是要根据需求而定, 如果粗制滥造的东西就可以大卖特卖, 那必然不会有商家费力不讨好地去提升什么质量。电影业自然也不例外, 观众作为市场的重要组成部分甚或可说是半壁江山, 却还处于幼稚园水准, 我们又怎能期待这个市场成熟而繁荣? 就好像近来一些只用了两三天就拍出来的综艺节目伸长版, 票房竟也持续走高, 让人们不禁感叹: 这是个在电影院放 PPT 都能赚钱的时代。所以, 在抱怨中国没有好电影的时候, 请先想想你是不是一个甘愿去为 PPT 买单的观众再说吧。

这段文字意在:

- A. 说明成熟的电影市场需要成熟的观众
- B. 抨击当前我国电影市场的不成熟
- C. 指出我国电影观众不正确的消费观
- D. 批评综艺节目电影化的赚钱模式

45. 北京至少有 90% 以上的四合院沦为大杂院。一个四合院本来是供一个家庭或一个家族居住的, 现在一个院子住上几家、十几家, 每家争相搭建小房子、堆放杂物, 千方百计争夺空间, 使得邻里关系很微妙, 个人精神很压抑, 家庭生活很不便, 四合院固有的优点丧失殆尽。如果不彻底清除四合院内外的搭建房屋和杂物、疏散人口、恢复四合院的本来面目, 保护四合院最终是一句空话。

这段文字意在强调整治北京的四合院首先应着力于:

- A. 拆除质量低劣的四合院



- B. 实现外观复古美化
- C. 实现院内生活设施现代化
- D. 恢复四合院的本来面目

第三部分数量关系

(共 10 题, 参考时限 15 分钟)

在这部分试题中, 每道题呈现一段表述数字关系的文字资料, 要求你迅速、准确地计算出答案。

46. $1^{2015} + 3^{2015} + 5^{2015} + 7^{2015} + 9^{2015}$ 的值的个位数是:

- A. 3
- B. 5
- C. 6
- D. 7

47. 某中学举行颠足球比赛, 比赛时长为 2 分钟。参加比赛的学生平均每人颠球 260 次, 已知每人至少颠球 240 次, 并且其中一人颠球 324 次, 如果不把该学生计算在内, 那么平均每人颠球 252 次。那么此次比赛颠球最快的学生最多颠了 () 次。

- A. 420
- B. 368
- C. 336
- D. 252

48. 小勺在网上购物时准备用网银支付, 她忘了网银密码的最后一位数字, 只记得是个奇数, 现小勺尝试输入不同的密码碰一下运气, 但是网银有规定: 如连续输入三次错误的密码, 将被锁定无法使用。那么小勺用网银支付成功的概率是:

- A. $\frac{3}{5}$
- B. $\frac{3}{10}$
- C. $\frac{1}{5}$
- D. $\frac{4}{5}$

49. 某销售部有 A、B、C、D 四个团队, 年度销售业绩统计如下: A 团队的销售业绩是另外三个团队总业绩的 $\frac{1}{4}$, B 团队的销售业绩是另外三个团队总业绩的 $\frac{1}{3}$, C 团队的销售业绩是另外三个团队总业绩的一半。已知 D 团队的销售业绩为 260 万元, 那么 A 团队的销售业绩是 () 万元。

- A. 300
- B. 280
- C. 240
- D. 220



50. 某商店一次性进了相同数量的甲、乙两种商品共 120 件, 共花费成本 3000 元, 其中甲按 25% 的利润进行定价, 乙按 30% 利润进行定价, 在两种商品都卖出 $\frac{2}{3}$ 后, 都按定

价的 80% 出售, 最终两种商品获得利润 556 元, 那么甲商品的进货价是 () 元 / 件。

- A. 20
- B. 30
- C. 40
- D. 60

51. 在某次大学生足球比赛中, 有 8 支队伍在 4 个学校中进行循环赛, 那么平均每个学校需要举行比赛 () 场。

- A. 4
- B. 5
- C. 6
- D. 7

52. 在一件衣服上有一个半径为 10 厘米的圆, 现要在这个圆的圆周上均匀地镶上 100 颗钻, 然后要在这个圆的四条半径上每隔 0.5 厘米镶上一颗钻。那么至少要在圆上镶钻 () 颗,

- A. 175
- B. 177
- C. 180
- D. 181

53. 现有 10 个不同的工作任务, 部门主管需要把这 10 个任务分配给甲、乙、丙、丁四位员工, 其中一个人分到了 1 个任务, 一个人分到了 2 个任务, 一个人分到了 3 个任务, 一个人分到了 4 个任务, 那么一共有 () 种不同的分配方法。

- A. 8640
- B. 12600
- C. 151200
- D. 302400

54. 某工厂举行技能比赛, 三位工人对同等数量的某产品进行加工, 产品的数量在 300~350 个之间, 已知第一位工人每分钟加工 3 个产品, 最后一分钟加工的产品数量是 2 个; 第二位工人每分钟加工 4 个产品, 最后一分钟加工的产品数量是 1 个; 第三位工人每分钟加工 5 个产品, 最后一分钟加工的产品数量是 4 个。那么每个工人加工的产品数量是 () 个。

- A. 319
- B. 326
- C. 327
- D. 329

55. 小丽去服装批发市场批发连衣裙和 T 恤共 200 件, 连衣裙的单价是 120 元, T 恤的单价是 50 元。现由于服装生产商做促销, 批发价格做相应的打折, 每件连衣裙减 20 元, T 恤打八折, 则这批衣服总的进货价比按原单价少付了 3500 元, 那么小丽批发了连衣裙 () 件。

- A. 80
- B. 100
- C. 120



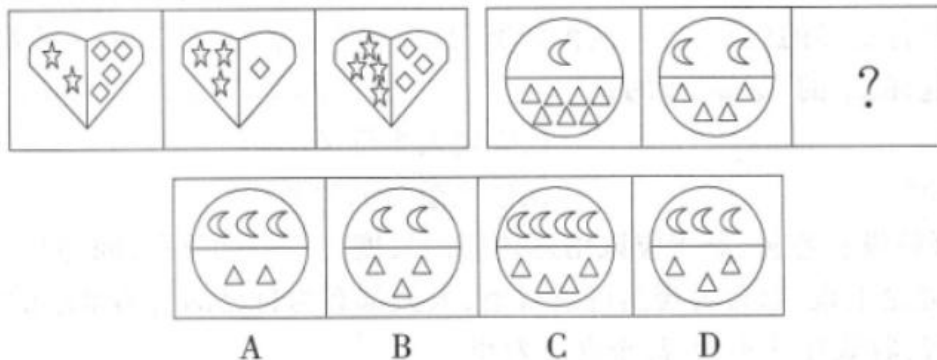
D. 150

第四部分判断推理

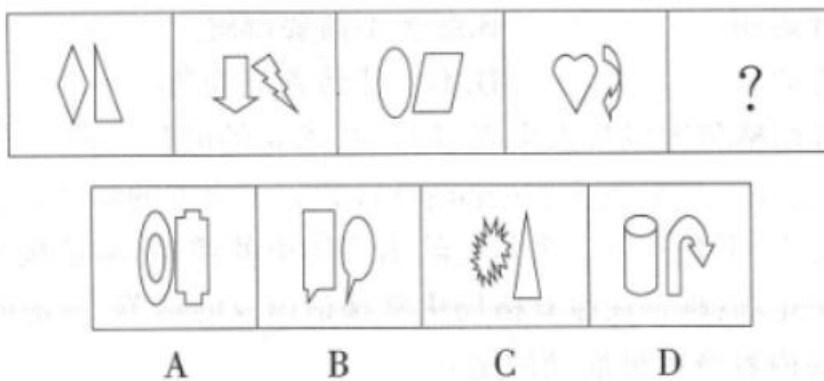
(共 30 题, 参考时限 35 分钟)

一、图形推理。请按每道题的答题要求作答。

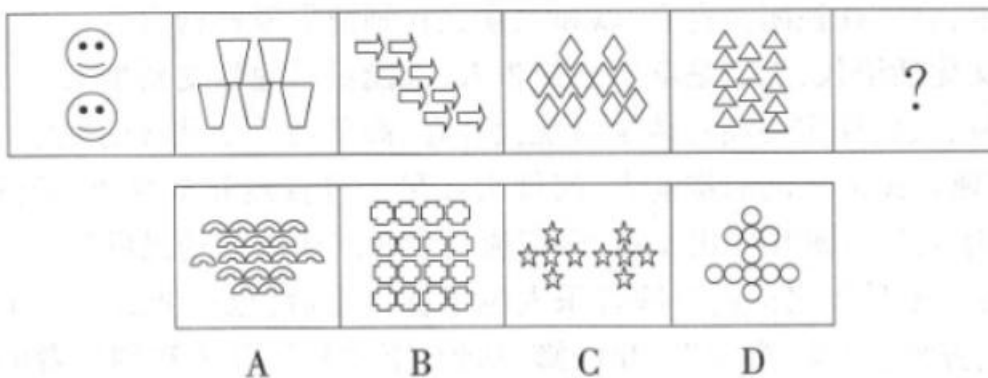
56. 从所给的四个选项中, 选择最合适的一个填入问号处, 使之呈现一定的规律性:



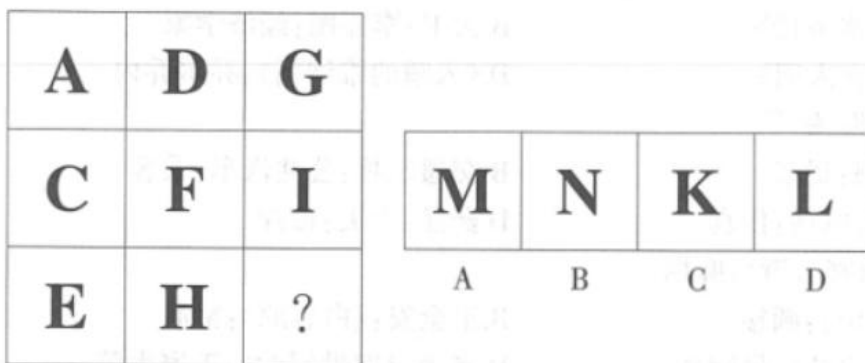
57. 从所给的四个选项中, 选择最合适的一个填入问号处, 使之呈现一定的规律性:



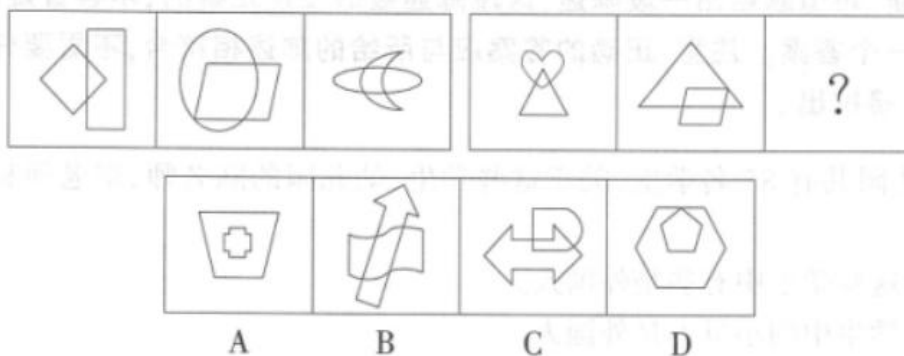
58. 从所给的四个选项中, 选择最合适的一个填入问号处, 使之呈现一定的规律性:



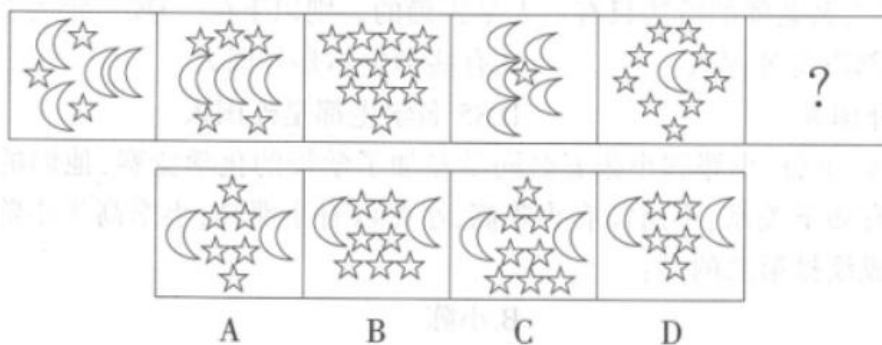
59. 从所给的四个选项中, 选择最合适的一个填入问号处, 使之呈现一定的规律性:



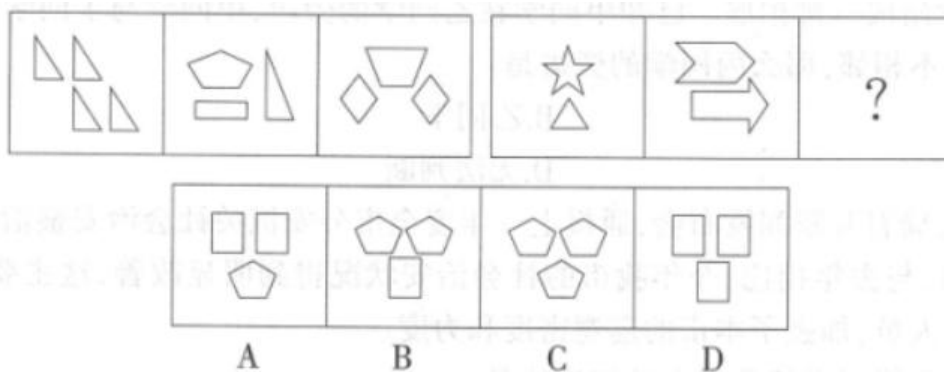
60. 从所给的四个选项中, 选择最合适的一个填入问号处, 使之呈现一定的规律性:



61. 从所给的四个选项中, 选择最合适的一个填入问号处, 使之呈现一定的规律性:



62. 从所给的四个选项中, 选择最合适的一个填入问号处, 使之呈现一定的规律性:



二、定义判断。每道题先给出定义, 然后列出四种情况, 要求你严格依据定义, 从中选出一个最符合或最不符合该定义的答案。注意: 假设这个定义是正确的, 不容置疑的。

63. 有形磨损, 是指设备在使用或闲置的过程中所发生的实体上的磨损或损失。



根据上述定义, 下列属于有形磨损的是:

- A. 一年前小张买了一部三星手机, 但最近他发现, 该手机的价格大幅度下降, 已经不值钱了
- B. 某精密仪器因为长期保养不当而出现生锈、腐蚀现象, 导致其精密度较低
- C. 经过多年的日晒雨淋, 某景区内原本色彩鲜艳的悬崖壁画褪色非常严重, 有的地方脱落明显
- D. 单位采购了一批新仪器, 但由于技术工人对仪器的操作不熟练, 导致使用新仪器时的工作效率大大降低

64. 特殊意义妄想, 是指患者认为周围人的言行、日常的举动, 不仅与他有关, 而且有一种特殊的意义。

根据上述定义, 下列属于特殊意义妄想的是:

- A. 某妄想症患者在外出时坚信某些团伙正对他进行跟踪监视
- B. 某妄想症患者总是觉得自己内心的想法和与家人之间的隐私, 未经过自己说出来, 别人就知道了
- C. 某妄想症患者坚信配偶对其不忠, 另有外遇, 因此该患者跟踪监视配偶的日常活动
- D. 某妄想症患者回家后见妻子在逗小孩玩, 边滚煮熟的鸡蛋边说“滚蛋, 滚蛋”, 患者听后认为妻子暗示要他离开

65. 急性应激障碍, 是指以急剧、严重的精神打击作为直接原因, 患者在受刺激后立即发病, 表现有强烈恐惧体验的精神运动性兴奋, 行为有一定的盲目性, 或者为精神运动性抑制, 甚至木僵。如果应激源被消除, 症状往往历时短暂, 预后良好, 缓解完全。

根据上述定义, 下列属于急性应激障碍的是:

- A. 小王因被朋友嘲笑太胖而大受打击, 在半年内为了减肥拒绝吃晚餐
- B. 每次当小张在工作上遇到难题时, 总喜欢到健身房里练拳发泄情绪
- C. 小李因一次考研失败而情绪低落、痛苦, 感觉生活无意义而出现自杀行为
- D. 小陈曾在游泳时因小腿抽筋而发生溺水, 从此常常在梦中梦到自己溺水窒息

66. 定义:

- ①环境灾害移民, 是指因灾害性环境事件导致的人口迁移。
- ②生态移民, 是指因生态环境退化引起的人口迁移。
- ③环境污染移民, 是指因环境污染事件导致的人口迁移。

典型例证:

(1) 某山区因暴雨连续发生泥石流, 当地政府紧急疏散山下村民, 并让村民搬迁到城里定居。

(2) 张某及其亲戚均认为甲地的教育资源比现居住地好, 为了孩子的教育, 他们决定搬到甲地居住。

(3) 某地区因长期水土流失, 土壤肥力下降而无法继续种植庄稼, 当地很多农民不得不离开家乡到其他地方生活。

上述典型例证与定义存在对应关系的数目有:

- A. 3 个
- B. 2 个
- C. 1 个
- D. 0 个

67. 种间竞争是不同种群之间为争夺生活空间、资源、食物等而产生的一种直接或间接抑制对方的现象。在种间竞争中常常是一方取得优势而另一方受抑制甚至被消灭。

根据上述定义, 下列存在种间竞争的是:



- A. 在美洲辽阔的亚马逊草原上, 两个狮群为争夺栖息领地而展开大战
- B. 在某油菜田上, 以叶为食的菜粉蝶幼虫与蜜蜂在同一株油菜上进行采食
- C. 水稻田中的水稻和杂草, 当水稻收获后, 农田弃耕, 很快变成了杂草的乐园
- D. 小丑鱼居住在海葵的触手之间使海葵免于被其他鱼类食用, 而海葵的触手可使小丑鱼免于被掠食

68. 显性成本, 是指厂商在生产要素市场上购买或租用所需要的生产要素的实际支出, 即企业支付给企业以外的经济资源所有者的货币额。

根据上述定义, 下列不属于显性成本的是:

- A. 某企业按时支付全体员工的工资
- B. 某方便面企业在 2014 年投入的 2000 万元广告费
- C. 某企业租用办公室场地向土地出租者支付的费用
- D. 某工厂由于厂长的正确决策而避免了与不诚信企业合作所带来的成本

69. 宏观经济预测, 是指以国民经济、部门、地区的经济活动为范围进行的各种经济预测, 为制定国民经济规划、经济计划和经济政策服务。

根据上述定义, 下列不属于宏观经济预测的是:

- A. 预测劳动力的需求和供给情况
- B. 预测国民生产总值、国民收入的情况
- C. 企业经营管理者预测某产品的未来需求
- D. 预测财政、信贷、税收、储蓄等因素的变动情况

70. 心智技能, 是一种借助内部力量调节、控制心智活动的经验, 是通过学习而形成的合乎法则的心智活动方式。

根据上述定义, 下列不属于心智技能的是:

- A. 记忆技能
- B. 阅读、作文的技能
- C. 心算技能
- D. 吹笛子、拉二胡的技能

三、类比推理。每道题先给出一组相关的词, 要求你在备选答案中找出一组与之在逻辑关系上最为贴近、相似或匹配的词。

71. 顽强: 顽固

- A. 果断: 武断
- B. 成果: 后果
- C. 自豪: 骄傲
- D. 执着: 坚定

72. 海镜: 小蟹

- A. 寄居蟹: 海葵
- B. 犀牛: 犀牛鸟
- C. 鞭毛虫: 细菌
- D. 兔: 草类

73. 舞台: 演出

- A. 奇迹: 创造
- B. 灯光: 照明
- C. 未来: 相信
- D. 生活: 改变

74. 桃园结义: 望梅止渴



- A. 草船借箭: 画饼充饥
 - B. 胡服骑射: 纸上谈兵
 - C. 鞠躬尽瘁: 邯郸学步
 - D. 一枕黄粱: 三顾茅庐
75. 巴尔扎克:《幽谷百合》
- A. 鲁智深:《水浒传》
 - B. 大卫, 李嘉图: 经济学家
 - C. 高尔基:《在人间》
 - D. 《入睡的维纳斯》: 乔尔乔内
76. 农具: 锄头: 锄草
- A. 厨具: 砂锅: 煲汤
 - B. 交通工具: 公共汽车: 乘客
 - C. 办公用品: 电话: 传真
 - D. 药品: 大夫: 诊疗
77. 柳宗元:《寄韦珩》: 麻栏
- A. 阿来:《空山》: 圆楼
 - B. 王全安:《白鹿原》: 窑洞
 - C. 沈从文:《边城》: 吊脚楼
 - D. 老舍:《四世同堂》: 王家大院

四、逻辑判断。每道题给出一段陈述, 这段陈述被假设是正确的, 不容置疑的。要求你根据这段陈述, 选择一个答案。注意: 正确的答案应与所给的陈述相符合, 不需要任何附加说明即可以从陈述中直接推出。

78. 星星幼儿园共有 85 名学生, 关于这些学生, 幼儿园的陈老师、李老师和张老师有如下看法:

陈老师说:“这些学生中有些是外国人。”

李老师说:“学生中的小贝不是外国人。”

张老师说:“这些学生中有些不是外国人。”

实际上, 上述三名老师的看法只有一人是正确的。则以下 () 项一定为真。

- A. 85 名学生都不是外国人
- B. 有些学生不是外国人
- C. 小贝不是外国人
- D. 85 名学生都是外国人

79. 小李、小陈、小詹、小邓和小张五名同学参加了学校的化学竞赛, 他们的成绩各不相同。已知他们的成绩有如下关系: 小詹没有小陈高, 小张没有小邓高, 小李高于小陈, 而小邓低于小詹。则他们之中成绩排第二的是:

- A. 小李
- B. 小陈
- C. 小詹
- D. 小邓

80. 四名同学站成一排拍照。已知甲同学在乙同学的旁边, 甲同学与丁同学不相邻, 如果丁同学与丙同学也不相邻, 那么丙同学的旁边是:

- A. 甲同学
- B. 乙同学
- C. 丁同学



D. 无法判断

81. 某市公安局召开新闻发布会, 通报上一年度全市公安机关社会治安整治情况。该市的公安局负责人表示, 与去年相比, 今年我市的社会治安状况得到明显改善, 这主要是由于我市聘用了大量的辅警人员, 加强了本市的巡逻密度和力度。

下列选项最不能削弱该负责人的结论的是:

- A. 有民众反映, 聘用大量的辅警人员需要支付大额的费用, 得不偿失
- B. 今年初, 该市公安部门针对本市存在的社会治安问题召开了专题研究会议
- C. 今年该市公安部门在全市范围内集中开展了多次流动人口清查和治安联合排查活动
- D. 今年初, 该市公安部门在全市的街头巷尾安装了 5000 多只电子眼, 用来监控社会治安

治安

82. 现在的家长和老师都认为, 中学生玩电脑游戏会影响学习成绩。可是有媒体对某地区 15 所中学进行调查后发现, 中学生中玩电脑游戏的学生, 其学习成绩比不玩电脑游戏的学生好。因此得出结论: 玩电脑游戏不会影响中学生的学习成绩。

以下 () 项如果为真, 最能削弱上述结论。

- A. 被调查的学校都是当地的重点学校
- B. 接受调查的学生家长都严禁其小孩玩电脑游戏
- C. 只有学习成绩好的学生, 家长和老师才不干涉他们玩电脑游戏
- D. 玩电脑游戏的学生经常联机进行, 他们也时常一起在线互相讨论学习问题

83. 经常跑马拉松的人通常比不跑马拉松的人更不容易患上心血管疾病。因此, 马拉松运动有助于防治心血管疾病。

以下 () 项如果为真, 最能构成对上述结论的质疑。

- A. 老年人比中年人更喜欢马拉松运动
- B. 每年都有个别人在马拉松运动中死亡
- C. 只有没患心血管疾病的人才能进行马拉松运动
- D. 马拉松运动能够训练人的心肺能力, 增强腿部力量

84. 所有的篮球爱好者都爱好足球, 有些羽毛球爱好者爱好足球, 所有的田径爱好者都不爱好足球。

由此可推出:

- A. 有些羽毛球爱好者爱好篮球
- B. 有些篮球爱好者爱好羽毛球
- C. 有些田径爱好者不爱好羽毛球
- D. 有些羽毛球爱好者不爱好田径

85. 不可能所有城市的房地产价格都下降。

由此可推出:

- A. 必然有的城市的房地产价格不下降
- B. 必然所有城市的房地产价格都不下降
- C. 可能有的城市的房地产价格会上升
- D. 必然所有城市的房地产价格都会下降

第五部分资料分析

(共 15 题, 参考时限 20 分钟)

所给出的图、表、文字或综合性资料均有若干个问题要你回答。你应根据资料提供的信息进行分析、比较、计算和判断处理。

一、根据所给资料, 回答 86~90 题。

2013 年全国公共财政收入 129143 亿元, 比上年增长 10.1%, 完成全年收入预算并略有



超收。2013年, 中央财政收入经历了先降后升的“V型”反转, 全年收入60174亿元, 同比增长7.1%; 地方本级财政收入68969亿元, 同比增长12.9%。

财政收入中, 全国政府性基金收入52239亿元, 同比增长39.2%。其中, 中央政府性基金收入4232亿元, 增长27.5%; 地方本级政府性基金收入48007亿元, 增长40.3%, 主要是土地出让合同成交价款增加较多, 国有土地使用权出让收入41250亿元, 比上年增加12732亿元, 增长44.6%。

支出方面, 2013年全国公共财政支出139744亿元, 同比增长10.9%。其中, 中央本级支出20472亿元, 增长9.1%; 地方财政支出119272亿元, 增长11.3%。主要重点支出中, 教育支出21877亿元, 增长3%; 医疗卫生支出8209亿元, 增长13.3%; 住房保障支出4433亿元, 下降1%, 主要是按计划保障性安居工程建设工作量比上年有所减少。

86. 2012年全国公共财政收入约为()亿元。

- A. 56185
- B. 61089
- C. 117296
- D. 131548

87. 2013年中央财政收入约占全国财政收入的:

- A. 46.6%
- B. 47.9%
- C. 52.1%
- D. 53.4%

88. 2013年中央政府性基金收入与地方本级政府性基金收入之比约为:

- A. 11.3:1
- B. 1:11.3
- C. 1:9
- D. 9:1

89. 2013年, 地方财政支出比中央本级支出()亿元。

- A. 多98800
- B. 少98800
- C. 多98700
- D. 少98700

90. 根据以上资料, 下列说法正确的是:

- A. 2012年地方本级财政收入低于中央财政收入
- B. 2013年地方本级政府性基金收入增长较快
- C. 2013年全国计划保障性安居工程比上年有所增加
- D. 2013年医疗卫生支出在全国主要重点支出中占比最大

二、根据所给资料, 回答91~95题。

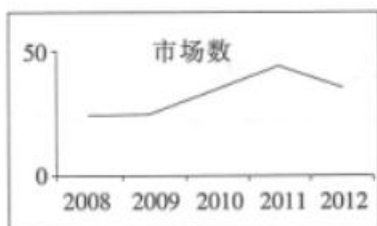
2008—2012年四川省按经营方式划分亿元市场发展情况



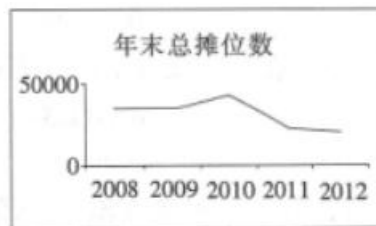
(单位:个,万平方米,亿元)

年份	批发经营为主亿元市场				零售经营为主亿元市场			
	批发市场数	年末总摊位数	营业面积	成交额	批发市场数	年末总摊位数	营业面积	成交额
2008年	66	57083	280.5	616.3	25	34586	83.6	158.5
2009年	64	68767	350.6	880.2	26	34680	102.9	135.4
2010年	69	68207	381.6	991.9	36	42073	164.3	160.2
2011年	67	84950	379.0	1223.5	45	23464	204.4	293.3
2012年	77	111592	469.1	1473.4	37	19308	168.4	240.7

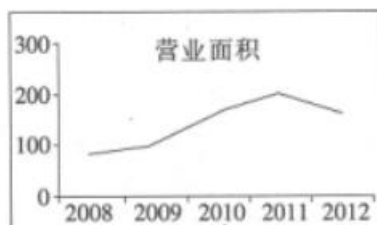
91. 2012年末,四川省亿元市场个数相对于2008年末增长了约:
- A. 20.2%
B. 25.2%
C. 25.3%
D. 79.8%
92. 批发经营为主亿元市场平均每个摊位营业面积(按年末数计算)最多的年份是()年。
- A. 2009
B. 2010
C. 2011
D. 2012
93. 从规模看,2012年批发经营为主的亿元市场个数、成交额分别比零售经营为主的亿元市场高出约:
- A. 108%、512%
B. 109%、512%
C. 109%、511%
D. 108%、511%
94. 零售经营为主亿元市场平均成交额最小的年份是:
- A. 2008
B. 2009
C. 2010
D. 2011
95. 下列图表反映了资料中零售经营为主亿元市场的相关指标,其中不恰当的是:



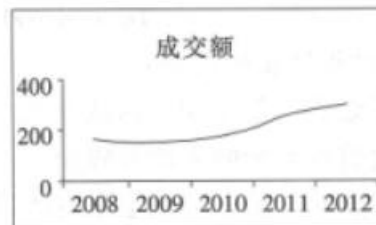
A



B



C



D

三、根据所给资料, 回答 96~100 题。

2013 年, A 省全年公路、铁路、航空和水路等运输方式完成货物周转量 2437.5 亿吨公里, 比上年增长 8.1%; 完成旅客周转量 1923.6 亿人公里, 增长 10.6%。

铁路营运里程 3518 公里; 高速公路通车里程 5046 公里; 内河港口年集装箱吞吐能力 26.2 万标箱。

2013 年 A 省公路、铁路、航空和水路运输方式完成运输量

指标	单位	绝对数	比上年增长%
货物运输周转量	亿吨公里	2437.5	8.1
公路	亿吨公里	1484.8	12.0
铁路	亿吨公里	820.4	0.3
民航	亿吨公里	8.0	14.3
水路	亿吨公里	124.3	20.1
旅客运输周转量	亿人公里	1923.6	10.6
公路	亿人公里	1067.8	6.3
铁路	亿人公里	310.1	2.3
民航	亿人公里	543.0	26.2
水路	亿人公里	2.7	-1.3

96. 2012 年, A 省公路货物运输约是民航货物运输的:

- A. 165.3 倍
- B. 176.5 倍
- C. 189.4 倍
- D. 199.6 倍

97. 2012 年, A 省铁路与水路旅客运输周转量之和约为 () 亿人公里。

- A. 280.3
- B. 305.9
- C. 330.7
- D. 350.5

98. 2013 年, A 省货物运输周转量中增长额最大的是:


- A. 公路
- B. 铁路



- C. 民航
D. 水路
99. 2012 年, A 省主要的货物运输方式是:
- A. 公路
B. 铁路
C. 民航
D. 水路
100. 根据以上资料, 以下说法错误的是:
- A. 2013 年 A 省旅客运输周转量增长百分比比货物运输周转量大
B. 2013 年 A 省高速公路通车里程约是铁路营运里程的 1.43 倍
C. 2013 年 A 省旅客运输周转量中公路运输周转量增加最多
D. 2013 年 A 省旅客运输周转量中公路运输周转量占五成以上

【参考答案及解析】

**2015 年四川省招警考试
行政职业能力测验试卷参考答案及解析**



答案总览

1-5	BBBCA	6-10	ABDDDB	11-15	BCAAC	16-20	ABABD
21-25	BDABD	26-30	ACAAB	31-35	BBACD	36-40	BCAAB
41-45	ABDAD	46-50	BCACB	51-55	DBDDD	56-60	DDACB
61-65	BABDC	66-70	BCDCD	71-75	AABAC	76-80	ACDBA
81-85	ACCCA	86-90	CABAB	91-95	CBACD	96-100	CBAAC

真题精解

1. **【答案】B. 解析:**《人民警察法》第 19 条规定, 人民警察在非工作时间, 遇有其职责范围内的紧急情况, 应当履行职责。故本题答案选 B。

2. **【答案】B. 解析:**我国《村民委员会组织法》第 16 条规定, 罢免村民委员会成员, 须有登记参加选举的村民过半数投票, 并须经投票的村民过半数通过。故本题答案选 B。

3. **【答案】B. 解析:**《机关事业单位职业年金办法》第 2 条规定, 本办法所称职业年金, 是指机关事业单位及其工作人员在参加机关事业单位基本养老保险的基础上, 建立的补充养老保险制度。故本题答案选 B。

4. **【答案】C. 解析:**我国《行政处罚法》第 42 条规定, 当事人要求听证的, 应当在行政机关告知后三日内提出。故本题答案选 C。

5. **【答案】A. 解析:**信用货币的基本特征有: 信用货币是一种价值符号; 信用货币是债务货币; 信用货币具有强制性; 国家对信用货币进行控制和管理。信用货币的主要存在形式是现金和银行存款。故本题答案选 A。

6. **【答案】A. 解析:**利率对汇率的影响尤其是在短期极为显著。高利率有助于资本流入, 减少资本流出, 且提高利率具有紧缩效应, 有利于抑制进口, 从而使货币升值。故本题答案选 A。

7. **【答案】B. 解析:**寡头垄断市场是指极少数几家厂商控制整个市场的产品的生产和销售的一种市场组织。题干中所说的市场形式应当属于寡头垄断市场。故本题答案选 B。

8. **【答案】D. 解析:**我国的地热资源按属性可分为三种类型: 高温对流型地热资源, 中温、低温对流型地热资源和中低温传导型地热资源。其中高温对流型地热资源主要分布在



西藏、云南腾冲现代火山区及台湾; 中温、低温对流型地热资源主要分布在东南沿海一带如广东、福建、海南等省区。故本题答案选 D。

9. 【答案】D。解析: 诈骗罪是指以非法占有为目的, 用虚构事实或者隐瞒真相的方法, 骗取数额较大的公私财物的行为。盗窃罪是指以非法占有为目的, 秘密窃取数额较大的公私财物或者多次秘密窃取公私财物的行为。抢夺罪是指以非法占有为目的, 乘人不备, 公开夺取数额较大的公私财物的行为。抢劫罪是以非法占有为目的, 对财物的所有人、保管人当场使用暴力、胁迫或其他方法, 强行将公私财物抢走的行为。结合题干所述, 李张二人的行为属于采用暴力、胁迫以外的造成被害人不能反抗的强制方法取走王某财物, 依法构成抢劫罪。故本题答案选 D。

10. 【答案】B。解析: 易卜生生于挪威希恩, 是一位影响深远的挪威剧作家, 被认为是现代现实主义戏剧的创始人。威廉·布莱克, 是英国第一位重要的浪漫主义诗人、版画家, 主要诗作有诗集《天真之歌》《经验之歌》等。阿蒂尔·兰波, 19 世纪法国著名诗人, 早期象征主义诗歌的代表人物, 超现实主义诗歌的鼻祖。自然主义小说的创立者是龚古尔兄弟, 他们的代表作品《杰米妮, 拉赛朵》被称为自然主义的开山之作。故本题答案选 B。

11. 【答案】B。解析: 淝水之战, 发生于公元 383 年, 是东晋时期北方的统一政权前秦向南方东晋发起的侵略吞并的一系列战役中的决定性战役, 前秦出兵伐晋, 双方于淝水(现今安徽省寿县的东南方) 交战。选项 C 错误。淝水之战最终东晋仅以八万军力大胜八十余万前秦军。选项 A 错误。纸上谈兵的典故出自长平之战。选项 D 错误。故本题答案选 B。

12. 【答案】C。解析: 土地革命战争时期(1927 年 8 月~1937 年 7 月), 也称作第二次国内革命战争时期。这一时期, 是中国共产党领导中国人民, 进行深入开展土地革命, 反对国民党恐怖统治的内战时期。古田会议是红四军在 1929 年 12 月 28 日至 29 日在福建省龙岩市上杭县古田召开的第九次党的代表大会。六届一中全会于 1928 年 7 月 19 日在苏联莫斯科克里姆林宫举行。洛川会议是 1937 年 8 月 22 日至 25 日中共中央在陕北洛川召开的政治局扩大会议。两河口会议是 1935 年 6 月 26 日中共中央政治局在四川懋功北部的两河口召开的会议。故本题答案选 C。

13. 【答案】A。解析: 超导是指导电材料在温度接近绝对零度的时候, 物体分子热运动下材料的电阻趋近于 0 的性质。零电阻和抗磁性是超导体的两个重要特性。故本题答案选 A。

14. 【答案】A。解析: 亚洲位于东半球的东北部, 东濒太平洋, 南临印度洋, 北滨北冰洋, 西达大西洋的属海地中海和黑海。故本题答案选 A。

15. 【答案】C。解析: “四君子”是中国传统文化的题材, 他们分别是指: 梅花、兰花、翠竹、菊花。其品质分别是: 傲、幽、澹、逸。“四君子”成为中国人借物喻志的象征, 也是咏物诗文和艺人字画中常见的题材。其中, 梅: 探波傲雪, 剪雪裁冰, 一身傲骨, 是为高洁志士; 兰: 空谷幽放, 孤芳自赏, 香雅怡情, 是为世上贤达; 竹: 筛风弄月, 潇洒一生, 清雅澹泊, 是为谦谦君子; 菊: 凌霜飘逸, 特立独行, 不趋炎势, 是为世外隐士。故本题答案选 C。

16. 【答案】A。解析: “辨识”“辨认”都侧重于根据特点辨别, 以便找出或认定某一对象, 与“文学作品的艺术价值”不搭配, 排除 C、D。“鉴别”侧重于辨别真假好坏, “鉴赏”侧重于鉴定欣赏。此处是说分辨文学作品价值的高低, “鉴别”更契合语境。本题选 A。

17. 【答案】B。解析: “胸无点墨”指胸中无一点墨水。形容文化水平很低, 毫无学问。“胸无城府”喻指为人胸怀坦荡, 不用心机。“不识之无”指连“之”字、“无”字都不认识; 形容人不识字, 文化水平很低。“蕙质兰心”喻指女子淑美善良的气质。由“心灵……透明”“说真话做真人”可知, 巴金老人心灵纯净, 没有心机, “胸无城府”符合句意。本题选 B。

18. 【答案】A。解析: 第三空, “沐浴”与“阳光”是常用搭配, 排除 B、D。第二空, “但”



填入横线处, 语句不通顺, 且与第一空的“即使”也不搭配, 排除 C。本题选 A。

19. 【答案】B。解析: 第二空, “斑斓”常与“色彩”搭配, “辉煌”常与“灯火”“成绩”搭配, 与“光芒”均不搭配, 排除 C、D。“未免”指实在是, 不能不说是; 含有不赞许的意思。“不免”指免不了, 难免。此处句意为来到陕西后不可避免地被其浓厚历史文化所感染, 选“不免”更符合句意。故本题选 B。

20. 【答案】D。解析: 第二空, “临渴掘井”“亡羊补牢”指事到临头或事发之后再采取紧急措施, 明显与句意不符, 排除 A、B。第一空, “危在旦夕”语义程度过重, 且句意为卫浴市场的任何一个疏忽或缺漏都有可能被借助网络迅速传播开来, 从而严重影响卫浴企业的品牌形象, 故用“危机四伏”来形容卫浴市场如履薄冰的状况更符合句意。本题选 D。

21. 【答案】B。解析: 第一空, “毁誉参半”指说坏话的和说好话的各占一半。“众口铄金”比喻众口一词可以混淆是非。由“平价医院……无疑令人振奋”可知, “毁誉参半”“众口铄金”不符合句意, 排除 A、C。第二空, 平价医院并非“空中楼阁”, 且“昙花一现”与句中“灿烂”也更搭配。本题选 B。

22. 【答案】D。解析: 第二空, “中年男人在候车室吸烟”的行为是“看到的”, 不是“听到的”, 故用“听而不闻”不恰当, 排除 A、B。第一空, “嗤之以鼻”指看不起。“侧目而视”指斜着眼睛看人。形容畏惧、憎恨或鄙视的样子。“侧目而视”比“嗤之以鼻”更符合旅客对吸烟者的态度。本题选 D。

23. 【答案】A。解析: C、D 两项代入句中, 不符合事理逻辑, 排除。第三空, “还”的意思为依然。“就”用在动词前面, 表示在某种条件或情况下自然怎么样。根据句意, “就”更能体现出一个人闯天下的勇气。本题选 A。

24. 【答案】B。解析: 本题可从第二空得出答案。由“大小展会应接不暇, 可能让市民过目不忘的却又是”可知, 第二空所填词语应表“少”的意思, 由此可排除与此意相反的“源源不断”“不可胜数”, 即 A、D 两项。用“门庭冷落”来形容“让市民过目不忘”的展会不合常理, 排除 C。故本题选 B。

25. 【答案】D。解析: 本题可由第二空入手解答。此处句意为, 加拿大人对本国资源非常重视, 对外企的染指非常抵触。“刚愎自用”指十分固执自信, 不考虑别人的意见。“了然于胸”指心里非常明白。“如数家珍”比喻对所讲的事情十分熟悉。均不符合句意, 排除 A、B、C。第一空, “遭遇”填入句中也恰当, 故本题选 D。

26. 【答案】A。解析: 先看第一空, “兴味索然”指毫无兴致的样子; 一点儿兴趣都没有。与题干语义相反, 排除 B、D。与“文化基因”“文化感情”相搭配, 用“融入”比“注入”更恰当, 由此可排除 C。故本题选 A。

27. 【答案】C。解析: “改弦更张”比喻改革制度或变更做法。“改弦易辙”比喻改变计划或做法。二者都可比喻计划、办法等的改变。但“改弦易辙”语义更重, 多表方向、道路、路线或其他根本性的改变。与安倍前后完全相反的两种态度相对应, 用“改弦易辙”更恰当, 排除 A、B。再看第二空, 与“困境”相搭配, 用“摆脱”比“逃脱”更恰当, 排除 D。故本题选 C。

28. 【答案】A。解析: “解释”指在观察的基础上进行思考, 合理地说明事物变化的原因, 事物之间的联系, 或者是事物发展的规律。“诠释”指对某事的讲解、证明。结合句意可知, 此处用“诠释”更恰当, 由此排除 B、C。再看第三空, “倡导”指率先提议, 此处形容“日本禅宗对中国建窑黑釉茶盏”的态度, 用“推崇”更恰当。故本题选 A。

29. 【答案】A。解析: 第一空, “依托”与“缅怀”不搭配, 排除 B。“赋予”指给予(某种含义); 交给; 寄托(重大任务、使命等)。同样与“缅怀”不搭配, 排除 C。第二空, “浮现”的对象多是人的形象、印象、往事、表情等, 不能是“现象”, 排除 D。A 项“涌现……现象”搭配得当, “屡见不鲜”填入第三空也恰当, 故本题选 A。



30. 【答案】B。解析：第一空，“薪火相传”比喻形骸有尽而精神不灭；后人用来比喻学问和技艺代代相传。不能用来修饰“历史”，排除C。第二空，由“中国的香文化是整个华夏文明中极其重要的组成部分”可知，香文化是中华文明的一个组成部分。“锦上添花”比喻使美好的事物更加美好。与此句意不符，排除A。第三空，“留传”多指技术、技艺、秘方等遗留下来传给后世，不能用来修饰“中华文化发展史”，排除D。故本题选B。

31. 【答案】B。解析：文段由对“设计艺术”的解释引出对“设计艺术教育”的要求，可知文段的主题应是“设计艺术教育”，排除C、D项。由“设计艺术教育要在艺术学方面培养学生的……知识和技能”以及“共同构成了设计艺术教育的培养要素”可知，文段讲述了“设计艺术教育”应培养学生哪些方面的能力，“使学生获得”什么样的知识与技能，即教育目标和内容，B项正确。

32. 【答案】B。解析：文段的尾句提到了一个新的对象“净水器”，依据话题一致的原则，下文内容应当与此相关，选项中只有B项含有“净水器”，故本题答案为B。

33. 【答案】A。解析：文段首先说明了中国“过劳死”问题的现状；然后指出“在具体的社会背景下”，经济发展带来的竞争和“任劳任怨”等观念的影响，导致人们在谈论如何避免“过劳死”时很少着眼于公共层面，而仅止步于个人生活习性的反思上；最后点明主旨——“离开特定的社会背景”，仅止步于个体反思来谈论“过劳死”不能解决实质问题。A项与此主旨相符。B项脱离了“过劳死”这一主题；C项“过劳死”的原因非文段重点，文段强调的是如何避免；D项“全社会亟须改变传统观念”的说法文段未提及，文段意在呼吁对于“过劳死”的公共干预。故本题答案选A。

34. 【答案】C。解析：由“历史的研究和传播，都必须以事实即史料为依据”，“从历史实际出发，实事求是，是历史研究的根本原则”可知A项正确；B项内容是“史料的真实性是历史科学性的保证”的同义转换，正确；由“随意剪裁和拼凑史料”“取其一点，以偏概全”“指鹿为马，颠倒黑白”可知，历史虚无主义是与历史研究实事求是的根本原则相违背的，应坚决反对，D项正确。文段未涉及对历史成就的否定，C项错误。

35. 【答案】D。解析：文段首先指出不同时代的青年有不同的历史使命，接着对此进行了举例说明，最后点明主旨——信息时代，中国青年应担当起作为网络文明建设砥柱中流的青春重任。四个选项中D项对主旨概括得最全面、准确，故为正确答案。

36. 【答案】B。解析：由“礼从仪式、秩序、关系，变成了礼品、送礼”可知，A项说法正确。由“价值直接由金钱衡量，礼物的贵贱高低，成为调节关系的重点……一心不够钱来凑”可知，C、D项说法正确。B项“商家造就了礼品市场”与文段“商家也推波助澜”说法不符，当选。

37. 【答案】C。解析：文段首先介绍了芬兰人间“你还好吗”是需要诚恳的答案，而不是寒暄；接下来指出与芬兰人交谈时要用心倾听，不要打断对方，更不要做肢体接触。文段主要阐述的是与芬兰人交谈时的注意事项。A、D项未突出“芬兰人”，B项未突出“谈话”，均排除。故本题答案为C。

38. 【答案】A。解析：文段主要强调了自信、乐观、坚持对人生的意义。B、D项非文段重点，C项为文段部分内容，均排除。故本题答案为A。

39. 【答案】A。解析：根据就近原则，“只有这样”中“这样”指代的是前面的“就应该积极努力”，即“只有积极努力”才会收获更多的快乐。C项“有好的态度”不如A项“积极努力”直接、明确，故答案选A。

40. 【答案】B。解析：文段采用一问一答的形式点明了主旨，首先提出问题“慈善者可以辩解吗？”然后从理论和实践两个方面作了回答，重点在最后一句话，意思是慈善者无须辩解。A、C、D三项在文段中均没有提及。故答案为B。

41. 【答案】A。解析：文段首先以两个问句，引出哲人对新技术的文化焦虑，然后说



明, 哲人的忧思, 从另一个角度给出了历史的惯例, 即精英比草根更晚接受新事物。C 项推断错误, 由文段无法得出, 排除; D 项“高雅与低俗共舞”在文段没有体现, 排除; B 项推断过度, 由文段举例无法推出“哲人往往……标榜自我”。故本题选 A。

42. 【答案】B。解析: 由第一句话可知 A 项正确, 由第二句话可知 C 项正确, 由倒数第二句话可知 D 项正确。由最后一句话可知, 民歌是慢慢变成了情歌, 而 B 项说的是“民歌等同于情歌”, 说法与原文不符, 故答案为 B。

43. 【答案】D。解析: 文段的重点在转折词“而”之后的句子, 其主要讲了在网络时代企业销售缺少参与消费者交谈的能力。A、B 项文中没有提及, C 项中的“绝对话语权”与“参与消费者交谈”不符。故答案为 D。

44. 【答案】A。解析: 文段首先指出供给是根据需求而定, 粗制滥造的东西若能热卖, 商家就不会去提高产品质量; 接着指出电影业也是如此, 观众的水准不高, 还处于幼稚园的欣赏水平, 就很难促进电影市场的成熟与繁荣。可见文段主要强调的是成熟的电影市场需要成熟的观众, 故答案选 A。

45. 【答案】D。解析: 文段为总分总结构, 首句指出四合院的现状——沦为大杂院, 然后详细举例说明大杂院之杂, 最后点明主旨“如果不……恢复四合院的本来面目, 保护四合院最终是一句空话”。所以文段意在强调的是要恢复四合院的本来面目。故答案选 D。

46. 【答案】B。解析: n 的多次方尾数循环周期为 4, 2015 除以 4 的余数为 3, 原式相当于求 $1^3+3^3+5^3+7^3+9^3$ 的个位数, 即 $1+7+5+3+9$ 的个位数, 为 5。

47. 【答案】C。解析: 设共有 x 人参加比赛, 则 $260x=324+252(x-1)$, 解得 $x=9$, 当其余 7 个人都颠球 240 次时, 颠球最快的学生颠的最多, 为 $252 \times 8 - 240 \times 7 = 336$ 次。

48. 【答案】A。解析: 最后一位数字是奇数, 有 5 种可能, 每次输入正确的概率为 $\frac{1}{5}$, 有三次输入机会, 则支付成功的概率为 $\frac{1}{5}$ 。

49. 【答案】C。解析: 由题意知, A 的销售业绩占四个团队的 $\frac{1}{5}$, B 的占 $\frac{1}{4}$, C 的占 $\frac{1}{3}$, 则 D 的占 $1 - \frac{1}{5} - \frac{1}{4} - \frac{1}{3} = \frac{13}{60}$, 所以 A 团队的销售业绩为 $260 \div \frac{13}{60} \times \frac{1}{5} = 240$ 万元。

50. 【答案】B。解析: 甲乙两种商品各进了 60 件, 各一件的进价和为 $3000 \div 60 = 50$ 元, 设甲商品的进货价为 x 元 / 件, 依题意可得下表:

单件利润	甲	乙
前 40 件	$0.25x$	$0.3(50-x)$
后 20 件	$1.25x \times 0.8 - x = 0$	$(1.3 \times 0.8 - 1)(50-x) = 0.04(50-x)$

可得 $40[0.25x + 0.3(50-x)] + 20 \times 0.04(50-x) = 556$, 解得 $x = 30$ 。

51. 【答案】D。解析: 平均每个学校需要举行比赛 $C_8^2 \div 4 = 7$ 场。

52. 【答案】B。解析: 每条半径上不含两端可镶 $10 \div 0.5 - 1 = 19$ 颗, 圆心上应镶一颗, 则至少要在这个圆上镶钻 $100 + 19 \times 4 + 1 = 177$ 颗。

53. I 答案】D。解析: 一共有 $C_{10}^1 C_9^2 C_7^3 A_4^4 = 302400$ 种不同的分配方法。

54. 【答案】D。解析: 依题意知, 每个工人加工的产品数量加 1 能被 3 和 5 整除, 减 1 能被 4 整除, 结合选项, D 符合。

55. 【答案】D。解析: 设小丽批发了连衣裙 x 件, 则批发了 T 恤 $200 - x$ 件, 依题意价格调整后每件连衣裙减 20 元, 每件 T 恤减 $50 \times (1 - 0.8) = 10$ 元, 有 $20x + 10(200 - x)$



=3500, 解得 $x=150$, 选择 D。

56. 【答案】D。解析: 第一组中, 左边小图形个数依次为 2、3、4, 右边满足第一个—第二个—第三个; 第二组中, 上面小图形个数依次为 1、2、(3), 下面满足第一个—第二个—第三个。

57. 【答案】D。解析: 每个图形中左边的小图形是轴对称图形, 右边的小图形不是轴对称图形, D 项符合。

58. 【答案】A。解析: 含有的小图形的个数依次为 2、5、8、11、14, 构成公差为 3 的等差数列, 应选择含有 17 个小图形的, A 项符合。

59. 【答案】C。解析: 每行两个字母间间隔 2 个字母, 选择 C 项。

60. 【答案】B。解析: 每组中图形的封闭区域数依次为 3、4、5, B 项符合。

61. 【答案】B。解析: 数量换算, 1 个  = 2 个 ☆, 则换算后图形中均有 11 个 ☆。

62. 【答案】A。解析: 第一组图形的直线数均为 12, 第二组图形的直线数均为 13, A 项符合。

63. 【答案】B。解析: 有形磨损的定义要点为: ①设备; ②实体上的磨损或损失。A、D 两项均不符合要点②; C 项不符合要点①。只有 B 项精密仪器因生锈、腐蚀而精密度变低属于有形磨损。故答案为 B。

64. 【答案】D。解析: 特殊意义妄想的定义关键信息为: 认为周围人的言行、日常举动与自己有关以及有特殊意义。D 项中把妻子逗小孩的话当成是对自己的暗示, 即与自己有关且有特殊意义, 符合定义。A、B、C 三项均未体现特殊意义。故答案为 D。

65. 【答案】C。解析: 急性应激障碍的定义要点为: ①急剧、严重的精神打击; ②受刺激后立即发病; ③症状历时短暂。A 项不符合①②; B 项不符合所有定义要点; C 项符合定义; D 项不符合③。故答案选 C。

66. 【答案】B。解析: 根据定义可知, 例证 (1) 属于环境灾害移民, 符合定义①; 例证 (2) 的移民与环境无关, 不属于①②③; 例证 (3) 属于生态移民, 符合定义②。故答案为 B。

67. 【答案】C。解析: 种间竞争的定义要点为: ①不同种群; ②抑制对方。A 项不符合要点①; B 项未体现要点②; D 项是一种互利关系, 不符合要点②。只有 C 项符合定义。故答案为 C。

68. 【答案】D。解析: 显性成本定义的关键信息为: 购买或租用所需要的生产要素的实际支出。A 项的工资、B 项的广告费、C 项的租用场地的费用, 均属于生产要素的实际支出。只有 D 项未体现定义的关键信息。故答案为 D。

69. 【答案】C。解析: 宏观经济预测定义的关键信息为: 以国民经济、部门、地区的经济活动为范围进行的经济预测。C 项是预测企业产品的未来需求, 不符合定义的关键信息。故答案为 C。

70. 【答案】D。解析: 心智技能定义的关键信息为: 借助内部力量调节、控制心智活动。A 项记忆、B 项阅读和作文、C 项心算, 均属于需要借助内部力量调节、控制的心智活动。只有 D 项不符合定义。故答案为 D。

71. 【答案】A。解析: 顽强是褒义词, 顽固是贬义词, 且顽固比顽强程度要深; 果断是褒义词, 武断是贬义词, 且武断比果断程度要深。

72. 【答案】A。解析: 海镜和小蟹是共栖关系, 寄居蟹和海葵也是共栖关系。B 项犀牛和犀牛鸟为互利共生关系。C 项只是生存的地点相同, 并非共栖关系。

73. 【答案】B。解析: 舞台可以用来演出, 灯光可以用来照明。

74. 【答案】A。解析: 桃园结义和望梅止渴均出自三国时期, 草船借箭和画饼充饥也



都出自三国时期。胡服骑射和纸上谈兵出自战国时期, 和题干有所不同。

75. 【答案】C。解析: 作者和著作的关系。《幽谷百合》是巴尔扎克的作品, 《在人间》是高尔基的作品。鲁智深为《水浒传》里的人物; 《入睡的维纳斯》是乔尔乔内的作品, 但其为画作, 且顺序颠倒。

76. 【答案】A。解析: 锄头为一种农具, 可以用来除草; 砂锅是一种厨具, 可以用来煲汤。

77. 【答案】C。解析: 《寄韦珩》的作者是柳宗元, 作品中描述的一种特色建筑是麻栏; 《边城》的作者是沈从文, 作品中描述的一种特色建筑是吊脚楼。A 项《空山》中未出现圆楼这种建筑, B 项《白鹿原》的作者是陈忠实, D 项《四世同堂》中未出现王家大院。

78. 【答案】D。解析: 陈老师和张老师的话为下反对关系, 必有一真, 因只有一人看法正确, 则李老师的的话必为假, 则小贝是外国人, 即有些学生是外国人, 陈老师的说法为真, 张老师的说法为假, 进而可推出所有学生都是外国人。故答案选 D。

79. 【答案】B。解析: 由题干可得: 小詹 < 小陈, 小张 < 小邓, 小李 > 小陈, 小邓 < 小詹, 综合可得: 小李 > 小陈 > 小詹 > 小邓 > 小张。故答案选 B。

80. 【答案】A。解析: 由题干描述可知, 丁同学既不和甲同学相邻, 也不和丙同学相邻, 则只能和乙同学相邻, 再结合甲同学在乙同学的旁边, 可知排序依次为: 丙甲乙丁。即丙同学旁边是甲同学。故答案选 A。

81. 【答案】A。解析: 题干结论为因聘用了大量的辅警而使社会治安状况得到明显改善。A 项聘用辅警需要大量费用和聘用辅警是否起到作用无关, 不能削弱; B 项召开会议、C 项治安排查和 D 项安装电子眼都说明治安的改善是另有他因, 削弱了题干结论。故答案选 A。

82. 【答案】C。解析: 题干由玩电脑游戏的中学生成绩比不玩电脑的中学生成绩好, 得出玩电脑游戏不会影响中学生的学习。A、B 为无关项; C 项说明是因为成绩好才能玩电脑游戏的, 题干推理因果倒置, 削弱了题干推理; D 项有一定的加强作用。故答案选 C。

83. 【答案】C。解析: 题干结论为马拉松运动有助于防治心血管疾病。A 项有一定的加强作用; B 项为无关项; C 项说明是因为没患心血管疾病才能进行马拉松运动, 则题干推理为因果倒置, 削弱了题干结论; D 项马拉松运动的益处对题干起支持作用。故答案选 C。

84. 【答案】D。解析: 由所有的篮球爱好者都爱好足球和有些羽毛球爱好者爱好足球不能推出篮球爱好者和羽毛球爱好者的关系, 二者包含、交叉、全异均有可能, A、B 两项排除; 由有些羽毛球爱好者爱好足球和所有田径爱好者都不爱好足球, 能得出爱好足球的那部分羽毛球爱好者一定不爱好田径, D 项正确, 但不能推出 C 项。故答案选 D。

85. 【答案】A。解析: 不可能所有 = 必然不是所有 = 必然有的不。故答案选 A。

86. 【答案】C。解析: 由材料第一段可知, 所求为 $129143 \div (1 + 10.1\%) = 11XXXX$, 选择 C。

87. 【答案】A。解析: 由材料第一段可知, 所求为 $60174 \div 129143 \approx 60000 \div 130000 = 6 \div 13 = 46.X\%$, 选 A。

88. 【答案】B。解析: 由材料第二段可知, 2013 年中央政府性基金收入为 4232 亿元, 地方本级政府性的为 48007 亿元, $48007 \div 4232 > 11$, B 符合。

89. 【答案】A。解析: 由材料第三段可知, 2013 年地方财政支出为 119272 亿元, 中央本级支出 20472 亿元。 $119272 - 20472 = 98800$ 亿元, A 正确。

90. 【答案】B。解析: A 项, 2012 年地方本级财政收入为 $\frac{68969}{1 + 12.9\%}$, 中央财政收入为 $\frac{60174}{1 + 7.1\%}$, $\frac{68969}{1 + 12.9\%} > \frac{68969}{1.13} = 6XXXX$, $\frac{60174}{1 + 7.1\%} < 60000$, A 错误;



B 项, 由材料第二段可知, 2013 年地方本级政府性基金收入增长率为 40.3%, 增长较快, 可直接选择 B。

验证: C 项, 由材料最后一句话可知, C 项错误;

D 项, 由材料最后一段可知, 教育支出在全国主要重点支出中占比最大, 错误。

91. 【答案】C。解析: 由表格可知, 2012 年末四川省亿元市场个数为 $77+37=114$, 2008 年为 $66+25=91$, 所求为 $\frac{114}{91}-1=\frac{23}{91}\approx 25.3\%$, 选择 C。

92. 【答案】B。解析: 2009 年批发经营为主亿元市场平均每个摊位营业面积为 $\frac{350.6}{68767}$, 2010 年为 $\frac{381.6}{68207}$, 2011 年为 $\frac{379.0}{84950}$, 2012 年为 $\frac{469.1}{111592}$, 比较分子分母, 2010 年的显然大于 2009 年、2011 年, 又 469.1 不到 381.6 的 1.5 倍, 而 111592 大于 68207 的 1.5 倍, 所以 2010 年的最多。

93. 【答案】A。解析: 2012 年, 批发经营为主的亿元市场数比零售经营的高 $\frac{77}{37}-1=\frac{40}{37}\approx 108\%$, 成交额比零售经营的高 $\frac{1473.4}{240.7}-1=\frac{1232.7}{240.7}\approx 512\%$, A 正确。

94. 【答案】C。解析: 观察表格第六、九列的数据, 2008 年市场平均成交额明显大于 2009 年, 首先排除 A 项。与 2009 年相比, 2011 年成交额是 2009 年的 2 倍以上, 市场数不足 2 倍, 所以 2011 年平均成交额大于 2009 年, 排除 D 项。比较 2009 年与 2010 年, 2009 年为 $\frac{135.4}{26} > \frac{130}{26} = 5$, 2010 年为 $\frac{160.2}{36} < \frac{180}{36} = 5$, 所以选择 C 项。

95. 【答案】D。解析: 观察表格最后一列, 零售经营为主亿元市场成交额 2012 年明显低于 2011 年, D 项图形中 2012 年折线应低于 2011 年, 错误。

96. 【答案】C。解析: 由表格第三、五行数据可知, 2012 年公路货物运输量为 $\frac{1484.8}{1+12\%}$, 民航货物运输量为 $\frac{8.0}{1+14.3\%}$, 所求为 $\frac{1484.8}{1+12\%} \div \frac{8.0}{1+14.3\%} = \frac{1484.8 \times 1.143}{8 \times 1.12} \approx \frac{1500}{8} = 187.5$, 最接近的选项为 C。

97. 【答案】B。解析: 根据表格数据可知, 2012 年铁路旅客运输周转量为 $\frac{310.1}{1+2.3\%} \approx \frac{310.1-300 \times 0.023}{1.023-0.023} \approx 303$, 水路旅客运输周转量为 $\frac{2.7}{1-1.3\%}$, 所求为 $\frac{310.1}{1+2.3\%} + \frac{2.7}{1-1.3\%} \approx 303+2.7=305.7$ 亿人公里, 最接近的选项为 B。

98. 【答案】A。解析: 观察表格第 3—6 行数据, 首先排除 C 项民航; 铁路同比增长率只有 0.3%, 增长额约为 $820 \times 0.3\% = 2.46$, 水路增长额为 $\frac{124.3}{1+20.1\%} \times 20.1\% \approx \frac{124}{6} = 20.67$, 公路增长额为 $\frac{1484.8}{1+12\%} \times 12\% \approx 1484.8 \times 0.1 = 148.48$, 选择 A 项。

99. 【答案】A。解析: 由表格数据估算可知, 2012 年 A 省货物运输方式中, 只有公路货物运输周转量大于 1000, 为最大, 选择 A 项。

100. 【答案】C。解析: A 项, 根据表格最后一列数据可知, 2013 年旅客运输周转量同



比增长率为 10.6%，大于货物运输的 8.1%，正确；

B 项，根据文字材料可知，2013 年高速公路通车里程约为铁路营运里程的

$$\frac{5046}{3518} = 1 + \frac{1528}{3518} = 1.43$$

倍，正确；

C 项，根据表格数据最后四行，首先排除水路和铁路，比较公路和民航旅客运输周转量的增加地，公路约为 $\frac{1067.8}{1+6.3\%} \times 6.3 \approx 1000 \times 6.3\% = 63$ ，民航约为

$$\frac{543}{1+26.2\%} \times 26.2\% > \frac{543}{1+25\%} \times 25\% = 108.6$$

，民航的增加量最多，错误；直接选择 C 项。

验证 D 项：2013 年公路旅客运输周转量占全省的比重为 $1067.8 \div 1923.6 > 50\%$ ，正确。