



2014 年河南公务员考试

《行政职业能力测验》真题

(下半年)



扫描二维码, 关注厚职公考官方公众号获取更多真题和资料

厚职公考网 (www.houzhiwang.com) 整理提供



2014 年河南公务员考试行测真题及答案解析

2014 年河南公务员考试行测真题及答案 PDF 版下载 (答案解析请下载 PDF 版查看)

第一部分 常识判断

1. 完善公共服务体系, 推进基本公共服务均等化, 是“十二五”时期保障和改善民生的重要任务。下列属于推进基本公共服务均等化举措的是:

- A. 加强农民培训的财政投入, 加速培育出一批农村实用人才带头人、农业科技示范户和农民企业家
- B. 将小镇和农村地区收取的城市建设维护税优先用于农村人居环境公共设施建设和完善
- C. 坚持预防为主、以农村为重点、强化政府责任和投入, 完善国民健康政策, 鼓励社会参与, 努力建设覆盖城乡居民的公共卫生服务体系
- D. 根据城镇化过程中乡村人口减少的趋势, 优化村镇布局, 促进村镇适度集聚

2. 我国刑法给犯罪嫌疑人定罪的一项基本原则是“罪刑法定”。对法律没有规定的侵犯公共利益的行为, 应该:

- A. 不定罪
- B. 依照习惯定罪
- C. 依照法理定罪
- D. 依照以征判例定罪

3. 关于法律援助, 下列说法不正确的是:

- A. 需要援助者应向法律援助机构提交书面申请
- B. 法律援助的形式为诉讼法律服务, 不包括非诉讼法律服务
- C. 法院对受援对象减免案件受理费及其他诉讼费
- D. 以经济困难者、残疾人、弱者或经人民法院指定的特殊人群为对象

4. 甲、乙、丙出资 5 万元共同购买一辆车。之后乙欲转让其对该车的份额。乙通知甲、丙后, 甲、丙均表示愿出 5 万元买下乙的份额。那么, 关于乙的份额, 下列说法正确的是:

- A. 应卖给甲
- B. 应卖给丙
- C. 应卖给先向乙表示购买者
- D. 由乙决定卖给甲或丙

5. “与究天人之际, 通古今之变, 成一家之言”这句话出一人之口的是:

- A. 史家之绝唱, 无韵之离骚
- B. 文起八代之衰, 道济天下之溺
- C. 人固为一死, 或重于泰山, 或轻于鸿毛
- D. 水能载舟, 变能覆舟

6. 下列与抗日战争相关的事件, 按发生时间称后排列的是:

- A. 重庆大轰炸南京大屠杀湘西会战鄂西会战
- B. 九一八事变七七事变百团大战湘西会战
- C. 七七事变重庆大轰炸湘西会战百团大战
- D. 重庆大轰炸七七事变鄂西会战湘西会战

7. “吾爱吾师, 吾更爱真理”中的“吾”和“吾师”分别指谁?

- A. 吾指亚里士多德, 吾师指柏拉图



- B. 吾指莫泊桑, 吾师指福楼拜
 - C. 吾指庄子, 吾师指老子
 - D. 吾指颜回, 吾师指孔子
8. 下列各句与“塞翁失马, 焉知非福”蕴涵哲理相同的是:
- A. 尺有所长, 寸有所短
 - B. 乐极生悲, 否极泰来
 - C. 千里之行, 始于足下
 - D. 动中有静, 静中有动
9. 明清两代每两三年在京城举行一次考试, 参加考试的是各省举人及国子监监生。这一考试是:
- A. 乡试
 - B. 院试
 - C. 殿试
 - D. 会试
10. 下列哪部书典型反映了魏晋时期人们的精神风貌?
- A. 《山海经》
 - B. 《搜神记》
 - C. 《桃花源记》
 - D. 《世说新语》
11. 下列说法错误的是:
- A. 黄梅戏是流行于湖北黄梅的地方戏曲
 - B. 我国第一部新歌剧是《白毛女》
 - C. “信天游”流行于陕北一带
 - D. 京剧已经有 200 多年历史
12. 下列诗句描述的情境, 发生在冬季的是:
- A. 小荷才露尖尖角, 早有蜻蜓立上头
 - B. 月落乌啼霜满天, 江枫渔火对愁眠
 - C. 无可奈何花落去, 似曾相识燕归来
 - D. 忽如一夜春风来, 千树万树梨花开
13. 以下有关世界地理表述正确的是:
- A. 欧洲和亚洲之间以苏伊士运河为界
 - B. 澳大利亚是独自占有一个大陆的国家
 - C. 泰晤士河是瑞士的主要河流
 - D. 世界上含盐度最高的海是波罗的海
14. 下列说法不正确的是:
- A. 宇宙中的星球除了恒星外都不会发光
 - B. 太阳黑子会对地球磁场产生干扰
 - C. 太阳系中距离太阳最远的行星是冥王星
 - D. 春分时, 太阳光直射在赤道附近
15. 近年来, 我国多座城市遭到暴雨袭击。这些灾害性天气现象与“雨岛效应”有关。雨岛效应集中出现在汛期和暴雨之时, 易形成大面积积水, 甚至形成城市区域性内涝。下列关于雨岛效应的成因说法错误的是:



- A. 城市热量的超常排放使市区内上升气流加强, 有利于云的形成
- B. 城市空气中含有较多的凝结核, 吸湿性结核增多容易成云致雨
- C. 城市高楼大厦林立摩擦阻碍作用使云层移速减慢, 延长下雨时间
- D. 城市绿地和水体增加了空气湿度, 有利于低云层在市区上空增多

16. 以下有关动物的说法不正确的是:

- A. 珊瑚礁是一种由软体动物组成的动物群
- B. 孵化小海龟时的温度决定了它们的性别
- C. 现存最原始的哺乳嘴兽仅分布于澳大利亚
- D. 青蛙和乌龟的体温会随环境的变化而变化

17. 以下三种食品安全标志所代表的产品标准对产品的要求由高到低排列正确的是 ()。



①



②



③

- A. ①②③
- B. ①③②
- C. ③①②
- D. ②③①

18. 下列关于医学常识的说法, 错误的是 ()。

- A. 站立服药时食道呈现自然垂直状态, 有利于药物下行没到胃内, 便于尽快吸收
- B. 服热性药时应配食热性食物, 服凉性药时应配食凉性食物, 否则影响药效
- C. 给伤口消毒用酒精并非纯度越高越好
- D. 给病人输氧时, 输纯氧效果最好

19. 关于奥林匹克运动会, 下列说法正确的是 ()。

- A. 国际奥委会的总部设在美国纽约
- B. 首位夺得奥运柔道女子冠军的是中国选手
- C. 2016 年奥运会将在日本东京举办
- D. 第一届现代奥动会是在英国伦敦举行的

20. 关于生活常识, 下列表述不正确的是 ()。

- A. 煮肉时, 把肉放入热水中煮则汤味鲜美, 放在冷水里慢慢煮则肉味鲜美
- B. 空腹吃进大量柿子, 会与胃酸凝结成块, 形成柿石, 引起胃痛、呕吐
- C. 自来水中含有氧, 煮饭时它会破坏粮食中所含的维生素 B1
- D. 吃过大蒜后, 喝杯牛奶, 可减少大蒜残留在口中的异味

第二部分 言语理解与表达



21. 罗斯福的《正义论》被誉为 20 世纪最重要的政治哲学著作, _____ 着整个当代政治哲学的发展。罗斯福说, 正义是社会制度的首要德性, 一如真理是思想体系的最高价值。因此, 当我们评价制度时, 最重要的是看它是否合乎公正。如果不公正, 我们便有责任改变甚至 _____ 它。

- A. 推动 淘汰
- B. 影响 推理
- C. 激励 颠覆
- D. 指导 优化

22. 如果你的生活中没有伟大、高贵的人和有智慧的人怎么办? 请不要变得麻木, 不要 _____, 不要放弃向生活学习的机会。因此至少在你的周围还有树, 特别是大树, 它会教会你许多东西。一棵大树, 就是你的亲人和老师, 而且也可以毫不夸张地说, 它就是伟大、高贵和有智慧的人。

- A. 自以为是
- B. 茫然失措
- C. 随波逐流
- D. 自暴自弃

23. “凑足一群人就可以走了, 和红绿灯无关”, 略带自嘲和无奈的“中国式过马路”, _____ 着集体漠视规则的人们, _____ 了城市交通管理的软肋。

- A. 调侃 戳中
- B. 讥讽 击中
- C. 嘲弄 戳痛
- D. 挖苦 打中

24. 条纹, 作为最简洁而又生机勃勃的视觉设计语言, 自石器时代起便被广泛运用。彩色采编依旧不断 _____ 于当今时装界, 新锐设计师们拒绝了浮华, 但同样 _____ 着高调。

- A. 流行 维持
- B. 活跃 蕴含
- C. 风靡 保持
- D. 时兴 延续

25. 石油峰值论认为, 石油产量会达到最高点, 之后不可避免地开始下降。石油峰值几乎是确定的事, 但仍然存在两个问题: 它究竟何时出现? 世界是否能够及时研究出替代能源? _____ 的观察家并不相信石油峰值会在 2020 年前出现, 但一些石油公司承认他们此前夸大了地下的石油储量。因此, 这更引起人们的 _____; 我们可能已经过了这个峰值。

- A. 激进 争议
- B. 理智 恐慌
- C. 乐观 担忧
- D. 冷静 怀疑

26. 一年以来, 欧美国家示威、罢工活动 _____, 暴力事件频发, 社会乱象 _____, 显示出在经济持续不景气的背景下西方发达国家内部矛盾激化, 社会危机加剧。

- A. 此消彼长 惊心动魄
- B. 此起彼伏 层出不穷
- C. 愈演愈烈 屡见不鲜
- D. 如火如荼 变本加厉



27. 毋庸讳言, 由于历史的原因, 中国看待西方总有一个_____的影子, 那就是历史的悲情。如果说, 这种悲愤过去的外在表现主要是悲, 那么今天的表现形式更多的是傲, 两者的内在逻辑_____ ; 我们缺乏与西方世界在心理上真正的平等对视。

- A. 挥之不去 一脉相承
- B. 纠缠不清 如出一辙
- C. 阴魂不散 一以贯之
- D. 排解不掉 一体相连

28. 赵景深在《文心剪影》里说: “他(叶圣陶)的复信措词谦抑, 字迹圆满丰满, 正是出他那_____而又诚实的心。”正如当年他主编《小说月报》曾精心培育了一大批后来成为新文学史上的著名作家时那样。他那_____的精神和工作态度, 给予年轻一代的教育、鼓舞的力量是无法_____。

- A. 谦和 公而忘私 估量
- B. 谦卑 兢兢业业 估价
- C. 率真 孜孜以求 想象
- D. 正直 大公无私 衡量

29. 黄土高原的形成和青藏的隆升, _____了侵蚀和风华的速度, 使得高原周围的低洼地区_____了大量卵石、沙子和硬细的颗粒, 以至只要大量骤起, 西部地区就_____飞沙走石、尘土弥漫的景象。

- A. 提升 沉淀 产生
- B. 加快 堆积 形成
- C. 提高 聚集 呈现
- D. 加剧 散落 造成

30. 2012年8月, 美国“好奇号”火星车在火星表面着陆, 这是人类迄今在其他星球登陆的最精密的移动科学实验室。“好奇号”将测量火星岩石和泥土中不同化学元素的丰度, _____火星表面的辐射环境及其对未来登陆火星宇航员的危害, _____火星是否具有适宜生命存在的环境, _____行星变化的线索。

- A. 评价 找寻 跟踪
- B. 判断 考察 挖掘
- C. 测算 探究 注意
- D. 评估 探索 寻找

31. 层层关卡, 没有堵住问题洋奶粉流向市场, 这暴露出我国食品安全监管的缺位和割裂。专家认为, 食品安全生产和监督都容不得一丁点的侥幸心理。企业、监管部门都应该有“守门”意识, 出了问题捂着、掖着, 中会带来市场信任和政府公信力的丧失。

这段文字中的“守门”主要是指企业和监管部门应把好什么关?

- A. 品牌关
- B. 国门关
- C. 良心关
- D. 质量关

32. 台湾某著名音乐人士近日用“喂鸡”比喻当下音乐市场中唱片公司的做法, 他说: “原本一群鸡要喂鸡饲料才会长大。突然有家唱片公司喂碎报纸, 发现有些鸡长得不错, 于是其它唱片公司模仿, 所有鸡就开始吃碎报纸, 以后你喂鸡饲料, 它们反而吃不惯了。”

这位音乐人所说的主要意思是 ()。

- A. 廉价低劣的音乐只能使听众享受低端的快乐



- B. 低劣的音乐作品培养不出具有高品位的听众
- C. 音乐市场良莠不齐, 消费者应擦亮眼睛, 学会选择
- D. 唱片公司群起推销低劣的音乐, 降低了听众的审美水平

33. 在使用繁体字的香港和台湾, 如今越来越多年轻人的生活方式正日渐西方化; 而大陆青少年接触港台的电脑游戏、流行歌曲等现代时尚元素, 看到的也多是繁体字, 但并未得到传统文化的熏陶。与此相反, 不少天天使用简体字的人, 照样深得传统文化的熏陶。如果分别阅读用简体字和繁体字书写的同一篇古文、同一首唐诗, 文字形式对读者解读作品文化意蕴的影响微乎其微。传统文化也可以电影、电视等多种方式植根民间思想观念与生活方式当中, 不一定要借助繁体字作为媒介。

这段文字意在说明 ()。

- A. 简体字不会削弱传统文化的意蕴
- B. 简体字代替繁体字确实利无弊小
- C. 传统传统文化未必需要借助繁体字
- D. 应将传统文化融入现代时尚元素中

34. 2008 年冬天, 美国有超过三分之一的商业蜂箱出现了蜂群崩溃症候群。某些蜂群中的所有工蜂突然消失或死亡, 导致蜂窝中只剩下孤独的蜂王。这种综合症已经传到了欧洲许多国家, 如法国、比利时、意大利、葡萄牙和西班牙等。如果没有这些蜜蜂, 许多与人类生活密切相关的作物也将无法存在, 如大豆、棉花、杏、葡萄、苹果、向日葵等。全球几乎三分之一的食物都与蜜蜂的行为有关。如果它们灭绝, 随之而来的将是食物紧缺、饥饿、暴力和骚乱等严重社会问题。

下列无法从原文推出的是 ()。

- A. 稍等
- B. 稍等
- C. 稍等
- D. 稍等

35. 在中国, 中秋节是仅次于春节的重要节日, 这是因为人们在农耕文化发展过程中, 认识到季节的重要性, 故很早就有春天祭日、拜月发展到赏月, 但未固定在哪一天。8 世纪后中秋节成型, 八月十五在秋季正中, 故称中秋。此时正是桂花飘香之际, 人们面对人间桂, 联想月中桂, 于是在赏月、拜月之外又添了赏桂的习俗。最迟在 9 世纪, 吃月饼的中秋习俗已经出现。

这段文字意在说明 ()。

- A. 中秋节有哪些习俗
- B. 中秋节的形成过程
- C. 古人重视中秋节的原因
- D. 农耕文化对中秋习俗的影响

36. 超级火山的爆发强度将超过人类历史上任何一次火山爆发, 研究人员相信, 当岩浆升到地壳中后又无法突破时, 就有可能爆发超级火山。压力下产生这种结果, 可能意味着当岩浆最终爆发冲出时, 某广阔区域内的某一点将被完全毁灭。世界末日论认为, 这种事件将喷发出数百万吨重的残骸, 并向大气中释放大量有毒气体, 让整个世界陷入到所谓的核冬天。最糟糕的是, 它可能将部分地区的生命、甚至整个地球的生命都消灭干净。

这段文字主要揭示的是 ()。

- A. 超级火山造成的危害
- B. 超级火山爆发的原因



- C. 地球生命面临的威胁
- D. 世界末日论的基本观点

37. 在人类寻求安定的社会秩序的过程中, 法律始终只是一种实现路径, 并不是所有的社会关系都能依靠法律有效调整, 也并不是所有的立法都能解决现实中的复杂问题。轻视立法固然不可取, 但把眼界过于集中在立法的书面活动上, 动辄呼吁加强规则制定, 也未必是一种追求法治的理性态度。

根据这段文字, 作者批判的是什么观点或态度? ()

- A. 重立法而轻执法
- B. 重法治而轻道德
- C. 社会问题应当通过立法解决
- D. 完善的法律体系是法治的前提

38. 研究人员利用微小海洋生物的化石来重建自最后一个冰河时代结束至今的全球气温。数据显示, 地球在数千年中持续降温, 然后在 20 世纪出现前所未有的逆转。这进一步表明现代的全球变暖并非自然形成, 而是二氧化碳排放迅速增加。海洋化石数据显示, 1900 年至 1910 年是过去 11300 年以来最冷的十年之一, 比其他 95% 的年份都要冷, 不过该研究指出, 100 年后的 2000 年至 2010 年是最暖和的十年之一。全球气温记录只能追溯到 1880 年, 2000 年至 2010 年是此间气温最高的十年。

下列表述与原文不相符的是 ()。

- A. 二氧化碳排放需积累到一定程度才会导致温室效应
- B. 利用化石重建的全球气温时间跨度远超已有的气温记录
- C. 工业革命后的相当一段时间内, 二氧化碳排放增多, 全球气温仍持续走低
- D. 研究人员重建的 2000 至 2010 年气温与全球气温记录有出入

39. 我们常说: 无知者无畏。这是一种贬义的说法。但是, 有时候, 正是由于不知道面临着怎样的境况, 我们才会无畏地去面对生活, 也相信自己能够克服任何困难。但是, 一旦我们清楚地看到了自己的处境, 我们反而会被自己的心灵限制住, 而无法成功战胜那些本来可以克服的困难。任何时候, 都不要被自己内心的恐惧震慑, 这才是我们成功的开始。

下列说法与这段文字不相符的是 ()。

- A. 无知者未必无畏
- B. 恐惧来自我们的内心
- C. 清楚自己的处境不一定是好事
- D. 战胜内心恐惧才可能取得成功

40. 中国国家药物管理部门规定, 药品的化学名和通用名由国家药典和药品管理部门制定, 但商品名由厂家制定。正是这后一项规定。给许多药品的改名和多名创造了条件。在我国, 近几年具有多种名称的常用药品有 200 多种, 其中有 4 个药名的占 20%, 5 个药名的占 25%, 6 个药名的占 25%, 7 个药名的占 15%, 还有 15% 的药有 10 个以上的名称, 有的药有 20 多个名称, 最多的有 40 多个名称。所有这些具有多种名称的药都是名符其实的“换汤不换药”, 基本内容不变, 只是包装或个别成分改变, 疗效则安全一致。

这段文字意在说明:

- A. 药品的商品名可由厂家自行决定
- B. 我国的常用药品都具有多种商品名
- C. 一药多名的现象在我国非常普遍
- D. 具有多种名称的药其疗效完全一致

41. 有关发展的早期文献几乎都认定, 发展中国家由于贫穷无力建立社会保障制度。这一诊断, 在很大程



度上成为众多发展中国家在普及社会医疗保险方面无所作为的理由。时至今日, 在绝大多数发展中国家, 占人口大多数的非正规就业者及其家庭成员一般都被排斥在保险计划之外。然而事实证明, 即使是最穷的国家, 也能通过对本国人口中的脆弱群体提供公共支持而创造出丰富多样的社会保障形式来。

这段文字的主旨是 ()。

- A. 社会保障制度与经济社会发展阶段有关
- B. 发展中国家的社会保障制度很不健全
- C. 弱势群体应是发展中国家社会保障制度关注的重点
- D. 贫穷不能成为发展中国家对社会保障无所作为的理由

42. 私募的“钱途”在于退出。私募基金有一个好退路, 才能安分守己。眼下, 中国本土有 130 亿私募等待退出。一般情况下, IPO (公开募股) 是私募退出的最佳选择。由于上市退出回报率最高, 私募自然会将 IPO 奉为神灵。从政府角度, 可以通过适当降低上市标准, 改审核制为注册制等方式降低 IPO 门槛。还可以通过大力培育和发展产权交易市场, 实现私募资金的退出。

这段文字旨在说明 ()。

- A. 政府应完善私募基金的退出机制
- B. 私募基金的退出是当前亟待解决的问题
- C. IPO (公开募股) 是私募退出的首要选择
- D. 大力培育和发展产权交易市场是私募退出的途径

43. 钱钟书绝对不敢以大师自居。他从不厕身大师之列。他不开宗立派, 不传授弟子, 《谈艺录》和《管锥编》是他的读书心得, 供会心的读者阅读欣赏。他偶尔听到入耳的称许, 会惊喜又惊奇。

这段文字以“钱钟书绝对不敢以大师自居”起笔, 旨在说明钱钟书 ()。

- A. 孤芳自赏
- B. 不拘小节
- C. 特立独行
- D. 标新立异

44. 一位搏击高手参加比赛, 自负地以为一定可以夺得冠军, 却不料在最后的赛场上遇到一个实力相当的助手。搏击高手发觉, 自己竟然找不到对方的破绽。他觉得很羞耻, 愤愤不平地回去找到师父, 央求师父找出对手的破绽。师父笑而不语, 在地上划了一道线, 要他在不擦掉这条线的前提下, 高潮让这条线变短。搏击高手苦思不解, 请教师父。师父在原先那条线的旁边, 又划了一道更长的线, 师父说: “_____。”

填入划横线部分最恰当的一句是 ()。

- A. 短兵相接, 智者为王
- B. 狭路相逢, 勇者必胜
- C. 知己知彼, 百战不殆
- D. 勤学苦练, 敌弱我强

45. 在当前社会, 人与人之间的激烈竞争在所难免, 但不少人因为得失心较重, 做事时不惜违反公德伦理和规则秩序, 最后不仅很难占到便宜, 有时反而会害了自己。随着制度越来越健全, 太重得失而逾规的行为只能是搬走石头砸自己的脚。比如, 运动员们每日辛苦训练就是为了在比赛中获得奖牌。当他们盼望已久的比赛来临时, 有些运动员会特别紧张, 甚至有意无意地去做一些违规的事情。

这段文字意在说明 ()。

- A. 不能因为太重得失而做违规的事
- B. 健全的比赛规则有助于公平竞争



C. 保持良好心态才可能取得好成绩

D. 运动员应该树立正确的竞争观念

46. ①“国家战略”一词, 最早出自美国

②最近几年, 由于国家领导人以及社会各界的倡导, 全民阅读问题已经引起广泛的重视

③中国学术界对“国家战略”一词尚无统一定义

④我国先后提出对知识产权国家战略, 能源问题国家战略等, 但遗憾的是一直没有把全国阅读作为国家战略

⑤其任务是依据国际国内情况, 综合运用政治、军事、经济、科技、文化等国家力量, 策划指导国家建设与发展、维护国家安全, 达成国家目标

⑥一般认为, 它是指导国家各个领域的总方略

将以上 6 个句子重新排列, 语序正确的是 ()。

A. ①⑥⑤③④②

B. ①③⑥⑤④②

C. ③⑥①⑤②④

D. ③①⑥⑤④②

47. ①大自然是个有机整体

②只要其中一个要素发生变化, 就会引起其他要素的相应变化

③地理环境各个要素之间存在着相互联系、相互影响、相互渗透、相互制约的依存关系

④一个环节紧扣着另一个环节, 一个过程向另一个过程转化

⑤并直接或间接地影响到人类的生存和发展

⑥最后必然会导致整个地理环境由量变发展到质变

将以上 6 个句子重新排列, 语序正确的是 ()。

A. ③①②④⑤⑥

B. ①②④⑥⑤③

C. ①③②④⑥⑤

D. ③①②⑥⑤④

48. 生物多样性是生态系统稳定性的基本保障, 这是充满生命的地球的基本特征, 也是人类赖以生存的无价之宝。但是, 人类活动正在以惊人的速度减少生物多样性。20 世纪以来, 平均每天有一个物种灭绝, 而进入 90 年代, 科学家们估计每天灭绝 140 个物种, 因而全世界有 10% 的高等植物和 3/4 的鸟类的生存受到威胁, 全球 270 种龟类爬行动物中的 42%、150 种灵长目中的 2/3 濒临灭绝。

这段文字意在强调 ()。

A. 多样的地球生物的种类正呈锐减趋势

B. 生物多样性是人类赖以生存的基础

C. 人类活动对地球生态系统产生严重影响

D. 如何保护地球生物多样性

49. 常常被感动而充满激情的人是有福的。我或许属于其中之一。故我想, 感动是由于我深爱着世上一切美好的事物, 甚至比别人更留意也更钟情于它们。而这些美好的事物也仿佛是我的朋友和亲人。也同样爱着、留意着、钟情着我。每次小小的感动都会洗净我灵魂中某个小小的斑点和污渍, 每一次深深的感动都有可能斩断我性情中某一段深深的劣根。日复一日, 年复一年, 感动使我的内心变得清洁、明亮, 丰富而又宽敞, 使我面对每一轮崭新的日出都能赢得一个全新的自我。



这段文字主要告诉我们 ()。

- A. 人应该有不断完善自我的意识
- B. 充满爱的人才有可能获得幸福
- C. 提升人格境界需要持之以恒
- D. 人应该对美好事物充满感情

50. _____。比如工业化的历史, 就包含了很多内容, 首先是现代生产发展所引起的物质财富的快速增长。由于我们当然对工业化持积极的态度。但另一方面, 从生态环境角度看, 随着工业化的推进, 大量资源被消耗, 很多地方被污染, 生态破坏对人类造成的危害会长期存在。这样, 工业化在不同时间段内呈现两种形象, 短时间内我们享受了生活, 但从长时段来看, 我们可能牺牲了未来。

填入划横线部分最恰当的一句是 ()。

- A. 我们用多重的时间来理解和评判历史, 就会出现与过去不同的认识
- B. 历史是分层的, 长时段的历史决定了其他时段历史的变化
- C. 当我们利用线性的时间将历史事件串联在一起时, 就呈现出一种因果关系
- D. 我们研究历史时难免会有局限性, 经常受时间因素的影响

第三部分 数量关系

51. 正整数 a 乘以 1080 得到一个完全平方数, 问 a 的最小值是 ()。

- A. 15
- B. 10
- C. 30
- D. 60

52. 某火车站有一、二、三号三个售票窗口, 某天一号以外的窗口卖出了 746 张票, 二号以外的窗口卖出了 726 张票, 三号以外的窗口卖出了 700 张票。问当天该站共售车票多少张?

- A. 1086
- B. 988
- C. 986
- D. 980

53. 用篱笆围成一个面积为 625 平方米的正方形菜园, 现用总长度为 100 米的篱笆将菜园分隔成面积相同的小菜园, 问最多能分成多少个小菜园?

- A. 9
- B. 12
- C. 5
- D. 8

54. 商店促销某种商品, 一次购买不超过 10 件, 每件 5 元; 超过 10 件, 超过部分每件 3 元。甲、乙两人分别购买此种商品, 甲比乙多付 19 元, 则甲、乙共买了多少件?

- A. 22
- B. 21
- C. 20
- D. 19

55. 某办公室 5 人中有 2 人精通德语。如从中任意选出 3 人, 其中恰有 1 人精通德语的概率是多少? ()



- A. 0.5
- B. 0.6
- C. 0.7
- D. 0.75

56. 将 7 个大小相同的桔子分给 4 个小朋友, 要求每个小朋友至少得到 1 个桔子, 一共有几种分配方法? ()

- A. 14
- B. 18
- C. 20
- D. 22

57. 三个学生各购买一批课外书, 小明和小强的购买课外书数量总和比小军的 3 倍多 4 本, 小明和小军购买的课外书数量总和比小强的 2 倍少 2 本, 若小明给小军 3 本课外书, 则两人购买的课外书一样多, 问小明买了多少本课外书? ()

- A. 9
- B. 10
- C. 11
- D. 12

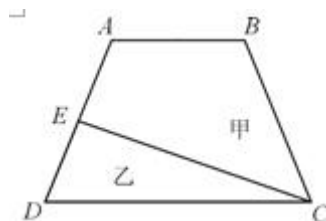
58. 有一堆围棋子。白子颗数是黑子的 3 倍。每次拿出 5 颗白子、3 颗黑子, 经过若干次后, 剩下的白子是黑子的 9 倍。问原因白子最少有几颗? ()

- A. 33
- B. 66
- C. 22
- D. 27

59. 两个半径不同的圆柱形玻璃杯内盛有一定量的水, 甲杯的水位比乙杯高 5 厘米。甲杯底部沉没着一个石块, 当石块被取出并放进乙杯沉没后, 乙杯的水位上来了 5 厘米, 并且比这时甲的水位还高 10 厘米, 则可得甲杯与乙杯底面积之比为 ()。

- A. 3: 2
- B. 1: 2
- C. 2: 3
- D. 3: 5

60. 如图 ABCD 是一个梯形, E 是 AD 的中点, 直线 CE 把梯形分成甲、乙两部分, 其面积之比是 15: 7. 问上底 AB 与下底 CD 的长度之比是 ()。



- A. 5: 7
- B. 6: 7



C. 4 : 7

D. 3 : 7

61. A、B、C、D 四个工程队修建一条马路, A、B 合作可用 8 天完成, A、C 或 B、D 合作可用 7 天完成, 问 C、D 合作能比 A、B 合作提前多少天完成? ()

A. 16/9

B. 15/8

C. 7/4

D. 2

62. 一组工人要完成相邻 2 列火车的卸货任务, 其中卸完 A 列火车的货物所需的时间是 B 列火车的 2 倍。他们从上午 10 点开始工作, 全组人先一起卸载 A 列火车的货物, 到 12:30 时, 分出一半人去卸载 B 列火车的货物, 下午 14 点时, A 列火车的货已卸载完, B 列火车剩下的货物需要 14 人共同工作 1 小时才能卸载完。如该组工人每人的工作效率相同, 则该组工人一共有多少人? ()

A. 28

B. 24

C. 20

D. 16

63. 张先生在某个闰年中的生日是某个月的第四个也是最后一个星期五, 他生日的前一个和后一个月正好也只有 4 个星期五。问当年的六一儿童节是星期几? ()

A. 星期一

B. 星期三

C. 星期五

D. 星期日

64. 一辆车从甲地开往乙地, 如果提速 20%, 可以比原定时间提前 1 小时到达, 如果以原速行驶 120 千米后, 再将速度的最高 25%, 则可提前 40 分钟到达。问甲乙两地相距多少千米? ()

A. 300

B. 270

C. 250

D. 240

65. 公司举办的内部业务知识竞赛有若干人参加, 所有参赛者获得的名次之和为 300, 且所有人没有并列名次。其中, 销售部门、售后服务部门和技术部门参赛者获得的名次平均数分别为 11.3、10.4 和 9.2, 问其他部门获得的名次最高为多少? ()

A. 16

B. 18

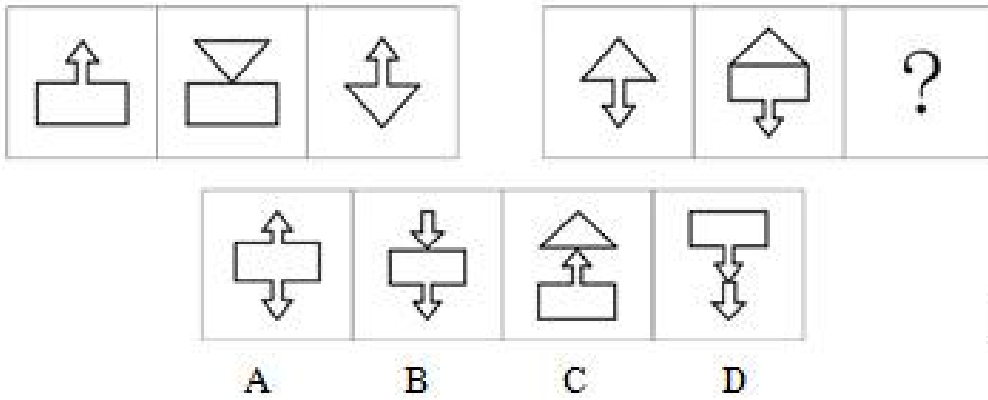
C. 20

D. 21

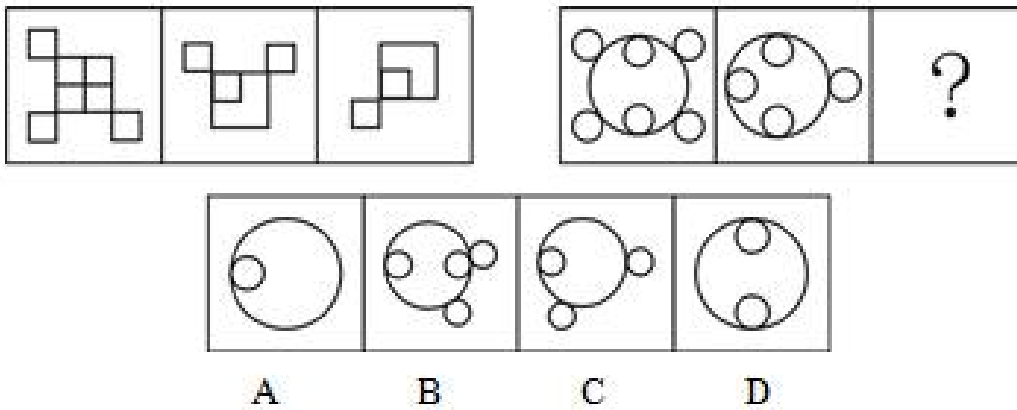
第四部分 判断推理

一、图形推理

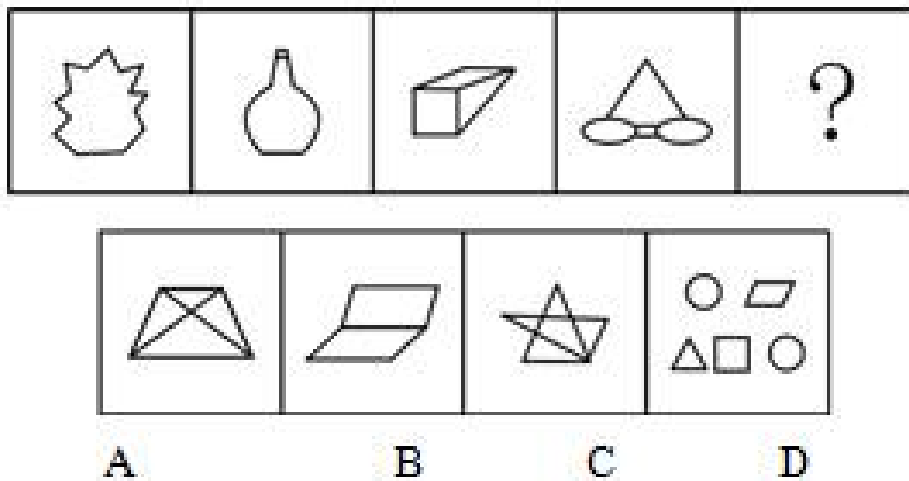
66. 从所给的四个选项中, 选择最合适的一个填入问号处, 使之呈现一定的规律性。



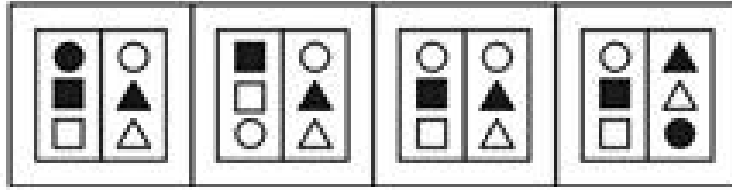
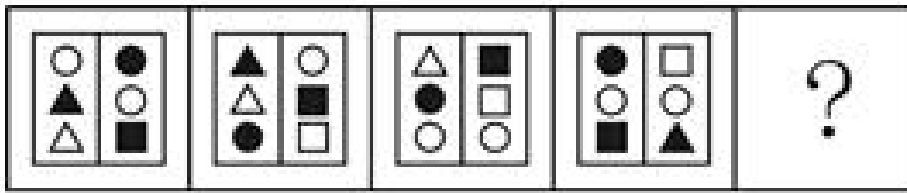
67. 从所给的四个选项中, 选择最合适的一个填入问号处, 使之呈现一定的规律性。



68. 从所给的四个选项中, 选择最合适的一个填入问号处, 使之呈现一定的规律性。


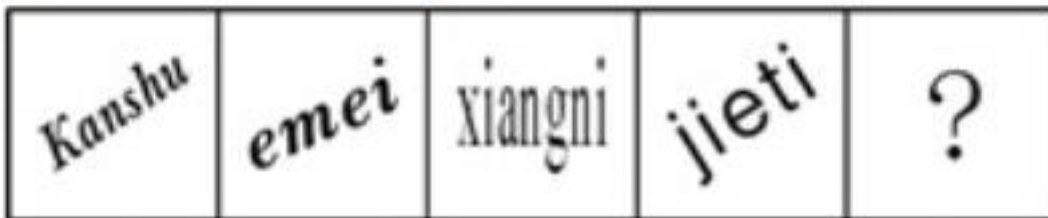


69. 从所给的四个选项中, 选择最合适的一个填入问号处, 使之呈现一定的规律性。



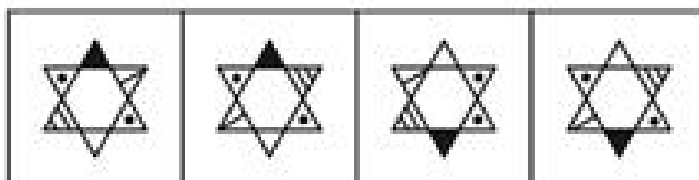
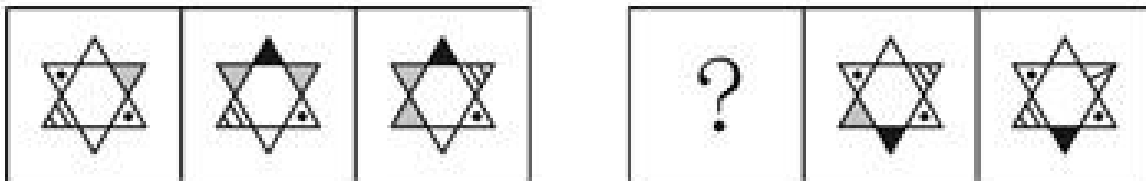
A B C D

70. 从所给的四个选项中, 选择最合适的一个填入问号处, 使之呈现一定的规律性。




A B C D

71. 从所给的四个选项中, 选择最合适的一个填入问号处, 使之呈现一定的规律性。



A B C D

72. 从所给的四个选项中, 选择最合适的一个填入问号处, 使之呈现一定的规律性。




A

B

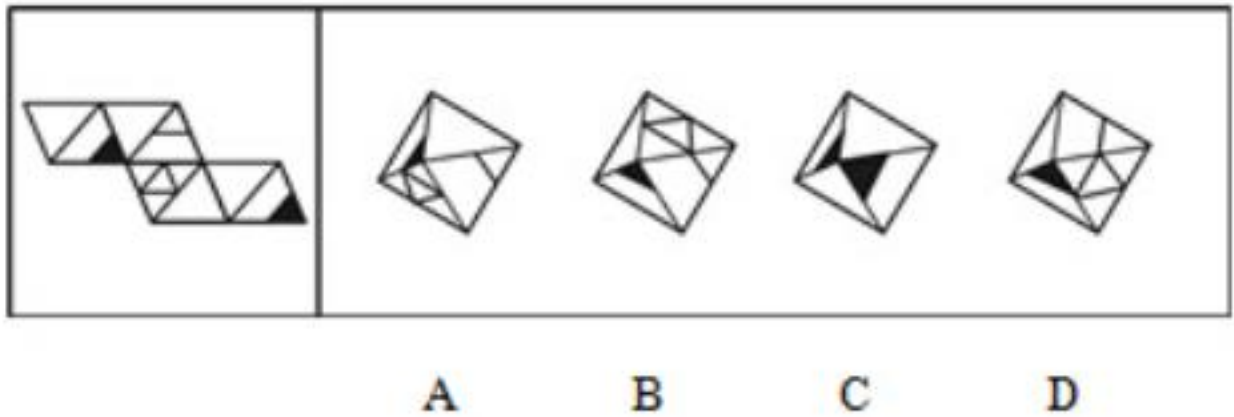
C

D

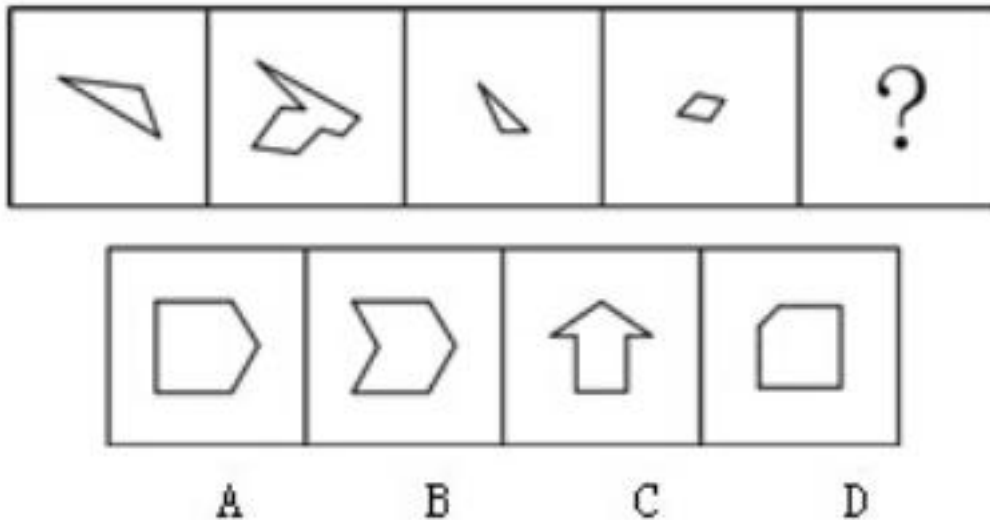
73. 从所给的四个选项中, 选择最合适的一个填入问号处, 使之呈现一定的规律性。



74. 从所给的四个选项中, 选择最合适的一个填入问号处, 使之呈现一定的规律性。



75. 从所给的四个选项中, 选择最合适的一个填入问号处, 使之呈现一定的规律性。



二、定义判断

76. 环境保护的经济政策是指运用税收、信贷、财政补贴、收费等各种有效经济手段引导和促进环境保护的政策。

根据上述定义, 下列不属于环境保护的经济政策是:

- A. 某环保设备制造园规定了允许进入园区的企业注册资金的最低程度
- B. 某省通过交通税费的征收和管理, 发展有益于环境保护的交通方式
- C. 某国鼓励和支持各类金融机构增加对资源综合利用企业的信贷投入
- D. 某企业由于污染未达标, 而被环保部门取消了当年申请环保专项资金的资格

77. 有意想象是指事先预定目的的想象, 可分为再造想象和创造想象。前者根据别人的描述或图样, 在头脑中形成新形象的过程; 后者指不根据现成的描述, 而在大脑中独立地产生新形象的过程。

根据上述定义, 下列属于创造想象的是:

- A. 老刘故地重游时脑海里浮现了一些往事
- B. 公交人员根据受害人的描述画出犯罪嫌疑人的肖象
- C. 人们在听评书《三国演义》时仿佛身临其境来到了古战场
- D. 小明在他创作的科幻小说中描绘了未来人类在月球上的生活图景

78. 大众传播是指专业化的媒介组织通过一定的传播媒介, 在接受国家管理下, 对 进行大规模的信息传播活动。

根据上述定义, 下列属于大众传播的是:

- A. 某报刊登了某传染病的最新传播情况
- B. 某电台开通了法治热线, 接受听众的咨询
- C. 某市政府网站开办市民专栏, 就民生问题回答市民的提问
- D. 某新闻频道对国家领导人的外事活动进行了直播

79. 系谱是指根据各类生物间的进化历程和亲缘关系的远近而编制的生物变化系统。

根据上述定义, 下列属于系谱的是:

- A. 有一种观点认为, 人类起源于非洲, 并逐步迁徙到世界各地
- B. 李氏家族的家谱中详细记录了家族五百年来的发展和变迁
- C. 在自然界中, 人类与各种动物相互依存, 一旦失去平衡, 灾难就会接踵而至
- D. 鱼类进化到两栖类, 从中分化出哺乳类和鸟类, 哺乳类中的一支发展成为高等智慧动物



80. 延伸产品是指顾客购买产品时, 附带获得的各种利益的总和, 包括产品说明书、保证、安装、维修、送货、技术培训等。

根据上述定义, 下列涉及延伸产品的是:

- A. 某电器经销商承诺, 顾客购买本店任何电器, 都能享受九折优惠
- B. 某品牌服饰店进行促销活动, 购买本店服饰满 300 元减 100 元
- C. 某汽车经销商为吸引顾客, 承诺本店售出的汽车可享受三年质保
- D. 某游戏公司在推出一款游戏后, 又及时推出了升级版以满足用户需求

81. 利他惩罚是指人们不惜牺牲自己的利益去惩罚违反社会准则的人。第三方惩罚是利他惩罚的一种, 第三方虽然没有受到违规行为的直接损害, 却愿意付出代价来惩罚违反社会准则的人。

根据上述定义, 下列属于第三方惩罚的是:

- A. 以牙还牙, 以眼还眼
- B. 路见不平, 拔刀相助
- C. 得助多助, 失道寡助
- D. 人若犯多, 我必犯人

82. 二难推理是由两个假言判断和一个选言判断作前提构成的推理。假言判断是断定一个事物情况的存在 (称为前件) 是另一个事物情况存在 (称为后件) 的条件判断。选言判断是断定在几种可能情况下, 至少有一种情况存在的判断。二难推理是通过运用选言判断来肯定或否定假言判断, 从而来肯定或否定假言判断的后件或前件存在或不存在的一种推理形式。

根据上述定义, 下列不属于二难推理的是:

- A. 如果刺激老虎, 它是要吃人的; 如果不刺激它, 它也是要吃人的; 或是刺激它, 或是不刺激它; 所以老虎总是要吃人的
- B. 如果张三是杀人犯, 那么他有作案时间; 如果张三是杀人犯, 那么他有作案动机, 第三或者没有作案时间, 或者没有作案动机, 所以他不是杀人犯
- C. 如果今天下午下大雨, 那以操场就要积水。如果操场积水, 那么球赛就要延期, 所以, 如果今天球赛不延期, 那么今天下午没有下大雨
- D. 如果打人的行为触犯了法律, 那么要受到法律处罚; 如果打人的行为没有触犯法律, 以要受到社会舆论的谴责。打人的行为或是触犯了法律, 或者没有触犯法律, 所以或是要受到法律处罚, 或者要受到社会舆论的谴责

83. 政府向社会组织购买服务, 是通行于国际社会的一种新型的公共服务供给方式, 其具体做法是政府引入市场机制, 把直接向社会公众提供的一部分公共服务和社会管理事项, 按照一定的方式与程序, 交由具备条件的社会组织承担, 并根据服务数量和质量向社会组织支付费用。

根据上述定义, 下列属于政府向社会组织购买服务做法的是:

- A. 某市交管部门为方理市民出行, 租用电信公司的短信平台定期给市民发送提醒短信
- B. 某街道面向辖区招募志愿者, 以协助当地司法机关承担社区内服刑人员的社区矫正服务工作
- C. 国家为保护农民利益和种粮积极性, 委托中储粮总公司作为托市收购政策的执行主体, 组织国有粮库对稻农农行敞开收购
- D. 某市教委建立特级教师在线回答中小学生学习问题的公益网站受到了学生和家长的的好评, 一家教育机构出资帮助扩大这个网站的规模, 以帮助更多的学生

84. 涵化是指不同文化的群体间发生持续的接触, 从而导致原有文化发生变迁的现象。

根据上述定义, 下列不属于涵化的是:



- A. 在 20 世纪, 牛仔裤成为了风靡世界的时尚穿着
- B. 历史上英国曾将其法治文化和政治体系推行到自己的殖民地
- C. 近年来, 越来越多的外国人对中国文化感兴趣, 纷纷来中国学习汉语
- D. 由于英国曾长期受罗马帝国的统治及罗马天主教的影响, 英语词汇中出现了大量拉丁语词

85. 行政诉讼是指公民、法人或其他组织认为行政机关、或法律、法规授权的组织的行政行为侵犯其合法权益时, 依法向人民法院起诉, 人民法院通过对被诉行政行为的合法性进行审查, 从而解决特定范围内行政争议活动。行政诉讼第三人, 指同提起诉讼的行政行为有利害关系, 因而参加到他人正在进行的行政诉讼中的公民。法人和其他组织。

根据上述定义, 下列对行政诉讼第三人的判断正确的是:

- A. 甲为了躲避乙而将丙碰伤, 丙将甲告上法庭, 则乙为行政诉讼第三人
- B. 某交警大队因违法行政而成为被告, 则该交警大队队长为行政诉讼第三人
- C. 某饭店对卫生局的处罚决定不服提起诉讼, 则饭店老板为行政诉讼第三人
- D. 甲将乙打伤, 但甲对公安局的处罚决定不服提起诉讼, 则乙为行政诉讼第三人

三、类比推理

86. 报警: 救援

- A. 违章: 罚款
- B. 毕业: 就业
- C. 消费: 生产
- D. 手术: 住院

87. 经济特区: 珠海

- A. 南沙群岛: 黄岩岛
- B. 乐器: 陶笛
- C. 海军: 航空母舰
- D. 飞禽: 蝙蝠

88. 杂货店: 百货公司: 电子商城

- A. 玉石: 宝石: 水昌
- B. 快餐店: 餐馆: 酒店
- C. 钢笔: 铅笔: 圆珠笔
- D. 白炽灯: 节能灯: LED 灯

89. 展览: 铭记: 历史

- A. 处分: 告知: 结果
- B. 晚会: 庆祝: 节日
- C. 研究: 阅读: 文献
- D. 广告: 推广: 口碑

90. 他人: 镜子: 明得失

- A. 公仆: 清廉: 克己奉公
- B. 国法: 家规: 惩罚
- C. 法律: 准绳: 辨是非
- D. 历史: 教训: 短兴替

四、逻辑判断



91. 在人们的印象中、生物燃料是一种可再生的绿色能源、而最新公布的研究成果颠覆了人们的这一传统印象, 研究人员发现, 生物燃料可能因其未完全燃烧而转化为乙醛, 进而污染空气, 这种污染会导致 M 国每年 1000 人早亡。因此, 有 M 国医疗机构人员认为现阶段应该暂缓推广生物燃料、限制其使用。

以下哪项如果为真, 会对医疗机构人员的观点提出最有力的质疑?

- A. 现阶段 M 国科学家已研制出使生物燃料充分燃烧的新技术
- B. 现阶段 M 国科学家已研制出使生物燃料充分燃烧的新技术
- C. 目前 M 国正在使用的其他燃料的污染每年会导致超过 3000 人早亡
- D. 科学家预计, 随着研究工作的推进, 5 年后新型生物燃料将不会再产生乙醛

92. 某单位要选拔人才下乡挂职。符合条件的人有甲、乙、丙、丁、戊、己, 人事部门、组织部门和办公室分别提出了自己的要求:

人事部分: 丙、丁两人中只能去一人

组织部门: 若丁不去, 则戊也不能去

办公室: 甲、丙和己三人必须留下一个

由此可以推出, 能够同时满足三个部门要求的派出方案是:

- A. 乙、丙、丁、戊
- B. 乙、丙、戊
- C. 甲、乙、丙、己
- D. 甲、乙、丙

93. 某校学生家长: 现在学生学习压力太大, 每天做作业要晚上十点多, 都没有童年快乐了!

该校老师: 学校本身没给孩子们太多压力, 布置作业很少, 是家长给孩子们报的补习班太多, 导致各种作业做完就很晚了。孩子们没有时间玩, 所以没有快乐的童年。

以下哪项如果为真, 最能质疑该校老师的解释?

- A. 该校学生作业与其它学校相比确实不多
- B. 学校老师觉得作业布置很少, 但学生仍然觉得很多
- C. 老师虽没布置多少书面作业, 但作业的要求使得学生必须报班补习
- D. 学生压力大是普遍的社会问题, 不是该校老师减少作业就能解决的

94. 根据某国卫生部门统计数据, 贫困家庭儿童的肥胖率要比富裕家庭儿童高出近一倍, 根据该国政府 2012 年 12 月公布的数据, 全国 11 岁的贫困家庭儿童当中, 有超过 24.3% 的人有体重超标问题, 而富裕家庭的同龄儿童肥胖率只有 13.7%, 因此专家认为: 越是贫穷的家庭, 越有可能出现儿童体重超标的现象。

以下哪项如果为真, 最能支持上述结论?

- A. 贫困家庭一般选择到廉价超市买食材
- B. 贫困家庭日常食用的多是价格低廉但热量高的食品
- C. 贫困家庭儿童与富裕家庭儿童喜欢的体育运动项目不同
- D. 贫困家庭的儿童与富裕家庭的儿童往往在不同的学校就读

95. 弗朗西斯·H·劳舍尔博士在 1993 年通过实验展示了音乐和学习之间的联系。欣赏音乐可以提高智商, 从而促进学习, 这种现象叫做莫扎特现象。

以下哪项如果为真, 能够削弱上述观点?

- A. 研究音乐的专家并不比其他领域的专家智商更高
- B. 听莫扎特作品后智商表现出的短暂提高没有持续到实验结束
- C. 学习音乐所需要的毅力是在任何学习中都需要的性格特征



D. 音对人的品格的影响比对智商的影响更大

96. 有研究结果显示, 看电视对儿童尤其是婴幼儿的智力发展存在着负面影响。研究人员就此警告家长, 避免让 2 岁以下的孩子看电视, 因为过早看电视可能有碍幼儿智力发展。

以下哪项如果为真, 能够支持上述观点?

A. 电视上五彩斑斓的颜色会影响幼儿的视力

B. 1~2 岁是儿童认知形成的重要时期

C. 幼儿过多看电视会减少他们对真实环境的观察和触摸

D. 过早地接触电脑会减少幼儿与家长间表情、动作、言语的互动

97. 一项对 3.7 万名年龄在 49 至 75 岁之间的某国男性进行的跟踪调查发现, 10 年中, 这些男性里有近 2000 人得过中风; 那些经常食用巧克力的受调查者与少量食用甚至不食用巧克力的人相比, 患中风的风险要低不少, 研究人员推测, 经常食用巧克力可降低中风风险。

以下哪项如果为真, 最能支持上述研究人的推测?

A. 研究发现, 经常食用巧克力可调节低血糖患者体内的血糖含量

B. 研究人员对女性的类似调查结果与上述研究基本一致

C. 巧克力中含有黄酮类化合物, 而它具有预防中风的功效

D. 在此项调查中, 得过中风的男性患者中部分人有经常食用巧克力的习惯

98. 研究表明, 适当休息可以提高工作效率。当完成一项复杂艰巨的任务时, 人们可以适当休息一下, 做点简单的其他事情, 之后继续工作, 这可以让工作业绩提高 40%, 一家公司老总将这一理论应用于公司, 增加了员工休息时间, 但生产业绩却没有上升, 反而明显下降。

以下哪项如果为真, 最能解释上述矛盾现象?

A. 公司的有些部门并没有严格执行老总的休息计划

B. 一些员工在休息的时候想工作, 工作的时候想休息

C. 近段时间公司的销售业绩不佳, 没有出现明显的增长

D. 公司生产都是流水线作业, 员工做的都是单一机械动作

99. 某开发区发展委员会召开环境工作专题圆桌会议, 参加会议的有委员会主任和副主任, 以及委会所属的开发区环保局。工业局的农业局的局长和副局长。他们八个人均匀地坐在一张会议圆桌旁, 只有一个同部门的正职和副职的座位被分隔开了。并且: (1) 委员会副主任对面的人是坐在环保局局长左边的一位局长; (2) 工业局副局长左边的人是坐在农业局局长对面的一位副局长; (3) 农业局局长右边的人是一位副局长, 这位副局长坐在委员会主任左边第二个位置上的副局长的对面。则座位一定被隔开的是:

A. 环保局的局长和副局长

B. 工业局的局长和副局长

C. 农业局的局长和副局长

D. 委员会的主任和副主任

100. 近 50 年来, 某市户籍人口的平均寿命提高了 38 岁, 达到了 82 岁, 居全国最高水平。与此同时, 该市恶性肿瘤的总体发病率与死亡率也逐年上升, 目前已相当于欧美发达国家和地区的 2/3~3/4, 在世界范围内处于中等水平, 在全国则处于较高的水平。

由此可以推出:

A. 该市恶性肿瘤的总体发病率和死亡率虽逐年上升, 但此类疾病并不是造成目前该市人口死亡的主要原因

B. 目前该市对于恶性肿瘤的治疗水平是全国最高的



C. 如果 50 年前导致该市人口死亡的主要疾病发病率目前没有降低, 那么对这些疾病的治疗水平在 50 年间一定有提高

D. 该市恶性肿瘤的总体发病率和死亡率其实比欧美等发达国家和地区低

第五部分 资料分析

一、根据所给资料, 回答 101~105 题。

2012 年, 某市参加生育保险人数达 51.52 万人, 占应参保人数的比重由上年的 85.4% 上升到 90.9%。该市参加基本养老保险人数 69.80 万人, 比上年增长 9.6%, 其中女性 30.59 万人, 比上年增长 7.5%, 占到参加基本养老保险总人数的 44.1%; 参加基本医疗保险人数为 102.12 万人, 比上年增长 6.8%, 其中女性 28.38 万人, 比上年增长 29.6%, 占到参加基本医疗保险人数的 27.8%; 参加失业保险人数为 74 万人, 比上年增长 1.4%, 其中女性 33.3 万人, 比上年增长 1.4%, 占到参加失业保险总人数的 45.0%, 且女性参加失业保险增加人数占到参加失业保险增加总人数的 45%; 参加工伤保险人数 46.43 万人, 比上年增长 16.9%。其中女性 15.3 万人, 比上年增长 58.7%, 占到参加工伤保险总人数的 32.91%, 且女性参加工伤保险增加人数占到参加工伤保险增加总人数的 84.1%。

101. 2012 年该市应参加生育保险的人数约为多少万人?

- A. 51.5
- B. 56.7
- C. 60.3
- D. 65.4

102. 在除生育保险之外的 4 类保险中, 2012 年该市女性参保人数占总体比重明显高于上年的有几个?

- A. 3
- B. 4
- C. 1
- D. 2

103. 2012 年参加基本医疗保险的男性人数约是参加工伤保险的男性人数的多少倍?

- A. 2.4
- B. 2.1
- C. 1.9
- D. 1.6

104. 将各种社会保险按该市 2012 年参保人数同比增速从高到低排列正确的是:

- A. 基本医疗保险—基本养老保险—失业保险
- B. 工伤保险—失业保险—基本医疗保险
- C. 基本医疗保险—工伤保险—基本养老保险
- D. 基本养老保险—基本医疗保险—失业保险

105. 以下关于该市 2012 年社会保险参保情况的描述, 能够从资料中推出的是:

- A. 女性参加工伤保险的人数比上年增加了 7 万多人
- B. 基本养老保险的参保人数比上年增加了 9 万多人
- C. 基本医疗保险参保者中女性的比重低于工伤保险
- D. 参加失业保险的男性人数与上年持平

二、根据所给资料, 回答 106~110 题。

2013 年 1~3 月, 全国规模以上工业企业实现利润 11740.1 亿元, 比上年同期增长 12.1%, 增幅比 1~2 月



回落 5.1 个百分点。3 月当月实现利润 46.49 亿元, 比上年同期增长 5.3%。

2013 年 1~3 月规模以上工业主要财务指标

分组名称	主营业务收入		利润总额	
	本月止累计 (亿元)	同比增长 (%)	本月止累计 (亿元)	同比增长 (%)
总体	222363.6	11.9	11740.1	12.1
其中: 国有及国有控股企业	58770.1	4.9	3412.2	7.6
私营企业	70021.4	18.4	3757.1	17.8
集体企业	2719.9	10.4	177.7	7.5
股份制企业	129554.9	14.0	6843.2	12.9
外商及港澳台商投资企业	54066.7	8.0	2687.8	7.1

注: 经济类型分组之间存在交叉, 合计大于规模以上工业总计。

106. 2013 年 1~2 月规模以上工业企业实现利润同比增长率为:
- A. 17.2%
B. 17.4%
C. 7%
D. 12.1%
107. 2013 年 1~3 月规模以上工业企业主营业务收入利润率约为:
- A. 4.98%
B. 5.28%
C. 11.9%
D. 12.1%
108. 2013 年 1~3 月规模以上工业企业中利润率最高的是:
- A. 集体企业
B. 私营企业
C. 国有及国有控股企业
D. 股份制企业
109. 2013 年 1~3 月, 外商及港澳台投资规模以上工业企业主营业务收入同比约增加了多少亿元?
- A. 3965
B. 4005
C. 4135
D. 4325
110. 关于 2013 年 1~3 月规模以上工业企业收入和利润情况, 能够从上述资料中推出的是:
- A. 只有私营企业的收入同比增速高于整体水平
B. 股份制企业贡献了不到总量一半的利润额
C. 主营业务收入利润率高于上年同期水平
D. 月均实现利润额超过 4000 亿元



三、根据所给资料, 回答 111~115 题。

2012 年全国分行业固定资产投资 (不含农户) 及其增长速度

行业	投资额 (亿元)	同比增长 (%)
总计	364835	20.6
第一产业	9004	32.2
第二产业	158672	20.2
其中: 采矿业	13129	11.8
制造业	124971	22.0
电力、热力、燃气及水的生产和供应业	16536	12.8
建筑业	4036	24.6
第三产业	197159	20.6
其中: 批发和零售业	9816	33.0
交通运输、仓储和邮政业	30296	9.1
住宿和餐饮业	5102	30.2
信息传输、软件和信息技术服务业	2834	30.6
金融业	932	46.2
房地产业	92357	22.1
租赁和商务服务业	4645	37.4
科学研究和技术服务业	2176	27.8
水利、环境和公共设施管理业	29296	19.5
居民服务、修理和其他服务业	1718	26.0
教育	4679	20.3
卫生和社会工作	2645	23.0
文化、体育和娱乐业	4299	36.2
公共管理、社会保障和社会组织	6363	9.2

111. 2012 年全国固定资产投资额约比上年同期增长多少万亿元?

- A. 4
- B. 5
- C. 6
- D. 7

112. 在三类产业中, 2012 年固定资产投资额在全国固定资产投资总额中的占比明显高于上年的是:

- A. 第一产业
- B. 第二产业
- C. 第一产业和第三产业
- D. 第二产业和第三产业

113. 2012 年第二产业固定资产投资额最高和最低的行业, 其固定资产投资额同比增速相差几个百分点?

- A. 1.0
- B. 2.6
- C. 9.2
- D. 12.8

114. 在第三产业的 14 个行业中, 2012 年固定资产投资额同比增长超过 1000 亿元的有几个?

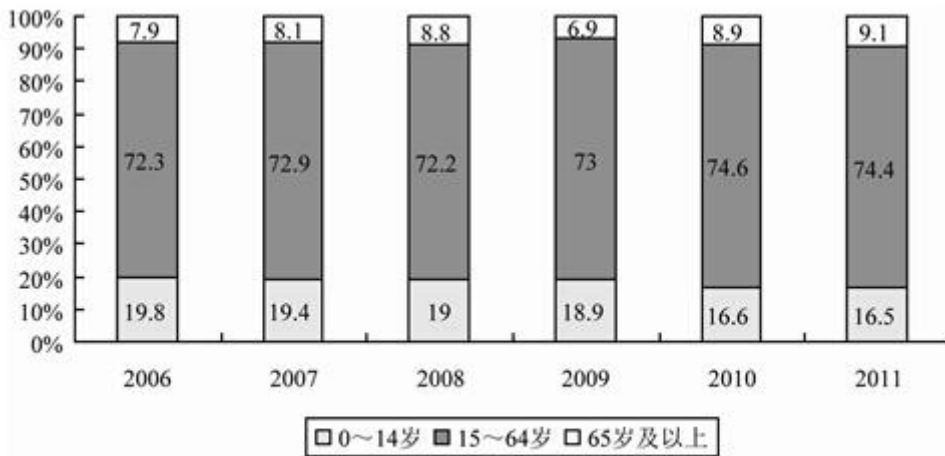


- A. 8
- B. 9
- C. 6
- D. 7

115. 关于 2012 年固定资产投资状况, 能够从上述资料中推出的是:

- A. 第三产业中有 5 个行业的固定资产投资额超过整个第一产业
- B. 第三产业中固定资产投资额最低的行业同比增速为最高
- C. 采矿业固定资产投资额超过整个第二产业的一成
- D. 第三产业中固定资产投资额同比增速最低的行业, 其投资额占全产业的 3% 左右

四、根据所给资料, 回答 116~120 题。



2006~2011 年全国各年龄段人口比重变化情况

116. 以下哪一年的人口增长量高于上年水平?

- A. 2011 年
- B. 2010 年
- C. 2009 年
- D. 2008 年

117. 与 2006 年相比, 2011 年我国的人口自然增长率下降了多少个百分点?

- A. 0.059
- B. 0.049



C. 0.59

D. 0.49

118. 若 2011 年末我国 15~59 岁的人口比重为 69.8%, 则 60~64 岁人口约有多少万人?

A. 6198

B. 5264

C. 4934

D. 4235

119. 2011 年末我国 65 岁及以上人口约比 2010 年末多多少万人?

A. 124

B. 249

C. 327

D. 467

120. 能够从上述资料中推出的是:

A. 2005 年我国人口总量低于 13 亿

B. 2011 年我国人口总量比 2006 年增长了 3%以上

C. 我国 15~64 岁人口数同比增量最高的年份是 2011 年

D. 2006 年到 2011 年间, 我国 0~14 岁人口比重逐年下降

参考答案及解析

1. 【解析】C。十二五规划所提的推进公共服务均等化的举措, 包括公共财政投入, 教育, 医疗, 卫生, 就业, 社保五个方面的内容。所以选 C。

2. 【解析】A。考查的是刑法三原则中的罪刑法定原则, 即法无明文规定不为罪, 法无明文规定不处罚。所以对这种刑法没有规定的行为不予定罪。

3. 【解析】B。中国法律援助有以下特征: 1、法律援助是国家的责任、政府的行为, 由政府设立的法律援助机构组织实施。它体现了国家和政府对公民应尽的义务。2、法律援助是法律化、制度化的行为, 是国家社会保障制度中的重要组成部分。3、受援对象为经济困难者、残疾者、弱者, 或者经人民法院指定的特殊对象。4、法律援助机构对受援对象减免法律服务费, 法院对受援对象减、免案件受理费及其他诉讼费用。5、法律援助的形式, 既包括诉讼法律服务, 也包括非诉讼法律服务。主要采取以下形式: 刑事辩护和刑事代理; 民事、行政诉讼代理; 非诉讼法律事务代理; 公证证明。所以答案选 B

4. 【解析】D。合伙人欲转让股份, 同等条件下, 原股东有优先购买权, 如果几个原股东都欲购买, 根据民法基本原则中的自愿原则。由出售人决定将其股份卖给谁。

5. 【解析】C。“究天人之际, 通古今之变, 成一家之言。”是司马迁在《报任少卿书》中一句话, 同样“人固有一死, 或重于泰山, 或轻于鸿毛”也出自司马迁的《报任安书》。所以答案选 C。

6. 【解析】B。九一八事变是 1931 年 9 月 8 日, 七七事变发生在 1937 年 7 月 7 日, 百团大战发生在 1940 年, 湘西会战发生在 1945 年。所以答案选 B。

7. 【解析】A。著名希腊学者亚里士多德在追求真理的过程中, 非常勇敢、坚决地批评老师的错误和缺点, 被人指责背叛了老师柏拉图。亚里士多德对指责他背叛老师的人, 回敬了一句流传至今的名言: “吾爱吾师, 吾更爱真理!” 所以选 A。

8. 【解析】B。“塞翁失马, 焉知非福”说的是在一定条件下, 矛盾双方会相互转化, 四个选项中只有“乐极生悲, 否极泰来”是这个意思。所以选 B。

9. 【解析】D。科举制分四级, 院试, 乡试, 会试, 殿试。会试是获得举人和国子监的监生可以参加的考



试, 一般每三年在京城举行一次, 称为大比之年。考中取得贡生资格。会试考中的可以参加殿试, 由皇帝亲自做主考, 考中取得进士资格。所以答案选 D。

10. 【解析】D。《世说新语》, 作者刘义庆, 彭州人, 他所写的《世说新语》是一部记述魏晋士大夫玄学言谈轶事的小说。小说中可以看到魏晋时期士大夫的精神风貌。所以答案选 D。

11. 【解析】A。黄梅戏起源于湖北黄梅采茶歌, 是流行于安徽的地方戏曲。代表剧目有《天仙配》《女驸马》《牛郎织女》等。所以 A 项是错误的。

12. 【解析】D。“忽如一夜春风来, 千树万树梨花开。”描写的是冬季。是唐代岑参在《白雪歌送武判官归京》一诗中的千古名句。此诗是一首咏雪送人之作。所以选择 D 项。“小荷才露尖尖角早有蜻蜓立上头”出自宋朝杨万里的《小池》诗描写的是初夏。“月落乌啼霜满天, 江枫渔火对愁眠”描写的是秋天。“无可奈何花落去, 似曾相识燕归来。”出自北宋词人晏殊的《浣溪沙》。描写的是春夏之交。

13. 【解析】B。澳大利亚联邦简称澳大利亚, 是一个发达的资本主义国家。澳大利亚四面环海, 是世界上唯一一个国土覆盖整个大陆的国家, 所以 B 正确。欧洲和亚洲之间以乌拉尔山脉、乌拉尔河、里海、高加索山脉、黑海、土耳其海峡为分界线, A 项错。泰晤士河是英国著名的“母亲”河, C 项错。世界上含盐度最高的海是红海, D 项错。

14. 【解析】C。在 2006 年 8 月 24 日国际天文学联合会大会上, 以绝对多数通过决议 5A-行星的定义, 以 237 票对 157 票通过决议 6A-冥王星级天体的定义冥王星从此被视为是太阳系的“矮行星”, 不再被视为行星。目前, 指太阳系是八个行星, 按照离太阳的距离从小到大, 它们依次为水星、金星、地球、火星、木星、土星、天王星、海王星。太阳系中距离太阳最远的行星是海王星。所以 C 项错。

15. 【解析】D。导致市区云量特别是低云量比郊区农村多的原因主要有: ①城市的热岛效应产生的热岛环流使市区内的上升气流加强, 有利于云的形成。②城市空气中含有较多的凝结核, 尽管绝对湿度小, 但吸湿性凝结核的增多仍然有利于云的形成。③城市的摩擦阻碍作用使得锋面、切变线等天气系统在市区的移速减慢, 云层在市区滞留时间加长; 建筑物加大了空气的被迫抬升, 有利于云, 特别是低云的增加。而城市绿地面积和水域面积相对于农村来说面积较小, 所以 D 选项说法不正确, 其他选项说法都是雨岛效应形成的原因。应该选 D

16. 【解析】A。珊瑚礁是指造礁石珊瑚群体死后其遗骸构成的岩体。不是由软体动物组成的动物群。所以 A 项不正确。珊瑚虫是海洋中的一种腔肠动物, 在生长过程中能吸收海水中的钙和二氧化碳, 然后分泌出石灰石, 变为自己生存的外壳。每一个单体的珊瑚虫只有米粒那样大小, 它们一群一群地聚居在一起, 一代代地新陈代谢, 生长繁衍, 同时不断分泌出石灰石, 并粘合在一起。这些石灰石经过以后的压实、石化, 形成岛屿和礁石, 也就是所谓的珊瑚礁。

17. 【解析】B。我国有关部门在推行的其他标志食品还有无公害食品和绿色食品。无公害食品是按照无公害食品生产技术标准和要求生产的符合通用卫生标准并经有关部门认定的安全食品。严格来讲, 无公害食品应当是普通食品都应当达到的一种基本要求。

绿色食品是我国农业部门在九十年代初发展的一种食品, 分为 A 级绿色食品和 AA 级绿色食品。其中, A 级绿色食品生产中允许限量使用化学合成生产资料, AA 级绿色食品则较为严格地要求在生产过程中不使用化学合成的肥料、农药、饲料添加剂、食品添加剂和其它有害于环境和健康的物质。从本质上来讲, 绿色食品是从普通食品向有机食品发展的一种过渡产品。有机食品与其他食品的区别体现在如下几方面:

1) 是有机食品在其生产加工过程中绝对禁止使用农药、化肥、激素等人工合成物质, 并且不允许使用基因工程技术; 而其他食品则允许有限使用这些技术, 且禁止基因工程技术的使用。如绿色食品对基因工程和辐射技术的使用就未作规定。

2) 是生产转型方面, 从生产其他食品到有机食品需要 2—3 年的转换期, 而生产其他食品 (包括绿色食品



和无公害食品) 没有转换期的要求。

3) 是数量控制方面, 有机食品的认证要求定地块、定产量, 而其他食品没有如此严格的要求。

因此, 正确选项是 B

18. 【解析】D。纯净的氧是有毒的, 所以给病人输氧并不是越纯越好。所以 D 选项说法不对, 其他各项说法正确。答案选 D。

19. 【解析】B。国际奥委会总部设在瑞士洛桑, 2020 年奥运会举办城市才是日本东京, 第一届现代奥运会是在希腊的雅典举行的。首位夺得奥运会女子柔道冠军的是中国的庄晓岩在 1992 年巴塞罗那奥运会获得的。

20. 【解析】A。凉水煮肉时, 有利于肉中的蛋白质和营养成分溶解于水中, 所以汤味鲜美, 沸水煮肉可以保证肉中的营养成分能更多地保存在肉中。A 说法刚好相反, 其他几个选项说法正确。所以答案选 A。

21. 【解析】B。第一空需要填一个与“发展”相搭配的词语, “激励”发展搭配不当, 故排除 C 项。根据最后一句话的语境可知第二空需要填入一个消极倾向的词语, “优化”属于积极倾向, 故排除 D 项。第二空的词语修饰“制度”, “淘汰”制度搭配不当, “推翻”制度搭配更为合理。因此, 本题正确答案选 B 项。

22. 【解析】C。根据语境“不要变得麻木.....不要放弃向生活学习的机会”可知空格处应该填一个意思为“即使生活中没有伟大、高尚的人, 我们也要坚持做一个伟大高尚的人, 不能向别人一样”的词语, “随波逐流”意思为“比喻没有坚定的立场, 缺乏判断是非的能力, 只能随着别人走”最符合语境。“自以为是”指总以为自己是正确的。“茫然失措”指心中迷惑, 不知怎么办才好。“自暴自弃”指自己瞧不起自己, 甘于落后或堕落。因此, 本题正确答案选 C 项。

23. 【解析】A。突破口在第二空, 需要填入一个与“软肋”相搭配的词语, “戳中...软肋”属于固定搭配。“戳痛”、“击中”、“打中”与“软肋”搭配不当。因此本题正确答案选 A 项。

24. 【解析】C。“条纹”很久之前就已经被广泛应用, 当今的时装界依旧经常使用“彩色条纹”说明彩色条纹“流行”或“风靡”于当今时装界, 故排除 B、D 项。第二空“维持”意为“使继续存在”, 通常形容一件弱小、衰弱的事情, 不符合语境。因此, 本题正确答案选 C 项。

25. 【解析】C。第一空根据语境石油峰值出现以后, 石油产量不可避免地开始下降, 那么观察家们认为石油峰值不会在 2020 年以前出现, 这是一种“乐观”的态度。第二空根据冒号后面的解释“我们可能已经过了这个峰值”, 因为峰值过后产量会下降, 所以这是对石油产量的一种“担忧”。因此, 本题正确答案选 C 项。

26. 【解析】B。根据语境提示可知, “示威、罢工活动”、“暴力事件”、“社会乱象”属于并列结构, 根据“暴力事件频发”可知本题应该选择两个表示“不断出现”意思的词语。“此起彼伏”指接连不断; “层出不穷”指接连不断地出现, 符合语境。因此, 本题正确答案选 B 项。

27. 【解析】A。第一空“阴魂不散”比喻坏人、坏事虽已清除, 但不良影响还在起作用, 不符合语境; “纠缠不清”形容纷乱, 理不出头绪, 或有意找麻烦的意思, 文段也没有表达出这层意思, 故排除 B、C 项。第二空根据语境“过去...今天...”说明二者之间有一种继承的关系, 所以用“一脉相承”更符合语境。因此, 本题正确答案选 A 项。

28. 【解析】A。第一空应该填一个与提示词“谦仰”意思相近的词语, “谦和”、“谦卑”符合语境, 故排除 C、D 项。第三空“估价”指估计价格, 不符合语境, 故排除 B 项。给予年轻人一代的教育、鼓舞力量应该是无法估计衡量的, 所以本题正确答案选 A 项

29. 【解析】B。第一空与“速度”搭配, “提升”和“加剧”与速度搭配不当, 故排除 A、D 项。第二空根据语境“低洼地区”应该选择“堆积”。整个文段描述的是西北地区“飞沙走石、尘土弥漫”这种景象是如何“形成”的, 所以本题正确答案选择 B 项。

30. 【解析】D。第二空“考察”的主体一般指人, 而文段的主体是“好奇号”, 故排除 B 项。“好奇号”火星车的作用是“寻找”行星变化的线索, 不是用来“跟踪”、“注意”行星变化的线索, 故排除 A、C 项。另外,



评估...危害、探索...环境、寻找...线索搭配合理, 且符合语境意思。因此本题正确答案选 D 项。

31. 【解析】D。首先定位原文, 发现“守门”处在文段最后一句话的位置, 如果没有“守门”意识, 出现了问题藏着掖着, 正是说明我国食品安全监管的缺位和割裂

32. 【解析】D。文段用比喻的手法描述了当下音乐市场中唱片公司的做法, 即用低劣的音乐使公众的审美水平降低, 所以答案选 D, 本题的主体是围绕唱片公司“做法”可排除其他选项。

33. 【解析】C。这段文字的重点在围绕繁体字和传统文化的关系进行论述, 文段前半部分作者在描述繁体字并没有得到传统文化的熏陶, 后半部门用与之相反来引出, 描述传统文化的发展不一定依靠繁体字作为媒介, 所以整段文字作者意在表明传统文化跟繁体字没有必然的关系, 所以答案选择 C。

34. 【解析】A。“缺乏食物是工蜂消失的主要原因”这个选项在文中并没有体现出来, 文段中只是描述某些蜂群中的所有工蜂突然消失或死亡, 并没有描述消失或者死亡的原因, 所以答案 A 错误。

35. 【解析】B。本段文字开头点名话题围绕“中秋节”来谈, 随后的内容在介绍中秋节产生的背景和形成的过程。所以本段文字意在说明中秋节形成的过程。选择 B。

36. 【解析】A。该段文字的话题围绕“超级火山”展开, 所以, 结合选项直接排除话题不一致的选项 C、D。文段中虽然提到了“超级火山”产生的原因, 但是, 文段中后半部分大部分内容在谈“超级火山”本身所造成的危害, 所以本文段重点内容是在揭示“超级火山”带来的危害。

37. 【解析】C。从提问方式上来看, 可以得出要考察“作者不赞同的观点”意思就是考察作者的态度。从文段中可以看出, 对于“社会问题如果一味的强调立法”作者是不赞同的, 文段最后一句, “未必是一种追求法制的理性态度”可以看出作者批判的内容。

38. 【解析】D。这是一道细节理解题, 找出选项和原文不一致的选项, 选项 A 的表述原文中有阐述“全球变暖并非自然形成, 而是二氧化碳排放不断增加的结果”; 选项 B 的表述原文中阐述“全球气温记录只能追溯到 1880 年”而化石重建的全球气温追溯时间跨度很长, 选项 B 正确; 选项 C 的表述原文中有这样的表述“大约 250 年前的工业革命以来, 二氧化碳排放迅速增加。海洋化石数据显示, 1900 年至 1910 年过去 11300 年以来最冷的十年之一, 比其他 95% 的年份都要冷。”; 选项 D 的表述原文中没有, 无中生有。

39. 【解析】A。这是一道细节理解题, 找出选项和原文不一致的选项, 选项 B、C 的表述原文中有相应的表述, 很明显可以排除; 选项 D 的表述原文中的表述“任何时候, 都不要被自己内心的恐惧震慑, 这才是我们成功的开始”, 表明 D 的表述符合原文; 选项 A 的表述原文中无中生有。

40. 【解析】D。文段前两句话, 交代了一个事实“我们国家药品的商品名字有厂家决定”, 接着文段给出了很多数据事实, 在我国的确很多药品名字很多, 但是在文段的最后点明了虽然名字很多, 不过, 都是“换汤不换药”的事实, 其功效是一致的, 所以这段文字意在说明名称虽多, 但功效一致, 所以答案选择 D。

41. 【解析】D。从文段的行文脉络来看是分总段式, 最后一句话之前的内容在描述一现象, 即很多发展中国家对于社会保障制度的建设很不力。最后一句话开头的“然而”表转折, 转折之后是重点, 也就是说最后一句话是重点句。观察四个选项, AB 为转折之前的内容, C 的重点文段并未提到。

42. 【解析】A。并且属于分总的行文脉络, 最后一句话是对策句, 对前文提到的如何进行 IPO 提出了一个对策, 并且对策的主体是政府。观察四个选项, 只有 A 提到了政府。

43. 【解析】C。A 项表述过于消极不选。B 项的不拘小节同文段的“以大师自居”相矛盾。C 和 D 比较而言, D 更合适一些, 意为叶圣陶提出新的见解和主张和其他人不一样。

44. 【解析】D。横线处的内容要与文段的内容想呼应。文段前面说搏击高手受困于对手与自己实力相符, 向师傅请教, 师傅划了一条更长的线, 意思就是说要想找到对方的破绽, 必须要更强。

45. 【解析】A。属于分总分的行文脉络。第一句话进行一个理论铺垫, 第二句话是总句, 第三句话“比如”表明举例子。根据第二句很容易得到 A, 只有 A 提到了得失。D 项虽然是呼吁项但是呼吁的不是文段的重点。



46. 【解析】A。该题属于“2+2”模式, 比较四个选项的首句发现 AD 的第一句一样, 并且含有一个词“最早”, 所以可以把 CD 排除。①⑤⑥说的进行理论铺垫②③④结合我国情况谈一下相关问题

47. 【解析】C。该题同样是道“2+2”模式, 观察①和③, 发现①更适合放在句首, 整个文段出来①外都是在说“地理”的问题, 因此①是在进行一个铺垫, 所以可以据此排除 AD。再看②④, ②应放在④前, 并且③是总说, 所以可以排除 B。

48. 【解析】C。文段的行文脉络为分总分段式, 第一句列举现象, 第二句“但是”表转折, 转折之后是重点句, 第三句话列举了一大堆数字进行论证。所以主要分析第二句, 根据第二句可以推出 C 项, 生态系统和重点句中的生物多样性是近义替换。

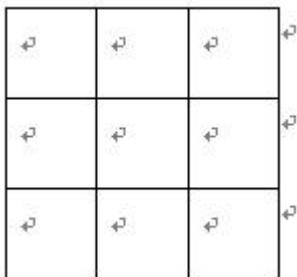
49. 【解析】D。文段第一句话提出一个观点, 接下来通过作者自己的想法进行论证。第一句话围绕的核心关键词语既是感情, 通过总句第一句可以推出 D 选项。

50. 【解析】A。横线处填的句子需要和下文相呼应, 下文主要说对同一问题“工业化”从不同的历史时间段来看认识是不同的, 并且不同时间段主要指长期和短期。B 中的“长期决定”与原文不符。C 中的历史事件和因果关系文中并未提到。D 和 A 比较而言, A 更明确一些。

51. 【解析】C。代入排除法, 从最小值代入, 可得 $1080 \times 30 = 32400 = 180^2$, 10 和 15 不满足题意, 故答案选 C。

52. 【解析】A。设三个窗口售票分别为 XYZ 张。可得方程组 $Y+Z=746$
 $X+Z=726$
 $X+Y=700$ 三个方程相加除以 2 得 $X+Y+Z=1086$

53. 【解析】A。要使分得的小菜园尽可能的多, 则分割的线条尽可能的短, 正方形菜园的边长为 25, 100 米篱笆可分割成 4 个 25, 最多分割成 9 个面积相同的小菜园如下图



54. 【解析】B。根据选项可得甲购买的商品超过 10 件, 乙购买的商品少于 10 件, 设甲购买的商品为 X 件, 乙购买的商品为 Y 件, 可得方程 $50+3(x-10)-19=5y$ 推出 $5y-3x=1$ 然后代入选项可得只有 $x+y=21$ 的情况下才满足题目给的条件。

55. 【解析】B。由题意可知, 任意选出 3 人只有 1 人精通德语的组合方式有 $C_2^1 C_3^2$ 种方式。而从五人中任

$$\frac{C_2^1 C_3^2}{C_5^3} = 0.6$$

意选出 3 人的组合方式有 C_5^3 种方式, 因此概率为

56. 【解析】C。m 个相同的物品分给 n 个人, $m \geq n$ 时, 每人至少分一个则有 C_{m-1}^{n-1} 种分法

57. 【解析】D。设小明小强和小军购买的课外书分别为 XYZ 本, 则可得方程: $X+Y=3Z+4$
 $X+Z=2Y-2$
 $X-3=Z+3$ 解方程可得 $X=12$



58. 【解析】A。由题意知白子数量须为3的倍数, 故排除C选项, 代入27不满足题意, 代入33满足题意, 故本题答案选33。

59. 【解析】B。由题意易推出整个过程中甲玻璃杯下降了10cm 乙玻璃杯上升了5cm 而甲玻璃杯减少的体积与乙玻璃杯增加的体积是相等的都等于石块的体积, 高度比为2:1, 则两者底面积之比为1:2

60. 【解析】C。连接AC可知三角形EDC和EAC面积相等, 根据题意可以推出三角形ABC和DCA面积之比为8:14 两者高相等, 则底边AB:CD=4:7

61. 【解析】A。赋值工作总量为56, 那么A、B的工作效率和为7; A、C的工作效率和为8; B、D的工作效率和为8; 那么A、B、C、D的工作效率和为16, 所以C、D的工作效率和为9。C、D完成工程所需时间为56/9。C、D合作能比A、B合作提前 $8-56/9=16/9$ 天。所以选择A选项。

62. 【解析】D。假设每个工人的工作效率均为1, 由题意可知, A的货物量是B的两倍。设该组工人一共有2x人。根据题意有: $2x*2.5+1.5x=2(1.5x+14)$

解方程可得 $x=8$, $2x=16$ 。所以, 该组工人一共有16人。选择D选项。

63. 【解析】A。每个月都只有4个星期五, 这三个月共有12个星期五。所以这三个月的天数和应该小于91天, 所以这三个月份应该是2、3、4这三个月, 可推断出2月星期五的日期为7、14、21、28; 3月星期五的日期为6、13、20、27; 4月星期五的日期为3、10、17、24; 五月一日为周五, 因此六月一日为星期一。

64. 【解析】B。二元一次方程组

$$\begin{cases} \frac{s}{v} - \frac{s}{1.2v} = 1 \\ \frac{120}{v} + \frac{s-120}{1.25v} + \frac{2}{3} = \frac{s}{v} \end{cases}$$

设甲乙两地相距S, 原来的速度为, 根据题意可以得到方程组:

解方程组可得: $s = 270$

65. 【解析】C。名次是个等差数列, 名次之和为300, 所以可以得出总人数为24人。由于每个部门的名次和只能为整数, 所以销售部门应该有10个人, 名次和为113, 售后部门人数为5人, 名次和为52, 技术部门人数为5人, 名次和为46。所以剩下的4个人的名次和应该为89, 所以其他部门所获得的名次最高为20。

66. 【解析】B。考查去同存异, 前两个图的不同部分共同组成第三个图, 并且第一个图留下的部分在上, 第二个图留下的部分在下。

67. 【解析】D。两段式的第一段当中, 第三个图的方块数加上第二个图的方块数是第一个图的方块个数, 同样道理, 第二段最后一个图的圆圈数加上第二个图的圆圈数是第一个图的圆圈个数。

68. 【解析】C。数面的个数, 封闭区间的个数分别为, 1, 2, 3, 4, 5 并且图形都是连在一起, 所以排除D, 选择C。

69. 【解析】C。每个图形的元素依次向上平移, 且遇到瓶颈时自动消失, 同时下面补充新元素, 按此类推, 答案选择C。

70. 【解析】D。点有明显的数量变化, 0, 1, 2, 3, 4。

71. 【解析】B。相邻的两个图形的变化都固定在两个特征三角形互换位置, 其他特征三角形位置不变, 那么结合第三个图形和第五个图形, 可以推出第四个图形样子应该是B。第三个图形的西北方向的特征三角和东南方向的特征三角互换位置变成B图形。B图形南北两个放行的特征三角互换位置变成第五个图形。

72. 【解析】A。首先每一行都是三种元素, 并且每种元素个数加起来都是四个, 于是把CD排除。接下来



对比 AB, 两个扇形图形位置到底应该在左还是右呢? 按照前两行规律发现, 所有两个相邻的并且一样的图形所在的位置都是别的单个出现的图形没有涉及过的位置。所以两个扇形应该在最右边, 答案选择 A。

73. 【解析】D。一黑一白的图形的相对位置的规律, 分别是相离, 相接, 相交, 将这三种位置规律进行遍历, 于是第三行缺少个相接的, 并且是两个图形一黑一白图形相接。

74. 【解析】A。用排除法, 两个黑色三角的特征面不可能有公共点, 所以排除 C。两个内部有白色小三角的图形不可能挨着, 所以排除 BD。答案选择 A。

75. 【解析】B。本题因为有了题干中不经旋转翻转这个条件, 所以并不是很难, 第三个图形拼接到第二个图形的左侧缺口, 第四个图形拼接到第二个图形的右下角, 第一个图形拼接到第二个图形的右上角。组成了 B。

76. 【解析】A。关键词: 1、运用税收、信贷、财政补贴、收费等有效的经济手段, 2、引导和促进环境保护的政策。A 选项规定入园企业的资金限度不符合关键词 1 和 2; B 选项的税费、C 选项的信贷、D 选项的污染治理未达标均符合关键词。因此选择 A。

77. 【解析】D。关键词: 在大脑中独立地产生新形象。而再造想象是指根据别人的描述或图样所形成的想象。A 选项中故地重游属于回忆; B 选项也是根据别人的描述进行想象, 明显属于再造想象; C 选项也是根据别人的描述, 因此属于再造想象; D 选项中小明的科幻小说属于独立地产生新形象的过程。因此选择 D。

78. 【解析】C。关键词: 1、专业化的媒介组织 (主体), 2、通过一定的传播媒介。ABD 选项中均符合关键词, 但是 C 选项中政府网站并不属于关键词 1——专业化的媒介组织, 因此选择 C。

79. 【解析】D。关键词: 各类生物间的进化历程 (主体)。A 选项中人类不符合关键词; B 选项中家族也不符合关键词; C 选项中指人与动物的依存关系。D 选项从鱼演化到两栖动物, 然后到哺乳动物和鸟类, 符合关键词。因此选择 D。

80. 【解析】C。关键词: 附带获得的各种利益的总和。A、B 选项中属于促销活动; C 选项符合关键词, 属于产品的保证。D 选项推出另外一项产品。因此答案选 C。

81. 【解析】B。关键词: 1、牺牲自己的利益去惩罚违反社会准则的人; 2、未受到违规行为的直接损害。A 选项中, 显然受到了第三方的直接损害, 因此不符合关键词 2; B 选项中符合关键词 1 和 2; C 未出现惩罚他人, 因此不符合关键词。D 选项中不存在第三方。因此选择 B。

82. 【解析】C。关键词: 1、两个假言命题; 2、一个选言命题。A、B、D 选项中, 均出现了两个假言命题和一个选言命题, 符合关键词。C 选项中出现的是三个假言命题, 却未出现选言命题, 因此选择 C。

83. 【解析】A。关键词: 1、A 通过引入市场机制; 2、把公共服务和社会管理事项交由社会组织承担; 3、根据情况支付费用。A 选项中, 符合关键词 1 和 2。B 选项中招募者愿者不符合关键词 3; C 选项中委托并不属于购买, 因此不符合关键词; D 选项中一家教育机构出资赞助, 并不属于政府购买, 不符合关键词。因此选择 A。

84. 【解析】A。关键词: 1、不同文化的群体间发生持续的接触; 2、文化发生变迁的现象。A 选项中, 牛仔裤属于 20 世纪的新产品, 在全球风靡, 并不属于文化的变迁, 因此不符合关键词; B 选项中属于英国文化与殖民当地文化的接触与变迁; C 选项中属于中外文化的接触与变迁; D 选项中属于英国语言文化与罗马帝国语言文化的接触与变迁。因此选择 A。

85. 【解析】D。关键词: 1、公民、法人和其他社会组织认为国家行政机关或者法律所作出的行政行为侵犯其合法权益, 向人民法院起诉; 2、人民法院对其行政行为的合法性进行审查; 3、公民、法人和其他社会组织与行政行为有利害关系, 参与到他人正在进行的行政诉讼中。

A 选项中, 甲乙之间属于民事行为, 不涉及行政行为, 因此不符合关键词; B 选项中交警队属于被告, 即行政行为主体, 因此不属于公民、法人和其他社会组织; C 选项中饭店老板属于行政诉讼中的原告, 而非第三人, 因此不符合关键词; D 选项中甲对行政处罚决定不满提起诉讼, 乙则属于这场诉讼中第三人, 有利害关系,



且参与到甲正在进行的诉讼中。因此选择 D。

86. 【解析】A。考查先后对应关系。报警之后被救援, 违章之后被罚款。B 项中属于主动关系; C 项与 D 项先后顺序颠倒。

87. 【解析】B。题干属于种属关系, A 黄岩岛属于中沙群岛, C 不是种属关系, D 蝙蝠不是飞禽

88. 【解析】D。题干是一种演变递进的关系, AC 没有这种关系, B 选项餐馆和快餐店的位置关系颠倒了, 所以选择 D。

89. 【解析】B。通过造句子找关系, 历史通过展览的形式达到一种铭记的效果, 所以选择 B, 节日通过晚会的形式达到庆祝的效果。C 选项的文献最终效果是参考不是阅读。D, 已经有了口碑, 就不需要推广了。

90. 【解析】C。他人和镜子都具有不使我们认识自己的特质, 所以是明得失, 法律, 准绳都可以使我们辨别是非。B 选项也可以用此规律, 接下来在比比横纵, 显然明得失与辩是非更加的对应。答案选 C。

91. 【解析】A。论点: 现阶段应该暂缓推广生物燃料、限制其使用; 论据: 因未充分燃烧会转化为乙醛。A 项否定论据, 对医疗机构人员的规定进行质疑。

92. 【解析】D。题干信息肯定, 优先考虑使用排除法。题干要求同时满足三个部分给出的信息。这是问题解决的关键。人事部门: 丙、丁两人中只能去一人, A 中同时出现了丙和丁, 由此可以排除 A; 组织部门: 丁→-戊, 即戊→丁, 即有戊必有丁, 由此排除 B; 办公室: 甲、丙、戊必须留下一下, 即不可都参加, 由此排除 C。得到答案为 D。

93. 【解析】C。论点: 学样本身没给学生太多压力; 论据是: 学校布置作业少, 学生的压力来自于家长给孩子报的补习班。题干要求质疑学校老师的, 即对论据的削弱, C 选项说学生之所以报补习班, 是因为老师布置的作业要求, 需要报补习班, 削弱了论据。

94. 【解析】B。论点: 越是贫穷的家庭, 越有可能出现儿童体重超标的现象。B 项补助新论据加强结论。

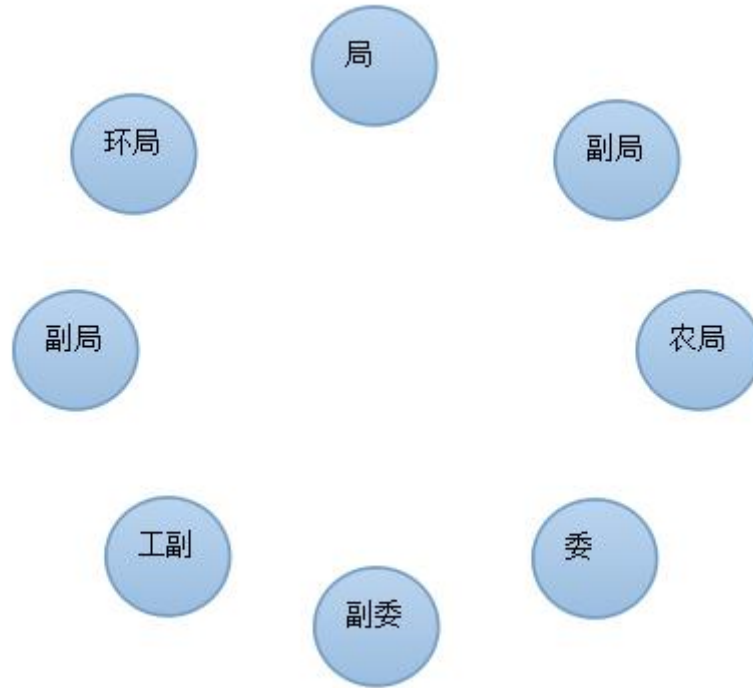
95. 【解析】B。论点: 欣赏音乐会提高智商, 从而促进学习。B 选项直接否定论点, 削弱观点。A 选项说的是智商高低的问题, 而非提高; C 项无关; D 项也与智商提高无关。

96. 【解析】D。论点: 看电视对儿童尤其是婴幼儿的智力发展存在着负面影响。增长智力的方法有: 增长智力的方法有: 言语、逻辑、视觉、交往等方式实现。D 补充新论据加强结论。

97. 【解析】B。论点: 经常食用巧克力可降低中风风险。论据中只提交男性的相关数据, B 选项补助女生的结果与男生一致, 肯定前提。C 项起解释说明的作用, 为补充论据, 支持力度弱于肯定前提。

98. 【解析】D。题干之中的矛盾为增加了休息时间, 生产业绩没有提升, 反而下降。A 项中没有严格执行, 只能说明没能提升太多, 即没达到如 40% 的高度, 但无法说明下降的问题。BC 无关, D 项说公司生产都是流水线作业, 员工做的都是单一机械动作, 这和题干中所交待的大前提: 完成一项复杂艰巨的任务不同。所以前提不同, 必须会产生不一样的结果。

99. 【解析】B。



由题干可知, 只有一个同部门的正副局长被隔开, 也即意味着有三个局的正副是在一起坐着。另外分析三个已知信息, 可以将题干中相应的座次确定如上图。由此可以得到答案为 B。

100. 【解析】D。A 项从题干中并未提到恶性肿瘤是不是致死主要原因, 故错误; B 项题干中恶性肿瘤的治疗水平也未提及, 故错误; C 项假使主要疾病在所有疾病中占到 30%, 其他每种疾病都小于 30%, 但是其他疾病总和占到 70%, 其他所有疾病的病发率下降, 治愈率提高, 也会导致该市人口平均寿命的提高, 但此提高与主要疾病并无关系, 故错误; D 项题目中提到该市恶性肿瘤的总体发病率和死亡率目前已相当于欧美等发达国家和地区的 2/3--3/4, 这充分说明了比欧美等发达国家和地区低, 所以选择 D。

101. 【解析】B。2012 年某市参加生育保险的人为 51.52 万人, 占应参保人数比重为 90.9%, 所以 2012 年该市应参加生育保险的人数为 $\frac{51.52}{90.9\%}$, 直除首位是 5, 由于 $\frac{51.52}{90.9\%}$ 一定大于 51.5, 因此答案选择 B 选项

102. 【解析】D。比重比较法则: 部分的增长率大于整体的增长率, 现期比重大于基期比重, 比重上升; 部分的增长率小于整体增长率, 现期比重小于基期比重, 比重下降。

养老保险: 女性参保人数同比增长 7.5%, 整体增长 9.6%, 部分增长率整体增长率, 比重下降;

基本医疗保险: 女性参保人数同比增长 29.6%, 整体增长 6.8%, 部分增长率整体增长率, 比重上升;

失业保险: 女性参保人数同比增长 1.4%, 整体增长 1.4%, 部分增长率整体增长率, 比重未发生变化; 工伤保险:

女性参保人数同比增长 58.7%, 整体增长 16.9%, 部分增长率整体增长率, 比重上升;

所以比重明显高于上年的有: 基本医疗保险、工伤保险。因此选择 D 选项。

103. 【解析】A。基本医疗保险的男性参保人数 $= 102.12 - 28.38 = 73.74$; 工伤保险的男性参保人数 $= 46.43 - 15.3 = 31.13$, $\frac{73.74}{31.13} \approx 2.4$ 。因此选择 A 选项。

104. 【解析】D。基本养老保险、基本医疗保险、失业保险、工伤保险的同比增速分别为: 9.6%、6.8%、1.4%、16.9%。从高到低的排序为: 工伤保险—基本养老保险—基本医疗保险—失业保险。可以判定 D 选项是正确的。因此选择 D 选项。



105. 【解析】C。

A选项: 女性参加工伤保险人数的增加量 $= \frac{15.3 \times 58.7\%}{1 + 58.7\%}$, 根据增长率大, 增长量大, 可以得知: $\frac{15.3}{1 + \frac{1}{58.7\%}} < \frac{15.3}{1 + \frac{1}{60\%}}$

而 $\frac{15.3}{1 + \frac{1}{60\%}} = \frac{15.3}{1 + \frac{5}{6}} \approx \frac{45.9}{8} < 7$, 所以A选项错误。

B选项: 基本养老保险的参保人数的增加量 $= \frac{69.80}{1 + \frac{1}{9.6\%}} < \frac{69.8}{11} < 7$, 所以B选项错误。

C选项: 基本医疗保险参保者中女性的比重为27.8%, 工伤保险参保者中女性的比重为32.91%。27.8% < 32.91%, 因此C选项正确

D选项: 今年参加失业保险的男性人数为: $74 - 33.3 = 40.7$

上年参加失业保险的男性人数为: $\frac{74}{1 + 1.4\%} - \frac{33.3}{1 + 1.4\%} = \frac{40.7}{1 + 1.4\%} < 40.7$, 所以D选项错误

106. 【解析】A。1—3月实现利润同比增长12.1%, 增幅比1—2月回落5.1个百分点。所以1—2月的同比增长率为: 12.1% + 5.1% = 17.2%, 所以选择A选项。

107. 【解析】B。

1—3月主营业务收入利润率 = $\frac{11740.1}{222363.6}$, 选项首位不同, 直除首位为5, 因此选择B选项。

108. 【解析】A。

A选项 $= \frac{177.7}{2719.9}$ B选项 $= \frac{3757.1}{70021.4}$ C选项 $= \frac{3412.2}{58770.1}$ D选项 $= \frac{6843.2}{129554.9}$

D选项的量级比A、B、C三项小, 排除D选项。A、B、C三项量级相同, 用直除的方法, 首位分别为6、5、5。所以最高的是A选项。因此选择A。

109. 【解析】B。

外商及港澳台商投资规模以上企业主营业务收入的同比增加量为:

$$\frac{54066.7}{1 + \frac{1}{8.0\%}} = \frac{54066.7}{1 + \frac{100}{8}} = \frac{54066.7}{1 + \frac{25}{2}} = \frac{54066.7 \times 2}{27} \approx 2002 \times 2 = 4004,$$

也就是说, 答案应该是四千零几的一个数, 因此选择答案B选项。

110. 【解析】C。



A选项: 私营企业的同比增长速度 (18.4%) 和股份制企业 (14.0%) 的同比增长速度均高于整体的增长速度 (11.9%)。所以 A 选项是错误的。↵

B选项: 股份制企业的利润额为 6843.2, 整体的利润额为 11740.1. $\frac{6843.2}{11740.1} > \frac{1}{2}$,

因此 B 选项错误。↵

C选项: 利润率 = $\frac{\text{利润总额}}{\text{主营业务收入}}$, 利润总额同比增长 12.1%, 主营业务收入同比增长 11.9%。分子的增速快, 所以利润率高于上年同期水平。C 选项正确。↵

D选项: 1—3月的利润总额为 11740.1 亿元, 月均实现利润额为 $\frac{11740.1}{3} < 4000$,

所以 D 选项错误。↵

111. 【解析】C。

直接带入增长量计算的公式, 则有 $\frac{364835}{1+20.6\%} \times 20.6\% \approx 6$ 万亿元。↵

112. 【解析】A。现期比重和基期比重之间的比较, 此类题目只需要找到部分的增长率和整体的增长率即可, 由于现期比重是上升的, 因此需要找到的是部分的增长率大于整体的增长率, 整体增长率为 20.6%, 观察这三个产业, 只有第一产业的增长率明显大于整体增长率。

113. 【解析】B。第二产业投资额最高的行业为制造业, 增速为 22.0%; 最低的行业为建筑业, 增速为 24.6%, 因此两个相差 2.6 个百分点。

114. 【解析】D。题目中有批发和零售业、交通运输仓储和邮政业、住宿和餐饮业、房地产业、租赁和商务服务业、水利环境和公共设施管理业、文化体育娱乐业共 7 个行业。

115. 【解析】B。



A 选项, 第三产业中只有批发和零售业、交通运输以及仓储和邮政业、房地产业、水利环境和公共设施管理业 4 个行业的固定资产超过第一产业。

故 A 选项错误。

B 选项, 简单读数, 第三产业中固定资产投资额最低的行业金融业, 其同比增速为 46.2%, 是最高的。因此 B 正确。

C 选项, 采矿业占第二产业的比重为 $\frac{13129}{158672} < 10\%$, 因此不到一成。

D 选项, 第三产业中固定资产投资额同比增速最低的行业是交通运输、仓储和邮政业为 30296, 因此其投资额占全产业的 $\frac{30296}{197159} \approx 15.4\%$ 故 D 选项错误。

116. 【解析】A。明显看出, 2011 年的增长率和 2010 年是一样的, 但是 2011 年的现期量明显大于 2010 年, 所以 2011 年的人口增长量高于 2010 年的水平 (增长率相差不大的情况下, 现期量大, 增长量大)

117. 【解析】B。本题是求 2011 年和 2006 年相比自然增长率下降的百分点, 因此 $5.28\% - 4.79\% = 0.49\%$, 也即 0.049 个百分点。故选择 B 选项。

118. 【解析】A。

根据图形可以看出 2011 年我国 15-64 岁的人口比重为 74.4%, 又因为 2011 年我国 15-59 岁的比重为 69.8%, 因此 60-64 岁人口比重为 $74.4\% - 69.8\% = 4.6\%$, 因此 60-64 岁的人口约为 $134735 \times 4.6\% \approx 6198$ 。

119. 【解析】C。

本题是考查增长量的计算, 首先算出 2011 年末我国 65 岁及以上人口是 $134735 \times 9.1\%$ 。2010 年末我国 65 岁及以上人口是 $134091 \times 8.9\%$ 。因此两者的差为 $134735 \times 9.1\% - 134091 \times 8.9\% \approx 12261 - 11934 \approx 326.9$ 。

120. 【解析】D。



A 考查基期量的计算, 由于题目中没有给出 2006 年人口增长率, 所以无法推出 2005 年的人口总量。✘

B 考查增长率的计算, 2011 年我国人口总量比 2006 年的增长率为 $\frac{134735-131448}{131448} = \frac{3287}{131448} \approx 2.5\%$, 因此不到 3%, 选项错误✘

C 题目中没有给出 15-64 岁人口的增长率, 因此增长量无法推出, 故 C 选项错误。✘

D 简单读数, 通过第二个图可以看出来, 我国 0-14 岁人口比重是逐年下降的, 故 D 正确。✔