



2018年5月河北省石家庄事业单位考试

《综合能力测验》真题 (综合岗)



公众号名称: 厚职事业单位, 扫码关注获取更多真题和资料
厚职教育事业单位招聘信息网 (www.kaosydw.com) 整理提供



2018年河北石家庄事业单位考试综合能力测验真题及答案(综合岗)

2018年5月河北省石家庄市事业单位考试《综合能力测验》(综合岗)真题

一、言语理解与表达, 本部分包括表达与理解两方面的内容。请根据题目要求, 在四个选项中选出一个最恰当的答案。

1、为进一步_____雷锋精神, 倡导“尊老、敬老、爱老”的传统美德, 5月1日上午, 石家庄学院的20名大学生走进了石家庄市老年人养护院, 开展了“志愿敬老行, 关爱传真情”的爱心志愿者公益活动。

填入画横线部分最恰当的一项是()

- A. 弘扬
- B. 发扬
- C. 表扬
- D. 光大

2、为深入贯彻落实习近平总书记关于教育精准扶贫工作的要求, 日前, 长安区驻冻庄精准扶贫工作组_____长安辖区七所学校(幼儿园)赴行唐县冻庄小学开展“落实精准扶贫爱心温暖冻庄”助教活动。

填入画横线部分最恰当的一项是()

- A. 率领
- B. 带领
- C. 引领
- D. 命令

3、这次班主任经验交流会, 不仅给老师们搭建了一个相互交流研讨、相互学习共享的平台, 拓宽了班主任工作思路, 更是推进了“立德树人”目标的落实, _____了班主任核心素养。

填入画横线部分最恰当的一项是()

- A. 培养
- B. 发掘
- C. 提升
- D. 提高

4、一般, 三月起, 各高校会陆续_____自主招生简章, 开始接受考生报名。

填入画横线部分最恰当的一项是()

- A. 布置
- B. 颁布
- C. 宣布
- D. 发布



5、为什么有些老人的血管一直清清爽爽, _____ 有些人年纪轻轻就多处堵塞呢? 专家总结了堵塞血管的五大元凶: 暴饮暴食、长期熬夜、情绪不好、烟不离手、缺乏运动。

填入画横线部分最恰当的一项是 ()

- A. 但是
- B. 为何
- C. 反而
- D. 然而

6、为深入贯彻习近平总书记关于“厕所革命”的重要指示, _____ 影响群众生活品质的短板, 建设美丽宜居新农村, 石家庄各县切实推进农村“厕所革命”, 共创健康生活环境。

填入画横线部分最恰当的一项是 ()

- A. 修补
- B. 补齐
- C. 改进
- D. 增强

7、为降低孕产妇和儿童死亡率, 提高出生人口素质, 市卫生计生系统 _____ 教育局每年开展两次儿童保健管理培训和托幼机构集体儿童保健服务。

填入画横线部分最恰当的一项是 ()

- A. 联合
- B. 要求
- C. 请求
- D. 配合

8、青年人若肝火旺盛应 _____ 食用大辛大热的食物, 少吃酸味食品, 以及羊肉、辣椒、海虾等。

填入画横线部分最恰当的一项是 ()

- A. 注意
- B. 禁忌
- C. 多吃
- D. 科学

9、我国不少地区民间有吃生鸡蛋的习惯, 认为生鸡蛋比煮熟鸡蛋营养价值更高。 _____ 上, 生食鸡蛋并不可取。

填入画横线部分最恰当的一项是 ()

- A. 理论
- B. 实践
- C. 操作
- D. 事实



10、季高血压患者如果晨练太早, 气温太低会使血管骤然收缩, 高血压患者最好在上午 9 时许再_____晨练。

填入画横线部分最恰当的一项是 ()

- A. 重新
- B. 避免
- C. 开始
- D. 完成

11、家庭教育指导老师_____的讲座和生动有趣的事例, 使广大家长产生了深深的共鸣, 引发了对自己家庭教育的思考。

填入画横线部分最恰当的一项是 ()

- A. 严肃认真
- B. 醍醐灌顶
- C. 高深莫测
- D. 声情并茂

12、石家庄新闻网互动访谈演播室邀请到石家庄学院物电学院和河北经贸大学经济管理系的师生们做客本网, 围绕社会主义核心价值观的宣传教育和学习践行_____。

填入画横线部分最恰当的一项是 ()

- A. 畅所欲言
- B. 人云亦云
- C. 各抒己见
- D. 众口一词

13、大家在这个新时代里, 既要阅读传统、传承精神, 又要阅读知识、增长才干, _____阅读时代、奋发作为, 共同写好中华民族伟大复兴中国梦的石家庄新篇章。

填入画横线部分最恰当的一项是 ()

- A. 还要
- B. 更要
- C. 又要
- D. 急要

14、我国颁布了食盐加碘的国家新标准, 摒弃了全国“_____”的食盐加碘浓度, 代之以授权各省根据当地的碘自然资源状况决定本地的食盐加碘浓度。

填入画横线部分最恰当的一项是 ()

- A. 一盘棋
- B. 大一统
- C. 一刀切
- D. 强制执行



15、小贾顺手拿起手机翻看通讯录,发现里面存储的 4000 多个姓名和号码,_____有近一半不知是谁,更记不起是什么时间、什么地点存留下来的。仔细想一想,大概是在不同的时机和场合,与这些_____的人有过简单的一面之缘,当时就存留下来了。

依次填入画横线部分最恰当的一项是 ()

- A. 显然 机缘巧合
- B. 俨然 南来北往
- C. 竟然 萍水相逢
- D. 居然 素昧平生

16、选择,不要_____一次成功,这要有赖于漫漫人生路上感性的积聚与理性的升华。感性的积聚使人聪敏,理性的升华使人睿智。这种积聚与升华到了家,那么梦想便不再是_____。

依次填入画横线部分最恰当的一项是 ()

- A. 奢望 海市蜃楼
- B. 希望 空中楼阁
- C. 幻想 画饼充饥
- D. 期盼 镜花水月

17、一项研究表明:由父母带大的孩子智商高,他们在学校里的成绩往往更好,将来走向社会也更容易成功。尽管很多男性已经领悟到父教的_____,但现实生活中父教的缺位并不鲜见。中国家庭分工普遍注重“男主外,女主内”,投入到孩子身上的时间自然就会减少;有些男性存在浓厚的“大男子主义”情结,认为父教是“_____”,就算有时间,也不愿陪伴孩子;还有的父亲尚未认识到父教的必要性和重要性。

依次填入画横线部分最恰当的一项是 ()

- A. 大有可为 小题大做
- B. 不可或缺 雕虫小技
- C. 大有裨益 家长里短
- D. 至关重要 大材小用

18、在数字化多媒体时代,媒介参与的深度和广度日渐拓展,数字技术应用于文化遗产的保护已从原始的简单记录发展到对文化遗产的精准_____,运用数字输入、摄像等各种数字化技术对文化遗产进行多形式的_____,建立数字化的文化遗产档案和“非遗”博物馆等,都是当前很好的“非遗”保护方法。

依次填入画横线部分最恰当的一项是 ()

- A. 修复 展现
- B. 描述 挖掘
- C. 定位 探索
- D. 复原 采集



19、近年来, 一些不负责任的谣言泛滥成灾, 极大地_____着社会成本, _____着世道人心。_____网络谣言、净化网络环境已经成为包括广大网民、互联网企业和管理部门等在内的全社会的共识。

依次填入画横线部分最恰当的一项是 ()

- A. 耗费 扰乱 遏止
- B. 消耗 损害 遏制
- C. 耗尽 蛊惑 禁绝
- D. 侵蚀 破坏 杜绝

20、有的人在填报高考志愿时选报热门专业, 理由是能学以致用, ①是一种误解。学以致用的真正含义是将学到的知识用于实践, ②不是看什么东西有用才决定去学。摒弃功利性③使人抱着乐观的态度去学习: ④有用才去学习会使人产生心理负担, ⑤总要担心以后会不会真的有用。抱着功利之心去挑选专业, 往往会牺牲自己真正的兴趣, ⑥毕业后谋到了不错的职位, 也不一定就工作得很开心。

依次填入画横线部分最恰当的一项是 ()

	①	②	③	④	⑤	⑥
A	其实这	而	要	确定	所以	/
B	这其实	/	能	认为	因为	即使
C	实际上	却	会	/	可能	就是
D	这	当然	就是	如果	/	虽然

- A. A
- B. B
- C. C
- D. D

21、下列成语中没有错别字的一项是 ()

- A. 水乳交溶
- B. 揣揣不安
- C. 金榜题名
- D. 莫不关心

22、下面没有错别字的一项是 ()

- A. 千里之堤, 愤于蚁穴
- B. 十年奋斗, 夙愿得尝
- C. 三峡重峦叠嶂, 气势雄伟
- D. 事业常成于坚忍, 毁于急燥

23、下列各句中, 表达得体的一句是 ()

- A. 这个问题我请教了許多人, 都得不到解决, 于是不耻下问, 向先生您请教。



B. 你的报告对我们有一定的帮助, 特此致谢!

C. 会议开始前, 主持人特别提醒: “为了保持会场安静, 请各位关闭手机!”

D. 贵校师生热情地请我作报告, 校长亲自在门口恭候光临, 使我深受感动。

24、下列各句中, 表达得体的一句是 ()

A. 您送给我的书内容丰富, 充满真知灼见, 我会好好惠存, 常常研读。

B. 杨绛先生独自居住在西城区一个普通的小区, 幸好有众多学子的垂爱, 老人的晚年才不会太寂寞。

C. 滴水之恩当涌泉相报, 您当年对我的帮助我绝不会忘记的, 这次的事情我一定会鼎力相助, 您就放心吧。

D. 小明对王老师说: “您是学界泰斗, 我们这些刚入行的后辈还有好多问题要向您请教, 还望您能不吝赐教。”

25、下列各句中, 表达得体的一句是 ()

A. 母校百年校庆之际, 张教授的拙作《互联网时代的共享文化》在国际上获大奖, 可喜可贺。

B. 小张写作论文数据翔实、论据充分, 导师斧正一丝不苟、锱铢必较, 论文产生了广泛影响。

C. 马老师端起酒杯说: “黄老先生, 今天是您的寿诞之日, 我祝您健康长寿!”

D. 王教授是唐诗研究行家, 他对李白诗风的论述非常透彻, 真是抛砖引玉, 让同学们大开眼界。

26、4月的浙江安吉, 竹林摇曳、绿水清波, 一派魅力江南好风光。但在十多年前, 这里自办不少水泥厂和开采石灰岩的矿山, 环境受到破坏。县里下决心关停矿山, 倾力建设“美丽乡村”, 开启了在发展中保护、在保护中发展的全新路径, 使村庄美丽起来, 让生态产生效益。不仅在安吉, 还有德清、富阳、临安、诸暨、丽水、衢州等地, 乡村面貌也焕然一新, 美丽公路串起“美丽乡村创建先进县示范县”、“整乡整镇美丽乡村”、“精品村”、“美丽庭院”等, 带动浙江乡村整体人居环境领先全国。

这段文字的主旨是 ()

A. 保护生态环境的重要性

B. 通过保护“美丽生态”改善农村人居环境

C. 建设“美丽乡村”

D. 开启在发展中保护、在保护中发展的全新路径

27、如今的运动“套餐”可谓越来越丰富, 除了要配齐高科技跑鞋、衣服、护具、腕表等, 音乐也是很多人运动时的“标配”。加上近两年无线耳机的类型越来越多, 运动早已不是闷头苦练的枯燥过程了。不过, 听音乐可不仅仅是为了“拯救”无聊, 许多研究都证明, 选对了音乐确实能提高我们的运动表现, 让我们坚持更长时间, 锻炼得更卖力。

这段文字作者想表达的是 ()

A. 选对音乐运动效果能翻倍

B. 运动早已不是闷头苦练的枯燥过程

C. 音乐的重要性

D. 音乐是很多人运动时的“标配”



28、人们只知道噪声影响听力, 其实噪声还影响视力。试验表明: 当噪声强度达到 90 分贝时。人的视觉细胞敏感性下降, 识别弱光反应时间延长; 噪声达到 95 分贝时, 有 40% 的人瞳孔放大, 视力模糊; 而噪声达到 115 分贝时, 多数人的眼球对光亮度的适应都有不同程度的减弱。_____。

填入画横线部分最恰当的一句是 ()

- A. 所以, 如果在噪声环境中活动, 就容易使人出现眼疲劳现象。
- B. 因此, 人如果长时间处于噪声环境中, 就很容易出现眼疲劳、眼痛、眼花和视物流泪等眼损伤现象。
- C. 所以, 眼疲劳、眼痛、眼花和视物流泪等眼损伤现象, 对于处于噪声环境的人来说, 是很容易产生的。
- D. 因此, 对处于噪声环境中的人来说, 时间长了, 就很容易产生眼疲劳现象。

29、随着移动支付安全技术的不断提高, 多样化的安全验证方式为消费者提供了更多选择。2017 年, 相关受调查者使用过指纹识别方式的比例高达 46%, 同比增长 2.5 倍, 这一生物识别验证方式有望成为移动支付中的主要验证方式。此外, 掌纹、虹膜、人脸等生物识别技术的进一步发展将提升移动支付认证技术, 使移动支付更加安全和便捷。

这段文字主要说的是 ()

- A. 多样化的安全验证方式为消费者提供了更多选择
- B. 保障移动支付的安全技术手段正在不断创新
- C. 移动支付认证技术使移动支付更加安全和便捷
- D. 移动支付认证技术发展很快

30、对于欧盟 GDPR (《一般数据保护条例》) 的监管挑战, 各国政府应当充分研究欧盟数据保护监管的利益关切和行动计划, 加强信息开放与共享, 健全实体法之间的协调机制, 寻找监管标准的最大公约数, 积极寻求产业合作和个人信息保护执法合作, 实现全球数据保护的共商共治。

这段文字的主旨是 ()

- A. 加强各国之间的数据合作
- B. 加强信息开放与共享
- C. 研究应对监管挑战
- D. 完善数据保护执法合作机制

31、工作或职位的内涵, 本来就是一个复杂的组合, 每一项工作都有它创意、趣味、多元的一面, 更有它辛苦、无聊、重复发生、令人讨厌的一面。许多有才气的人, 最后一事无成, 不是他才气不足, 只是他耐心不够, 无法通过无聊、无趣的考验, 以至于才气被怨气蒸发了。多少才气纵横但怨气冲天的人, 最后成为组织边缘人、成为组织的问题人物, 成为领导不得不挥泪放弃的马谡。

作者通过这段文字所表达的主要观点是 ()

- A. 人在工作中往往不会一帆风顺
- B. 对工作存在怨气是许多人失败的根本
- C. 我们应该耐心对待工作中的无聊与无趣



D. 有才华的人不一定能在工作中取得成功

32、人文教育从表面上看, 好像只是传授文史哲方面的知识, 尤其是在现在的学科体制下, 一切教育似乎都可以量化为客观知识和能力, 如英语的等级考试。实际上人文教育是通过文史哲的学习, 通过对人类千百年积累下来的精神成果的吸纳和认同, 使学生有独立的人格意志, 有丰富的想象力和创造性, 有健全的判断能力和价值取向, 有高尚的趣味和情操, 有良好的修养和同情心, 对个人、家庭、国家、天下有一种责任感, 对人类的命运有一种担待。

这段话表达的主要观点是 ()。

- A. 英语的等级考试是为大众所熟悉的一种人文教育
- B. 人文教育的主要内容是传授文史哲方面的知识
- C. 在目前的学科体制下, 人文教育可以量化为客观知识和能力
- D. 人文教育的目的包括人性境界提升, 人格塑造以及个人与社会价值实现

33、信息技术日新月异, 互联网特别是移动互联网已深度融入我们日常生活的方方面面。近年来, 信息网络走入亿万家庭, 网民数量世界第一, 我国已无可争议地成为网络大国。_____。与建设网络强国相比, 我们在互联网深度创新能力、信息基础设施建设、信息资源共享、信息化产业等方面还存在一定的差距。

填入画横线部分最恰当的一句是 ()

- A. 但我们必须清醒地认识到: 网络安全和信息技术发展浩浩荡荡, 不进则退
- B. 毫无疑问, 自主创新是推进网络强国建设的核心力量
- C. 我们一定要牢牢抓住我国信息化发展的历史机遇
- D. 但我们不能沾沾自喜

34、将以下 4 个句子重新排列, 语序正确的是 ()

①正定县围绕“古城古韵、自在正定”品牌, 精心组织了一系列精彩纷呈的旅游活动, 让游客真正体验春游古城、自在正定。

②节前, 恰逢第十一届正博会在石家庄市正定国际会展中心隆重启幕, 来自海内外近 40 个国家、以及国内主流媒体 1.5 万人出席盛会, 掀起了正定古城游的热潮。

③五一期间, 新业态旅游产品备受青睐。

④鹿泉区土门关驿道小镇集结了冀陕晋三省美食、传统民俗, 重现了获鹿三省通衢、著名旱码头的历史盛况, 节日期间接待火爆。

- A. ③②①④
- B. ③④①②
- C. ④②③①
- D. ②①④③

35、将以下 4 个句子重新排列, 语序正确的是 ()



①如此, 在科学技术迅猛发展的当今世界, 我们的人才培养体系一定能够造就一大批具有国际水平的战略科技人才、科技领军人才、青年科技人才和高水平创新团队, 力争实现前瞻性基础研究、引领性原创成果的重大突破。

②要抓好“培养人”这个根本, 就要形成高水平人才培养体系。

③要形成更高水平的人才培养体系, 必须立足于培养什么人、怎样培养人这个根本问题来建设, 可以借鉴国外有益做法, 但必须扎根中国大地办大学。

④学生在大学里学什么、能学到什么、学得怎么样, 同大学人才培养体系密切相关。

A. ②①③④

B. ③④①②

C. ②③④①

D. ②④③①

36、将以下 5 个句子重新排列, 语序正确的是 ()

①一般的污染马上就能引起大众的关注, 而土壤污染看不见, 而且引起的不良后果要在几个月、几年、几十年甚至上百年后才会显现出来。

②土壤、水、阳光和空气是地球生物生存的四大要素。

③因为土壤里的污染物是通过食物链, 主要通过粮食、蔬菜、水果、奶、蛋、肉等进入人体的, 所以有的地方往往不重视对土壤污染的整治。

④然而, 土壤污染比其他污染的危害时间更长, 污染物质并不像在大气和水体中那样容易扩散和稀释, 通过长期积累以后, 其影响往往是区域性的, 而且重金属污染基本上是一个不可逆转的过程, 受其污染的土壤可能要很长时间才能恢复正常。

⑤土壤污染不像大气或水污染物那样, 可以直接进入人体, 危及健康, 而是间接地影响人体健康。

A. ②①⑤③④

B. ⑤③④①②

C. ③⑤②①④

D. ②①③⑤④

(一)

“微创”外科一词顾名思义, 要比“腔镜”、“小切口”、“小径路”、“内镜”外科更为广泛, 它是要达到造成最小的创伤(局部及全身)的外科, 而不是限于哪一种方式或哪一种工具。可以说, 微创外科是指在任何外科创伤应急情况下, 达到最佳的内环境稳定(局部及全身)。

外科学的发展总是离不开当时的科技背景。20 世纪后期, 基于微电子学、光学、现代先进技术和工艺的发展, 出现了内镜、腔镜技术, 这为实现微创外科奠定了坚实的基础。内镜技术的发展, 终于使外科能够有一“绿色通道”来实施。

现代科学技术发展的特征是走向综合化、社会化, 并且速度在加快, 这是不可抗拒的。事实上, 腹腔镜技术在妇产科中已出现多年, 但由于器械上的原因迟迟未用, 直到 1986 年计算机集成电路微型摄像机的出现, 使腹腔镜显像发生了革命性变化。1987 年法国的普通外科及妇产科医生莫丽特, 首次在腹腔



镜下完成了首例胆囊切除术, 奠定了腹腔镜外科的基础。此后, 腹腔镜外科便有力地推动了微创外科的发展。

技术的实施是服务于概念的运用, 而新技术亦将引发新的概念。“外科微创化”作为贯彻于外科各领域的概念, 将促使微创外科技术的全面发展。“微创”一直是外科学追求的境界, 但以往无法克服小切口与显露不充分的矛盾。内镜技术引出新概念: 小入路, 有限制的充分显露。完善的外科需要手术视野的完整显露, 并不是需要大切口。内镜解决了手术入路并不改变外科实质。广义的微创外科应是缩小外科所带来的局部和全身的伤害性效应, 不管是采用何种方法。所以微创外科概念应该并非只是限于内镜术和腹腔镜术, 而有更广阔的视野。

21 世纪的微创外科, 前景是非常激动人心的。在这个信息时代, 传统的外科操作可能被微创的、准确的器械操作所代替。其趋向将是从小创到无创的发展, 外科医生可能从用手操作过渡到用计算机操作, 可以完全不接触病人, 实现从当前的腔镜手术, 到机器人辅助的手术, 再到远距离操纵的手术。当前发展很快的如虚拟技术、三维立体可视技术和计算机控制的机器人手术, 可以比外科医生的手更为准确并确保无误。科学技术的发展带来了由生物学、信息学和物理学互相融合的生物智能时代, 但随之又会出现新问题, 就是在 21 世纪外科医生该怎么办? 看来这是不可避免的, 外科医生只能抱着开放的心情, 学习和融合到新的科技发展的潮流中去!

37、最适合做这篇文章标题的是 ()

- A. 微创时代
- B. 外科手术中的“微创”与“无创”
- C. 外科“微创化”
- D. 外科学的发展

38、对“微创外科”技术说明不正确的一项是 ()

- A. 它是限于哪一种方式或工具的达到造成最小创伤的外科。
- B. 任何外科创伤应急情况下, 达到最佳的内环境稳定。
- C. 仅限于内镜外科和腹腔镜外科。
- D. 缩小外科所带来的局部和全身的伤害性效应, 而不管采用什么方法。

39、根据原文提供的信息, 下列判断正确的一项是 ()

- A. “微创外科”是在腔镜、小切口、小路径、内镜外科基础上发展起来的, 它们才是外科学发展的基础。
- B. 由于虚拟技术、三维立体可视技术和机器人发展很快, 因此, 它们比外科医生的手术更为准确。
- C. “外科微创化”作为贯彻于外科各领域的概念, 促使微创外科技术全面发展, 并成为外科学追求的最高境界。
- D. 微创外科有广义和狭义之分。“21 世纪的微创外科, 前景是非常激动人心的”, 即是针对广义的微创外科而言的。

40、下列说法不符合原文意思的一项是 ()

- A. 21 世纪是信息时代, 微创的、准确的器械操作将代替传统的外科操作。



B. 生物智能时代的到来, 不可避免地带来新问题, 那就是 21 世纪外科医生应该怎么办?

C. 现代科学的发展有力地推动了外科学的发展, 腹腔镜技术的运用就说明了这点。

D. 随着科学技术的迅猛发展, 外科学将由微创发展到无创, 外科医生可能由手工操作手术过渡到用计算机操作以至远距离操纵手术。

二、数量关系, 在四个选项中选出一个最恰当的答案。

41、有位学生特别喜爱数学, 他要求自己在一周内平均每天练 8 道数学题。星期一至星期四每天都已练 9 道, 星期五参加钢琴比赛没有练数学, 星期六练 10 道题, 那么, 这个星期日要练几道才达到要求? ()

A. 8

B. 10

C. 12

D. 14

42、6 年前父亲的年龄是儿子的 5 倍。今年父子年龄和是 78 岁, 父亲今年 () 岁。

A. 48

B. 50

C. 55

D. 61

43、有六个数, 它们的平均数是 25, 前三个数的平均数是 21, 后四个数的平均数是 32, 那么第三个数是多少? ()

A. 32

B. 34

C. 38

D. 41

44、一根长 288 厘米的绳子, 每 6 厘米做个记号, 再每 4 厘米做个记号, 然后将有记号的地方剪断, 则绳子被剪成了多少段? ()

A. 24

B. 72

C. 96

D. 120

45、甲乙在银行存款共 96 万元, 如果两人分别花掉了自己存款的 40%, 再从甲存款中提 1.2 万元给乙。这时两人钱相等, 问乙原来的存款是多少万元? ()

A. 30

B. 46

C. 50

D. 60



46、王某参加语文竞赛, 他一共得了 68 分。评分的标准是: 每做对一道得 20 分, 每做错一道倒扣 6 分。已知他做对题的数量是做错题的两倍, 并且所有的题他都做了, 问这套试卷共有多少道题? ()

- A. 6
- B. 8
- C. 10
- D. 12

47、三个朋友乘飞机去旅行, 三人所带行李的质量都超过了可免费携带行李的质量, 要另付行李费, 三人共付了 4 元, 而三人行行李共重 150 千克, 如果这些行李让一个人带, 那么除了免费部分, 应另付行李费 8 元。每人可免费携带行李的质量是 () 千克。

- A. 20
- B. 25
- C. 30
- D. 35

48、两支成分不同的蜡烛长度相同, 其中 1 支以均匀速度燃烧, 2 小时烧完, 另一支匀速燃烧可以燃烧 3 小时, 傍晚 6 时半同时点燃蜡烛, 到 () 1 支剩余部分正好是另一支剩余的 2 倍。

- A. 7 时
- B. 7 时半
- C. 8 时
- D. 8 时半

49、把 1 至 2005 这 2005 个自然数依次写下来得到一个多位数 123456789.....2005, 这个多位数除以 9 余数是多少? ()

- A. 0
- B. 1
- C. 2
- D. 3

50、一只布袋中装有大小相同但颜色不同的手套, 颜色有黑、红、蓝、黄四种。至少要摸出几只手套才能确保有 3 副手套的颜色相同?

- A. 6
- B. 9
- C. 10
- D. 21

51、晚上小惠准备去吃快餐, 一份套餐包括汉堡、小吃、饮料各一种组成, 如果可供搭配的汉堡有 5 种、小吃有 4 种、饮料有 3 种, 问小惠有多少种套餐的搭配可能呢? ()

- A. 40
- B. 50



C. 60

D. 80

52、 $1992 \times 19911991 - 1991 \times 19901990 = ()$

A. 1991

B. 1992

C. 39823982

D. 39843984

53、两个人做一个移火柴棒的游戏, 比赛规则是: 两人从一堆火柴棒中可轮流移走 1 至 7 根火柴棒, 直到移完为止。轮到谁移走最后一根火柴就算谁输。如果开始时有 1000 根火柴棒, 首先移火柴棒的人在第一次移走多少根时才能在游戏中保证获胜?

A. 1

B. 3

C. 5

D. 7

54、某旅行团乘船出海, 船出现一个漏洞, 水以均匀的速度进入船内, 发现漏洞时已经进了一些水。如果用 12 人舀水, 3 小时舀完, 如果只有 5 个人舀水, 要 10 小时舀完。现在要想 2 小时舀完, 需要多少人? ()

A. 15

B. 17

C. 19

D. 21

55、猎犬发现在离它 10 米远的前方有一只奔跑着的野兔, 马上紧追上去, 猎犬的步子大, 它跑 5 步的路程, 兔子要跑 9 步, 但是兔子的动作快, 猎犬跑 2 步的时间, 兔子却能跑 3 步, 问猎犬至少跑多少米才能追上兔子? ()

A. 40

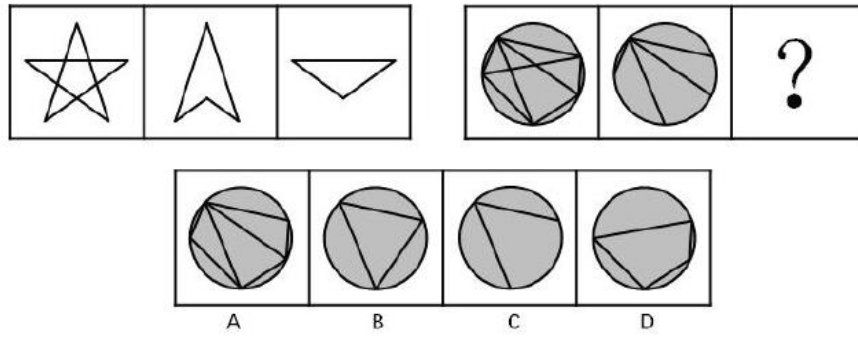
B. 50

C. 60

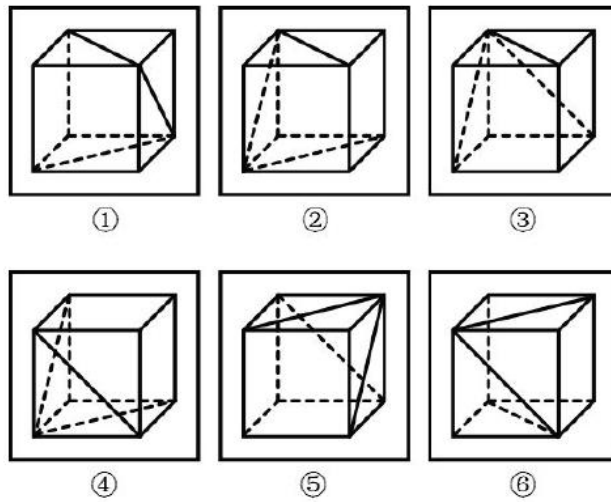
D. 70

三、判断推理, 本部分包括图形推理、类比推理、定义判断、逻辑判断、事件排序五种类型的题目, 在四个选项中选出一个最恰当的答案。

56、从所给的四个选项中, 选择最合适的一个填入问号处, 使之呈现一定规律。 ()

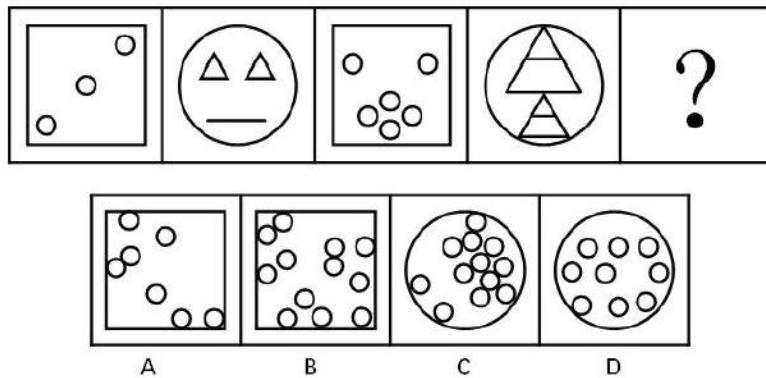


57、把下列的六个图形分为两类, 使每一类图形都有各自的共同特征或规律, 分类正确的一项是 ()

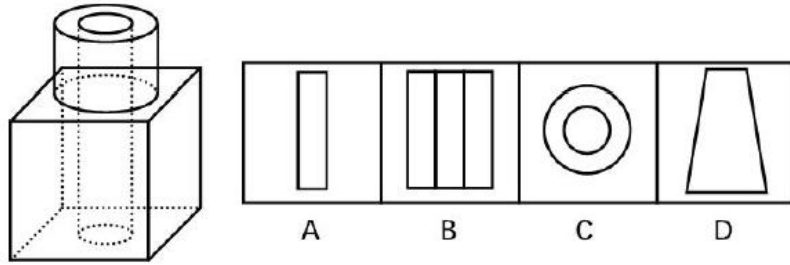


- A. ①③④; ②⑤⑥
- B. ①②⑥; ③④⑤
- C. ①②⑤; ③④⑥
- D. ①③⑥; ②④⑤

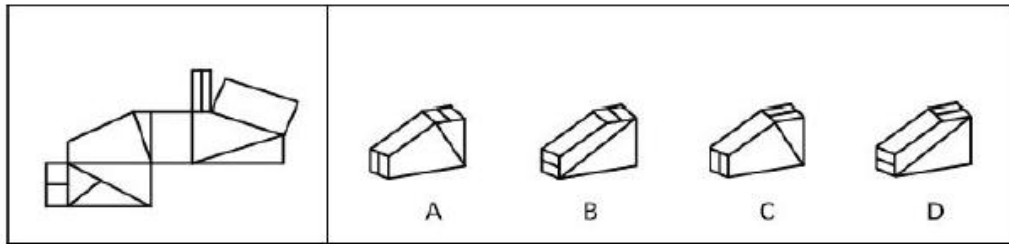
58、从所给的四个选项中, 选出最合适的一个填入问号处, 使之呈现一定规律。 ()



59、如图所示, 立方体上叠加圆柱体再打通一个圆柱孔, 然后从任意面剖开, 下面哪一项不可能是该立体的横截面? ()



60、左边给定的是纸盒的外表面, 右边哪一项能由它折叠而成? ()



61、(1) 留下联系方式及监督电话

- (2) 发放服务需求调查问卷
- (3) 宣传报道成果
- (4) 汇总解决问题
- (5) 实地走访调研

- A. 5-2-1-4-3
- B. 1-5-3-2-4
- C. 2-4-3-5-1
- D. 3-1-4-2-5

62、(1) 学校部分学生陆续发生呕吐、腹泻反应

- (2) 结合实验室检测、流行病学调查、综合分析, 确定事故原因
- (3) 紧急送医, 精心救治
- (4) 对学校进行全面彻底消毒
- (5) 对事故的责任人采取“零容忍”态度, 严肃查处

- A. 4-1-2-5-3
- B. 1-3-4-2-5
- C. 3-1-4-2-5
- D. 1-5-2-3-4

63、(1) 教学管理部审定

- (2) 个人制定教学进度表
- (3) 教学管理部召开任课教师教学进度会议
- (4) 对实际教学进度进行检查
- (5) 教研组开展教研活动, 制定教学计划

- A. 5-4-2-3-1



B. 4-3-1-2-5

C. 3-5-2-1-4

D. 2-5-1-4-3

64、(1) 办理考生报名手续

(2) 办理离校手续

(3) 考生参加升学考试

(4) 考生填写志愿

(5) 领取成绩单

A. 2-3-1-4-5

B. 1-5-3-2-4

C. 3-1-4-2-5

D. 4-1-3-5-2

65、(1) 向全体教职工提出德育计划及要求

(2) 根据上级教育行政部门要求及学校实际制定学期德育计划

(3) 专门会议通过

(4) 听取年级组、班主任、团队教师等相关教师意见

(5) 分别制定年级、班级、团队工作计划, 逐步实施

A. 1-3-5-2-4

B. 2-4-3-1-5

C. 3-4-1-2-5

D. 4-3-5-1-2

66、众创空间是顺应网络时代创新创业特点和需求, 通过市场化机制、专业化服务和资本化途径构建的低成本、便利化、全要素、开放式的新型创业服务平台的统称。

根据上述定义, 下列不属于众创空间的是 ()

A. 柴火创客空间寓意“众人拾柴火焰高”, 为创新制作者 (Maker) 提供自由开放的协作环境, 鼓励跨界的交流, 促进创意的实现以至产品化。

B. 上海的新车间是向硬件高手、电子艺术家、设计师、DIY 爱好者和所有喜欢自己动手捣鼓各种东西的人提供的一个开放式创业社区, 当然同样具有实验空间和基础设备。

C. 城市管理“三验”应用创新园区 (AIP) 探索通过体验、试验、检验“三验”在城市管理领域打造覆盖整个城市的开放创业空间。

D. 美团网为商家找到最合适的消费者, 给商家提供最大收益的互联网推广。

67、信用卡, 是指由商业银行或者其他金融机构发行的具有消费支付、信用贷款、转账结算、存取现金等全部功能或者部分功能的电子支付卡。

根据上述定义, 下列关于信用卡的使用, 说法正确的是 ()

A. 信用卡可以借钱, 我的收入很低, 因此申请信用卡对我帮助很大。



- B. 信用卡有最低还款额度, 因此我借了很多钱还不起的时候, 只要还最低额度就够了。
- C. 信用卡可以透支取现, 所以碰到急事我可以取一些现金出来用, 这对我非常方便。
- D. 这个月我也不记得借了多少钱了, 大体还个数字吧, 就算没还够也只差很少了, 利息也很少

68、细菌为原核微生物的一类, 是一类形状细短, 结构简单, 多以二分裂方式进行繁殖的原核生物, 是在自然界分布最广、个体数量最多的有机体, 是大自然物质循环的主要参与者。

根据上述定义, 下列不属于细菌的是 ()

- A. 链球菌
- B. 芽孢杆菌
- C. 大肠杆菌
- D. 食用菌

69、侧向思维方法, 是指利用其他领域的观念、知识或方法来寻找解决本领域某个问题的可能途径和思路的一种方式。

根据上述定义, 下列选项中没有运用侧向思维方法的是 ()

- A. 格拉塞通过观察啤酒冒泡的现象, 提出了气泡室的设想
- B. 鲁班由茅草的细齿刮破手指而发明了锯
- C. 奥地利的医生奥恩布鲁格, 受到凭敲酒桶叩击声就能知道桶内有多少酒的启发, 想出以“叩诊”的方法诊断人体胸腔中是否有积水。
- D. 居里夫人根据实验室中看到的蓝光, 发现了天然放射性元素镭

70、不当得利指没有合法根据, 或事后丧失了合法根据而被确认为是因致他人遭受损失而获得的利益, 应负返还的义务。

根据上述定义, 以下属于不当得利的是 ()

- A. 养子女向生父母给付生活费
- B. 出租车司机失误多收打车费
- C. 甲因赌博输给乙钱财
- D. 债务人主动清偿未到期的债务

71、科技企业孵化器是以促进科技成果转化、培养高新技术企业和企业家为宗旨的科技创业服务机构。

根据上述定义, 作为一个科技孵化器, 应当具备的基本条件不包括 ()

- A. 要有一个孵化企业进驻的物理空间, 即一定面积的孵化基地, 这个物理空间具有长期由企业孵化器管理机构管理的属性, 而不论其产权如何, 都能长期用作企业孵化基地。
- B. 拥有一个健全的软服务体系。其内容包括会计、法律、信息、融资、担保、宣传、商业计划、培训计划、培训教育、市场营销、技术创新和企业经营管理顾问等服务。
- C. 拥有一支具有丰富的产品开发、项目管理、市场营销和企业管理经验的企业孵化器管理队伍。
- D. 拥有政府资金的支持



72、共享经济, 一般是指以获得一定报酬为主要目的, 基于陌生人且存在物品使用权暂时转移的一种新的经济模式。其本质是整合线下的闲散物品、劳动力、教育医疗资源。

根据上述定义, 以下不属于共享经济的是 ()

- A. 滴滴打车
- B. 摩拜单车
- C. 二手车市场
- D. ofo 小黄车

73、即时通讯是一种基于互联网的即时交流消息的业务。

根据上述定义, 以下不属于即时通讯的是 ()

- A. 微信
- B. Email
- C. QQ
- D. MSN

74、闲人经济, 是指人们将假日时间分配在家庭生活、减少出门消费而带来商机的现象。

根据上述定义, 以下属于闲人经济的是 ()

- A. 放假期间, 甲超市门可罗雀, 而乙超市因搞促销而门庭若市
- B. 某在线购物网站的客服人员因需要在节假日值班, 而在网上订购快餐
- C. 五一假期期间, 某小区附近的按摩店提供上门按摩服务
- D. 某快递公司在五一假期时订单大幅减少, 这是因为很多人去旅游了

75、云计算 (cloudcomputing) 是基于互联网的相关服务的增加、使用和交付模式, 通常涉及通过互联网来提供动态易扩展且经常是虚拟化的资源。这种模式提供可用的、便捷的、按需的网络访问, 进入可配置的计算资源共享池 (资源包括网络, 服务器, 存储, 应用软件, 服务), 这些资源能够被快速提供, 只需投入很少的管理工作, 或服务供应商进行很少的交互。

根据上述定义, 以下不属于云计算特点的是 ()

- A. 超大规模
- B. 比较昂贵
- C. 通用性
- D. 按需服务

76、() 对于 “大红袍” 相当于 () 对于 “《奔跑吧! 兄弟》”

- A. 服装 电视
- B. 咖啡 明星
- C. 茶 综艺
- D. 福建 电视台

77、周日: 休假

- A. 秩序: 遵守



B. 粘土: 沙子

C. 历史: 借鉴

D. 清明: 祭祖

78、资治通鉴 对于 () 相当于 () 对于 明朝

A. 曹雪芹 封神演义

B. 清朝 红楼梦

C. 宋朝 永乐大典

D. 汉朝 水浒传

79、土地: 干旱: 浇灌

A. 局势: 紧张: 和平

B. 家具: 损坏: 修理

C. 胜利: 热情: 呼唤

D. 事物: 新生: 发展

80、股票: 投资: 账户

A. 网购: 付款: 现金

B. 照片: 浏览: 相机

C. 视频: 播放: 软件

D. 游戏: 充值: 点卡

81、阴阳怪气: 左右逢源

A. 始终如一: 是非曲直

B. 爱财如命: 挥金如土

C. 异口同声: 众说纷纭

D. 爱不释手: 弃若敝屣

82、垂髫: 儿童

A. 耄耋: 老人

B. 而立: 青年

C. 青春: 洋溢

D. 开拓: 创新

83、腾空: 动作

A. 总统: 愿望

B. 开朗: 性格

C. 酒店: 昂贵

D. 水彩: 作品

84、创新: 带动: 发展

A. 企业: 利润: 绩效



B. 政府: 宏观: 管理

C. 市场: 计划: 资源

D. 税收: 调节: 差距

85、羚羊: 老虎: 哺乳动物

A. 天鹅: 蝙蝠: 鸟类

B. 裸子植物: 被子植物: 珍稀植物

C. 莲花: 芦苇: 草本植物

D. 娃娃鱼: 大鲵: 鱼类

86、口碑: 票房: 电影

A. 质量: 价格: 商品

B. 公平: 正义: 律师

C. 好评: 差评: 服务

D. 相貌: 品格: 性情

87、美丽: 沉鱼落雁

A. 独特: 举世无双

B. 灵活: 身手敏捷

C. 厌恶: 嗤之以鼻

D. 粗心: 三心二意

88、蛇: 腿

A. 鸡: 翅膀

B. 狮: 爪子

C. 牛: 尾巴

D. 鲸: 鱼鳃

89、朝代: 清代: 明代

A. 爬行动物: 青蛙: 蜥蜴

B. 儒家: 朱熹: 王阳明

C. 刑罚: 有期徒刑: 死刑

D. 首都: 北京: 北平

90、违约 之于 () 相当于 () 之于 承诺

A. 法律; 民俗

B. 处罚; 兑现

C. 合同; 食言

D. 赔偿; 责任



91、一个人到国外留学并不意味着能力水平的提升,更并不意味着所受的教育可以对接国内的就业市场,有的留学生可能还会因离开了国内,回国后在人际关系、工作理念和为人处世方面,反倒与国内社会格格不入。既然如此,用人单位凭什么要高薪聘用一名好听不好用的海归?

以下哪项如果为真,最能支持上述观点? ()

- A. 从学历教育的角度看,留学也只是诸多学历教育的一种,并不天然具有竞争优势。
- B. 留学生一般具有较高的能力
- C. 留学人员是目前中国发展的生力军
- D. 海归人才面临就业压力

92、要选修数理逻辑课,必须已修普通逻辑课,并对数学感兴趣。有些学生虽然对数学感兴趣,但并没修过普通逻辑课,因此有些对数学感兴趣的学生不能选修数理逻辑课。

以下哪项的逻辑结构与题干的最为类似? ()

A. 根据学校规定,要获得本年度的特设奖学金,必须来自贫困地区,并且成绩优秀。有些本年度特设奖学金的获得者成绩优秀,但并非来自贫困地区,因此学校评选本年度奖学金的规定并没有得到很好的执行。

B. 用于初学的骑士训练的马必须强健而且温驯,有些马强健但并不温驯,因此有些强健的马并不适合于初学的骑手。

C. 任何缺乏经常保养的汽车使用了几年之后都需要维修,有些汽车用了很长时间以后还不需要维修,因此有些汽车经常得到保养。

D. 一本书要畅销,必须既有可读性,又经过精心的包装。有些畅销书可读性并不大,因此有些畅销书主要是靠包装。

93、从前,一个孤岛上有一个奇怪的风俗:凡是漂流到这个岛上的外乡人都要作为祭品被杀掉,但允许被杀的人在临死前说一句话,然后由这个岛上的长老判定这句话是真的还是假的。如果说的是真话,则将这人外乡人在真理之神面前杀掉;如果说的是假话,则将他在错误之神面前杀掉。有一天,一位哲学家漂流到了这个岛上,他说了一句话,使得岛上的人没有办法杀掉他。该哲学家说了什么话呢?

()

- A. 你们这样做不合乎理性。
- B. 我将死在真理之神面前。
- C. 无论如何我都会死。
- D. 我将死在错误之神面前。

94、“爆竹声声除旧岁”,说的是欢度春节时的传统习俗,春节燃放烟花爆竹虽然喜庆,但是会带来空气、噪音等环境污染问题,还可能引起火灾,一旦引起火灾,势必造成人身伤亡和财产损失,现在很多城市已经限制燃放,这样就可以避免发生火灾,而且只要限制燃放,就能避免环境污染,让空气新鲜、环境优美。

以下哪项如果为真,最可能质疑上述结论? ()



- A. 火灾会造成人身伤亡
- B. 限制燃放烟花爆竹能避免火灾的发生
- C. 限制燃放烟花爆竹不能避免环境污染
- D. 保护环境人人有责

95、近年来,我国海外代购业务量快速增长,代购者们通常从海外购买产品,通过各种渠道避开关税,再卖给内地顾客从中牟利,却让政府损失了税收收入。某专家由此指出,政府应该严厉打击海外代购行为。

以下哪项如果为真,最能支持上述专家的观点? ()

- A. 近期,有位前空乘服务员因在网上开设海外代购店而被我国地方法院判定犯有走私罪。
- B. 去年,我国奢侈品海外代购规模几乎是全球奢侈品国内门店销售额的一半,这些交易大多避开了关税。
- C. 国内民众的消费需求提高是伴随我国经济发展而产生的正常现象,应以此为契机促进国内同类消费品产业的升级。
- D. 海外代购提升了人们生活水准,满足了国内部分民众对于高品质生活的向往。

96、某教授认为,我国工程技术领域可以考虑与国外先进技术合作,但任何涉及核心技术的项目决不能受制于人:我国许多网络安全建设项目涉及信息核心技术,如果全盘引进国外先进技术而不努力自主创新,我国的网络安全将会受到严重威胁。

根据某教授的陈述,可以得出以下哪项结论? ()

- A. 不能引进国外的先进技术。
- B. 我国工程技术领域的项目不能受制于人。
- C. 我国许多网络安全建设项目不能与国外先进技术合作。
- D. 我国有些网络安全建设项目不能受制于人。

97、某单位通过调查得知,并非所有的员工都在认真工作。

如果上述调查的结论是真实的,则以下哪项一定为真? ()

- A. 所有的员工都没有认真工作
- B. 多数的员工都没有认真工作
- C. 少数员工没在认真工作
- D. 有的员工确实没认真工作

(二)

某影城将在“十一”黄金周7天(周一至周日)放映14部电影,其中,有5部科幻片,3部警匪片、3部武侠片、2部战争片及1部爱情片。限于条件,影城每天放映两部电影。已知:

- (1) 除两部科幻片安排在周四外,其余6天每天放映的两部电影都属于不同类别;
- (2) 爱情片安排在周日;
- (3) 科幻片与武侠片没有安排在同一天;
- (4) 警匪片和战争片没有安排在同一天。



98、以下哪项中的两部电影不可能安排在同一天放映? ()

- A. 武侠片和战争片
- B. 科幻片和警匪片
- C. 警匪片和爱情片
- D. 武侠片和警匪片

99、如果同类影片放映日期连续, 则周六可能放映的电影是以下哪项? ()

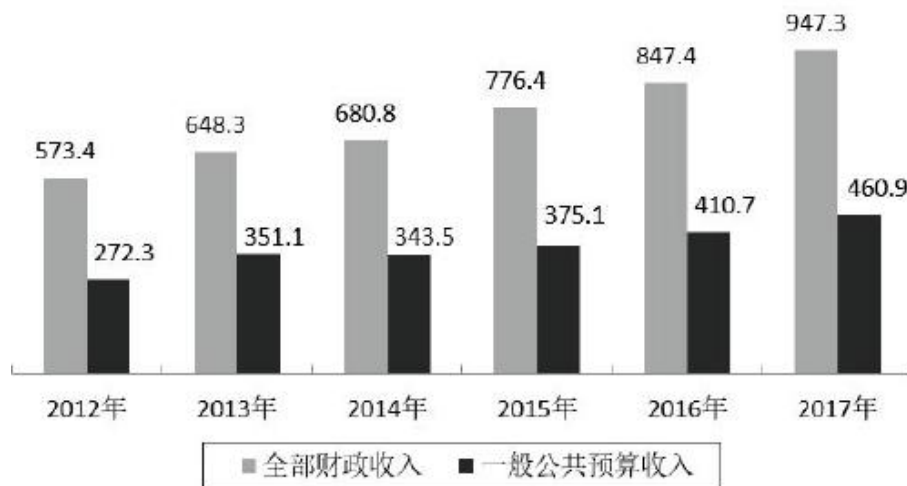
- A. 科幻片和警匪片
- B. 武侠片和警匪片
- C. 科幻片和武侠片
- D. 科幻片和战争片

四、资料分析, 本部分包括文字、图示和表格三种类型的题目, 你应根据提供的资料信息进行分析、比较、计算、处理。

(三)

2017年石家庄市全年全部财政收入947.3亿元, 一般公共预算收入460.9亿元。全年一般公共预算支出806.7亿元, 比上年增长8.1%。其中, 一般公共服务支出83.7亿元, 增长16.3%; 公共安全支出50.6亿元, 增长6.3%; 教育支出167.7亿元, 增长5.3%; 科学技术支出10.1亿元, 下降17.7%; 社会保障和就业支出88.1亿元, 增长21.2%; 医疗卫生支出78.0亿元, 增长7.6%; 节能环保支出59.7亿元, 增长34.9%; 城乡社区事务支出63.2亿元, 与全年持平; 农林水事务支出75.6亿元, 增长2.2%。

2012年-2017年财政收入(亿元)



100、2017年石家庄市全年全部财政收入比上年增长了多少? ()。

- A. 11.8%
- B. 12.9%
- C. 13.1%
- D. 14.2%

101、2013年—2016年石家庄市财政收入比上年增长最快的是 ()。



- A. 2013 年
- B. 2014 年
- C. 2015 年
- D. 2016 年

102、2017 年石家庄市一般公共预算收入比上年增长了 ()。

- A. 17.7%
- B. 16.3%
- C. 14.8%
- D. 12.2%

103、2013 年-2016 石家庄市一般公共预算收入比上年增长最慢的是 ()。

- A. 2013 年
- B. 2014 年
- C. 2015 年
- D. 2016 年

104、2017 年一般公共预算支出同比增长最快的是 ()。

- A. 教育
- B. 医疗卫生
- C. 节能环保
- D. 科学技术

(四)

2017 年全省不同学历毕业生就业行业统计表

行业	合计	比例 (%)	学历							
			博士	比例 (%)	硕士	比例 (%)	本科	比例 (%)	专科	比例 (%)
制造业	34140	10.10	33	2.05	2881	10.70	17154	9.91	14072	10.32
信息传输、软件和信息技术服务业	32415	9.59	47	2.92	4560	16.93	19323	11.16	8485	6.23
建筑业	32071	9.49	14	0.87	1260	4.68	15225	8.80	15572	11.43
教育	26953	7.98	742	46.17	3803	14.12	14195	8.20	8213	6.03
卫生和社会工作	19110	5.65	48	2.99	731	2.71	5900	3.41	12431	9.12
批发和零售业	17984	5.32	5	0.31	277	1.03	9674	5.59	8028	5.89
交通运输、仓储和邮政业	16089	4.76	8	0.50	519	1.93	3487	2.01	12075	8.86
租赁和商务服务业	11185	3.31	2	0.12	416	1.54	5902	3.41	4885	3.57
居民服务、修理和其他服务业	11172	3.31	2	0.12	182	0.68	4346	2.51	6642	4.87
文化、体育和娱乐业	9883	2.92	1	0.06	381	1.41	6635	3.83	2866	2.10



金融业	7967	2.36	5	0.31	1180	4.38	4105	2.37	2677	1.96
科研与技术	7672	2.27	169	10.52	2273	8.44	3619	2.09	1611	1.18
电力、热力、燃气及水生产和供应	7362	2.18	21	1.31	791	2.94	3970	2.29	2580	1.89
公共管理、社会保障和社会组织	6313	1.87	14	0.87	965	3.58	2894	1.67	2440	1.79
房地产业	5337	1.58	3	0.19	406	1.51	2640	1.53	2288	1.68
农、林、牧、渔业	4871	1.44	14	0.87	363	1.35	2207	1.27	2287	1.68
住宿和餐饮业	4610	1.36	0	0.00	32	0.12	1927	1.11	2651	1.95
水利、环境和公共设施管理业	3147	0.93	13	0.81	383	1.42	1675	0.97	1076	0.79
采矿业	2721	0.81	15	0.93	211	0.78	1521	0.88	974	0.71
军队	960	0.28	8	0.50	244	0.91	586	0.34	122	0.09
国际组织	9	0.00	1	0.06	1	0.00	2	0.00	5	0.00
其他	75973	22.48	442	27.50	5077	18.85	46121	26.64	24333	17.85
合计	337944	100	1607	100	26936	100	173108	100	136293	100

105、2017 年全省毕业生中硕士毕业生所占比例为 ()。

- A. 0.47%
- B. 4.61%
- C. 7.97%
- D. 8.45%

106、博士毕业生就业比例最高的行业是 ()。

- A. 制造业
- B. 教育
- C. 科研与技术
- D. 其他

107、从事卫生和社会工作的毕业生人数最多的是 ()。

- A. 博士毕业生
- B. 硕士毕业生
- C. 本科毕业生
- D. 专科毕业生

108、2017 年全省毕业生的本科生比专科生多 () 人。

- A. 36815
- B. 25329
- C. 14253
- D. 9795

109、不能从上述资料推出的是 ()。



- A. 硕士毕业生在信息传输、软件和信息技术服务业、教育、制造业的就业比例较高, 均达到了 10% 以上。
- B. 本科毕业生就业比例较高的行业有信息传输、软件和信息技术服务业、制造业、建筑业。
- C. 专科毕业生就业比例较高的行业有制造业、建筑业、卫生和社会工作, 以及交通运输、仓储和邮政业。
- D. 在信息传输、软件和信息技术服务业这一行业就业的毕业生中, 硕士所占比例比本科生高。

(五)

2018 年一季度, 国内生产总值 (GDP) 增长 6.8%, 扣除人口总量自然增长因素后的人均 GDP 增速约为 6.3%。全国居民人均可支配收入 7815 元, 比上年同期名义增长 8.8%, 比上年同期加快 0.3 个百分点, 扣除价格因素, 实际增长 6.6%。其中, 城镇居民人均可支配收入 10781 元, 增长 (以下如无特别说明, 均为同比名义增长) 8.0%, 比上年同期加快 0.1 个百分点, 扣除价格因素, 实际增长 5.7%; 农村居民人均可支配收入 4226 元, 增长 8.9%, 比上年同期加快 0.5 个百分点, 扣除价格因素, 实际增长 6.8%。农村居民收入增速快于城镇居民 0.9 个百分点。城乡居民收入比由上年同期的 2.57 下降至 2.55。

2018 年一季度, 全国居民人均可支配收入中位数 6580 元, 增长 8.5%。其中, 城镇居民人均可支配收入中位数 9275 元, 增长 6.6%; 农村居民人均可支配收入中位数 3363 元, 增长 9.9%。

2018 年一季度, 东部地区、中部地区、西部地区和东北地区居民人均可支配收入分别为 10389 元、6392 元、5810 元和 6996 元, 分别增长 8.6%、9.0%、9.4% 和 7.1%。东西部地区居民收入比由上年同期的 1.80 下降至 1.79。东北地区居民收入增速比上年同期加快 0.9 个百分点。

按收入来源分, 2018 年一季度, 全国居民人均工资性收入 4450 元, 增长 9.0%, 比上年同期加快 0.3 个百分点。分城乡看, 城镇居民人均工资性收入 6605 元, 增长 7.7%; 农村居民人均工资性收入 1843 元, 增长 10.4%, 比上年同期加快 1.5 个百分点; 人均经营净收入 1372 元, 增长 7.1%, 比上年同期加快 1.0 个百分点; 人均财产净收入 643 元, 增长 10.3%, 比上年同期加快 3.4 个百分点; 人均转移净收入 1351 元, 增长 9.2%。

110、2018 年一季度, 全国居民人均可支配收入实际增速快于人均 GDP 增速 () 个百分点。

- A. 0.3
- B. 0.5
- C. 2
- D. 2.5

111、2017 年一季度, 全国居民人均可支配收入为 () 元。

- A. 6067
- B. 6580
- C. 7183
- D. 9275

112、2018 年一季度, 全国居民人均可支配收入中位数是平均数的 () 。

- A. 79.6%



- B. 84.2%
- C. 96.0%
- D. 88.8%

113、2017 年一季度, 全国居民人均工资性收入占可支配收入的比重为 ()。

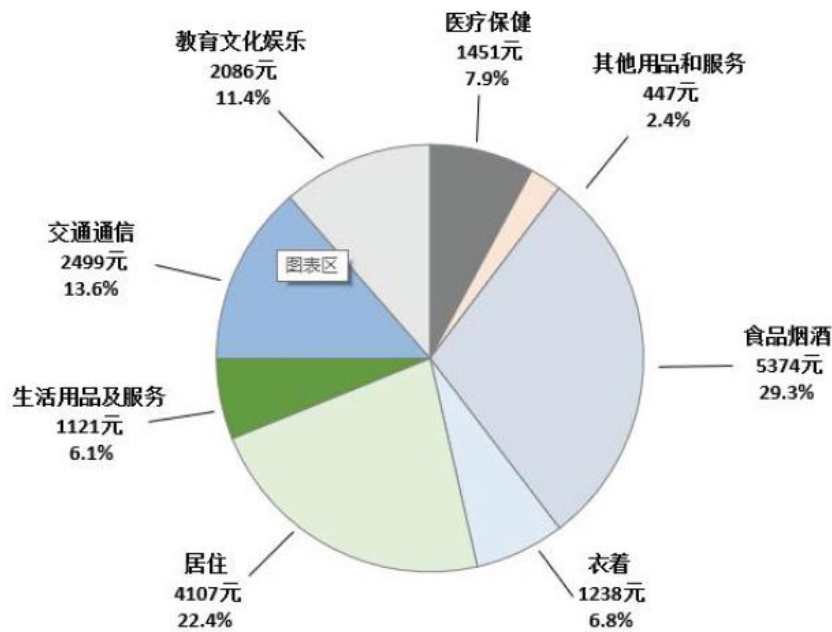
- A. 75.3%
- B. 67.6%
- C. 60.1%
- D. 56.8%

114、根据以上材料, 下列说法中错误的是 ()。

- A. 一季度, 全国居民收入总体保持平稳增长, 与经济增长基本同步。
- B. 农村居民收入增长快于城镇居民。
- C. 一季度外出务工农村劳动力人数减少, 月人均收入下降较快。
- D. 中西部地区居民收入增速快于东部及东北地区。

(六)

2017 年, 全国居民人均消费支出比上年增长 7.1%, 扣除价格因素, 实际增长 5.4%。按常住地分, 城镇居民人均消费支出 24445 元, 增长 5.9%, 扣除价格因素, 实际增长 4.1%; 农村居民人均消费支出 10955 元, 增长 8.1%, 扣除价格因素, 实际增长 6.8%, 恩格尔系数为 29.3%, 比上年下降 0.8 个百分点, 其中城镇为 28.6%, 农村为 31.2%。



2017 年全国居民人均消费支出及其构成

115、2017 年, 全国居民人均消费支出 () 元。

- A. 17700
- B. 18323
- C. 13059



D. 24145

116、2016 年全国居民人均消费支出约为 () 元。

A. 17110

B. 17384

C. 19312

D. 19324

117、2017 年, 全国居民人均消费支出最多的项目是 ()。

A. 医疗保健

B. 教育文化娱乐

C. 居住

D. 食品烟酒

118、2016 年城镇居民人均消费支出为 () 元。

A. 23482

B. 24445

C. 23083

D. 10130

(七)

2016 年末石家庄市共有医疗卫生机构 (含诊所) 6892 个。其中, 医院 205 个, 疾病预防控制中心 (防疫站) 24 个, 妇幼保健院 (所、站) 24 个, 社区卫生服务中心 (站) 193 个, 村卫生室 3973 个。卫生机构实有床位 53357 张, 其中, 医院拥有床位 41972 张, 拥有卫生技术人员 70593 人, 其中, 执业医师 31781 人, 注册护士 27749 人。

2017 年末石家庄市共有医疗卫生机构 (含诊所) 7334 个。其中, 医院 235 个, 疾病预防控制中心 (防疫站) 24 个, 妇幼保健院 (所、站) 25 个, 社区卫生服务中心 (站) 189 个, 村卫生室 4003 个, 乡镇卫生院 222 个。卫生机构实有床位 57642 张。其中, 医院拥有床位 46036 张, 乡镇卫生院 8230 张。拥有卫生技术人员 7.67 万人。其中, 执业医师 2.89 万人, 注册护士 3.03 万人。年末全市各类提供住宿的收留抚养类机构 186 个, 床位 29838 张。其中, 农村养老服务机构 90 个, 床位 16860 张。各类社区服务机构 3846 个, 其中, 社区服务中心 154 个, 社区服务站 141 个。

119、截止 2017 年末石家庄市医疗卫生机构 (含诊所) 同比增长了 ()。

A. 15%

B. 8.7%

C. 6.4%

D. 6.0%

120、与 2016 年相比, 2017 年石家庄市医疗卫生机构数量没有变化的是 ()。

A. 医院

B. 疾病预防控制中心 (防疫站)



C. 妇幼保健院 (所、站)

D. 社区卫生服务中心 (站)

121、2017 年末石家庄市的医院比 2016 年同期增加了 () 张床位。

A. 4064

B. 4285

C. 8230

D. 16860

122、2016 年石家庄市执业医师和注册护士人数约占卫生技术人员人数的 ()。

A. 69%

B. 75%

C. 78%

D. 84%

123、根据以上材料, 下列说法中正确的是 ()。

A. 2016 年石家庄市没有农村养老服务机构。

B. 2017 年比 2016 年执业医师人数减少。

C. 2017 年石家庄市人均享受的医疗服务有了大幅度提高。

D. 2017 年末, 石家庄市共有各类社区卫生服务中心 (站) 295 个。

参考答案

1、所填词语需要搭配“雷锋精神”, 应选择 A 项“弘扬”, “弘扬”原指佛菩萨传播佛法普度众生, 现指大力宣传某种思想和文化, 可以搭配“雷锋精神”。B 项“发扬”指发展和提倡优良作风、传统等。和“弘扬”对比, 其表示倡导的程度较轻, 应排除。C 项, “表扬”指赞扬、赞美, 而在文中强调的是通过实际行动让雷锋精神传承下去, 故应排除。D 项, “光大”作动词时指发展, 程度比“弘扬”轻, 应排除。

故正确答案为 A。

2、A 项, “率领”一般侧重于有上下级关系的语境, 强调有领导职位的人带领下属做事。B 项“带领”只是强调引导, 符合“扶贫工作组”和“七所学校”之间的关系, 两者不存在职位的高低, 故应排除 A 项, 选定 B 项。C 项“引领”指带动事物跟随他或他们向某一方向运动、发展, 一般是“引领”某种潮流, 应排除。D 项, “命令”强制某人做事, 语气过硬, 应排除。

故正确答案为 B。

3、所填词语需要搭配“素养”, A 项“培养”和 B 项“发掘”强调“从无到有”的过程, 而老师们本身就有素养, 只不过应该变得更好一些, 故应先排除 A 和 B 项。C 项“提升”一般搭配“精神方面”, 和“素养”可以搭配, D 项“提高”一般搭配质量和数量方面, 如提高音量, 故应排除 D 项。

故正确答案为 C。



4、所填词语应搭配“招生简章”。A项,“布置”指分布陈列、安置,后面搭配的对象一般是任务或家具等,应先排除。B项“颁布”指政府机关或人民团体将其研拟的法令规章、行政措施和所属成员的权利义务有关的诸事宜,也不能搭配“招生简章”,应排除。C项“宣布”指向听众宣读某个决定、信息,亦可排除。D项“发布”指宣布命令、指示、新闻等,符合语境,当选。

故正确答案为D。

5、根据语境及常识,正常来说,老人的血管应该是不健康的,年轻人是健康的,毕竟老人是衰老的,但是在题目中却提到年轻人的血管反而堵塞了,和正常的情况是相反的,故应填入C项“反而”,表达前后两种现象恰好是相反的。A项“但是”和D项“然后”只表示转折关系,不如“反而”的程度更重,应排除。B项“为何”和上一句的“为什么”重复,且不能体现两句话之间的逻辑关系,应排除。

故正确答案为C。

6、所填词语需要搭配“短板”。“短板”指人的短处、不擅长的地方,既然是“欠缺的”,那就应该“补上”,故直接选定答案B项“补齐”。A项“修补”指在原来的基础上进行修理,这里是“短板”,不存在“原来的东西”,应排除。C项“改进”亦指在原来的基础上进行修改,应排除。D项“增强”不能搭配“短板”,直接排除。

故正确答案为B。

【出处】《灵寿县推进厕所革命共创健康生活环境》

7、根据语境,开展的儿童保健服务是市卫生计生系统和教育局一起做的服务,两个单位是平级关系、合作关系,故应填入A项“联合”。B项“要求”的对象一般是下级部门,应排除。C项“请求”的对象一般是上级部门,应排除。D项“配合”一般指次要的“配合”主要的,而文中的儿童保健服务的主体部门应该是市卫生计生系统,即不是其配合教育局,应排除。

故正确答案为A。

【出处】《晋州市构建母婴安全保障体系大力提高出生人口素质》

8、根据语境,肝火旺盛就不能再食用一些大热的食物了,故应填入B项“禁忌”,指被禁止的行为。而其他选项的意思均是继续食用大辛大热的食物,和语境的要求刚好相反,应排除。

故正确答案为B。

【出处】《春天防“火”分类治疗》

9、横线前强调民间认为生鸡蛋的营养价值更高,横线后强调的是“生食鸡蛋并不可取”,横线前后表达的意思是不一致的,故应填入转折关联词来连接,故答案选择D项“事实”。

故正确答案为D。

【出处】《吃生鸡蛋比吃熟鸡蛋更健康?》

10、文中先强调了晨练太早会使血管骤然收缩,故不可太早锻炼,应等到上午9时许再“开始”晨练,答案选择C项。A项“重新”说明是第二次晨练,还是晨练太早,故和文段意思相反,应排除。B项“避免”是直接不晨练,和前面的“上午9时许”矛盾,应排除。D项“完成”说明上午9时许之前就已经开始晨练,时间太早,应排除。

故正确答案为C。



【出处】《冬至养生》

11、横线后出现“和”表示并列, 说明所填的成语应和后文的“生动有趣”构成近义词关系, 故应填入D项“声情并茂”, 指演唱、朗诵等的音色、唱腔和表达的感情都很动人。A项“严肃认真”强调的是“严肃”, 和后文的“生动”矛盾, 应排除。B项“醍醐灌顶”比喻听了高明的意见使人受到很大启发, 和后文的“广大家长产生了深深的共鸣”重复, 应排除。C项“高深莫测”意思是高深的程度无法揣测, 形容使人难以理解, 和文意矛盾, 应排除。

故正确答案为D。

【出处】石家庄新闻网《让家长更好地陪伴孩子成长》

12、根据语境, 文中应该是强调师生们围绕社会主义核心价值观的宣传教育和学习践行展开了讨论, 发表了自己的看法, 故应填入A项“畅所欲言”指尽情地说出想说的话, 没有约束地把心里话吐露出来。B项“人云亦云”是贬义词, 应排除。C项“各抒己见”侧重于每个人充分发表自己的意见, 一般用于意见不一样的语境, 此处没有强调, 故应排除。D项“众口一词”所有的人都讲同样的话, 不符合语境, 应排除。

故正确答案为A。

【出处】石家庄新闻网《中国梦系列访谈——社会主义核心价值观》

13、根据语境, 前面出现“既……又”表达并列关系, 横线处亦然, 强调“阅读时代、奋发作为”是必须的。C项“又要”前面重复, 应排除。D项“急要”也不符合逻辑需要, 亦可排除。对比A、B项, “更要”更能突出“阅读时代、奋发作为”的必要性, 故应排除A项。

故正确答案为B。

【出处】石家庄新闻网《“世界读书日”致石家庄市民的一封信》

14、文中强调国家新标准是根据当地的碘自然资源状况决定本地的食盐加碘浓度, 那么原来的标准应该是全国统一的, 故应填入C项“一刀切”, 指比喻不考虑特殊情况, 采用一种方式处理问题。A项“一盘棋”比喻各局部之间互相协调, 服从全局, 该成语强调的是“全局观”, 故和文意无关, 应排除。B项“大一统”指在国家政治上的整齐划一, 经济制度和思想文化上的高度集中, 文中没有体现“集中”、“集权”, 应排除。D项“强制执行”和文意无关, 应排除。

故正确答案为C。

【出处】石家庄新闻网《碘盐吃多少, 才能更健康?》

15、第一空, 语境中强调通讯录中的姓名是谁是不知道的, 这和我们以为的通讯录中都是认识的人是相违背的, 故文段中应该强调“意想不到”, 可填入C、D项。A项“显然”强调很明显, 应排除。B项“俨然”形容庄重、严肃, 也可排除。

第二空, 横线后强调与这些人有过简单的一面之缘, 如果再填入A项“萍水相逢”, 比喻素不相识之人偶然相遇, 便出现语义上的重复, 应排除C项。D项, “素昧平生”指与某人从来不认识, 在这里指与从未相识的人有了一面之缘。

故正确答案为D。

【出处】光明网《激活人生删除键》



16、第一空, 横线后搭配的是“成功”, 而B项“希望”和D项“期盼”都搭配的是好的事情, 而语境中还出现否定词“不要”, 故应排除B、D项。A项“奢望”指追求过高而难以实现的希望, C项“幻想”侧重强调不切实际的、不能实现的一种想象, 两者均符合文意。

第二空, 文段中强调成功有赖于感性的积聚于理性的升华, 当积聚与升华到了家, 那么成功便来了, 梦想也就实现了, 梦想就不再是虚妄的了。故应填入A项“海市蜃楼”形容心中想到但不切合实际的幻想。C项“画饼充饥”比喻用空想来安慰自己或用来欺骗别人, 是一个动词, 文中需要一个名词性的成语, 故应排除。

B项, “空中楼阁”指悬于半空之中的城市楼台, 比喻虚构的事物或不现实的理论、方案等。

D项, “镜花水月”指镜子里的花、水中的月亮, 比喻虚幻的景象, 也用于比喻诗中不能从字面来理解的所谓空灵的意境。

故正确答案为A。

【出处】《选择的诠释》

17、第一空, 文段首句就先强调了父母教育对于孩子的重要性, 接着说明很多人其实也已经了解了父教的重要性, 故横线处的成语应强调父教的必要性, B项“不可或缺”和D项“至关重要”均可。A项“大有可为”指事情很值得做, 很有发展前途, 不强调“重要性”。C项“大有裨益”比喻有很大益处, 语义程度较轻, 应排除。

第二空, 横线后强调“就算有时间, 也不愿陪伴孩子”, 说明父亲们看不上“陪伴孩子”这件事情, 故应填入B项, “雕虫小技”比喻微小的技能。也和横线前的“大男子主义”中的“大”形成照应关系。D项“大材小用”意思是把大的材料用于小的用处, 比喻人才使用不当。如果选择“大材小用”的话, 其主语应该是人, 这里是“父教”, 故应排除D项。

故正确答案为B。

【出处】《家庭教育父亲角色不能缺位》

18、第一空, 横线前强调在数字化多媒体时代, 数字技术应用于文化遗产的保护, 既然是技术发展了, 说明保护应该就升级了, 而B项“描述”指运用各种修辞手法对事物进行形象化的阐述, 依然属于“记录”阶段, 应先排除。C项“定位”指确定方位, 没有体现出保护, 应排除。

第二空, 文段强调的是“建立数字化的文化遗产档案”, 那么首先应有一些文化遗产的数据。结合横线前的“数字输入、摄像”, 确定填入词语应该是强调数据收集, 故填入D项“采集”合适。A项“展现”只表示展现出来, 没有原始数据的收录, 故应排除。

故正确答案为D。

【出处】《论非物质文化遗产保护和开发中的“媒介参与”》

19、第一空, 横线后出现“着”, 说明动作应该是正在进行中, C项“耗尽”指消耗完毕, 强调最后的结果, 应排除。D项“侵蚀”指逐渐侵害使变坏, 一般搭配的应该是固有的事物, 而“成本”是在逐渐变化的, 故应排除。



再看第三空, A项“遏止”侧重于“止”, 强调最后的结果“停止”。B项“遏制”侧重于“制”, 强调过程“控制”, 控制在一定的范围内。横线后出现“顿号”, 说明所填词语应该和“净化”程度相同, 故应填入B项“遏制”, “净化”只是一个动作, 没有说明最后结果。

故正确答案为B。

【出处】《遏制网络谣言的治本之策》

20、第①空, 横线前强调学以致用, 后面提到“是一种误解”, 说明前后表达意思不一致, 应通过转折关联词来连接, 应先排除D项。

第②空, 出现关联词“是……不是”, 两者中间不能通过转折关联词“却”来连接, 故应排除C项。

再看第⑤空, 前面强调“产生心理负担”, 而后面解释了为什么会产生心理负担——总要担心以后会不会真的有用, 故⑤应填入原因引导词, 即B项“因为”, 排除A项的“所以”。

故正确答案为B。

21、A项, 应为: 水乳交“融”, “融”指流通、调和。像水和乳汁那样融合在一起, 比喻关系非常融洽或结合得很紧密。应排除。

B项, 应为: “惴惴”不安, “惴惴”指恐惧、担忧的样子。形容因害怕或担心而不安。应排除。

C项, 正确, “题”指书写、题写, 指科举得中。

D项, 应为: “漠”不关心, 意思是对人对事感情冷漠, 淡然处之, 不放在心上。应排除。

故正确答案为C。

22、A项, 应为: 千里之堤, “溃”于蚁穴。意思是千里长的大堤, 往往因蚂蚁洞穴而崩溃, 比喻小事不慎将酿成大祸。应排除。

B项, 应为: 夙愿得“偿”, “偿”指满足、实现, 指实现愿望。应排除。

C项, 正确。

D项, 应为急“躁”, “躁”指性急。“燥”指干、缺少水分, 如干燥。应排除。

故正确答案为C。

23、A项, “不耻下问”比喻谦虚好学, 不介意向不及自己的人请教。该成语的使用应该是别人夸赞自己的, 不能用于自谦, 该句子中的用法就是错误的, 不能称“先生”是“下”, 应排除。

B项, “有一定的”使用不得体, 该词强调的是帮助的作用不大, 应排除。

C项, 表达得体。

D项, “恭候光临”是欢迎别人的时候使用的, 不能用于欢迎自己, 应排除。

故正确答案为C。

24、A项, “惠存”意思是请保存, 敬词, 多用于赠人照片、书籍等时所题的上款。这里是别人送自己的, 表达不得体, 应排除。

B项, “垂爱”指上对下赏识爱护, 也用做敬辞, 指别人对自己赏识爱护。这里是指学生对杨绛先生的爱, 是下对上, 使用错误, 应排除。



C项, “鼎力相助”指别人对自己的大力帮助, 敬辞, 一般用于请人帮助时的客气话。这里是自己帮助别人, 表达不得体, 应排除。

D项, 表达得体。“不吝赐教”指不吝惜自己的意见, 希望给予指导, 请人指教的客气话。

故正确答案为D。

25、A项, “拙作”谦词, 用于形容自己的作品。这里是形容张教授的作品, 使用错误, 应排除。

B项, “斧正”是请别人修改文章的敬词, 故使用不得体, 应排除。

C项, 表达得体。

D项, “抛砖引玉”意思是抛出砖头, 引来白玉。比喻用粗浅、不成熟的意见引出别人高明、成熟的意见, 是一种自谦的说法。语境中不是自谦, 使用错误, 应排除。

故正确答案为C。

26、文段首句先描述了安吉的好风光, 接着通过转折关联词“但”引出原来的环境受到破坏。后面提到县里下决心建设“美丽乡村”, 开启了在发展中保护、在保护中发展的全新路径。最后又提到不仅安吉, 其他地方的乡村面貌也焕然一新, 带动浙江乡村整体人居环境的领先。故文段整体都在强调的就是通过生态环境的改善, 建设美丽乡村。故本题答案为B项。

A项, 表述模糊, 没有明确重要性在哪, 应排除。

C项, 表达片面, 没有具体说明怎么建设, 应排除。

D项, 缺少主题词“美丽乡村”, 应排除。

故正确答案为B。

【出处】新华网《绘就新时代美丽乡村新画卷》

27、文段首句先提出话题, 强调如今的运动“套餐”越来越丰富, 音乐也是“标配”, 接着说明无线耳机使得运动应不再枯燥了。最后出现转折关联词“不过”, 强调听音乐不仅是为了拯救无聊, 而是能提高我们的运动表现。转折之后是重点, 作者想表达的即是选对音乐运动效果能翻倍, 答案选择A项。

B项, 缺少主题词“音乐”, 应排除。

C项, 表述模糊, 没有清楚表明音乐怎么重要了, 应排除。

D项, 属于转折之前部分, 本身并不重要, 应排除。

故正确答案为A。

【出处】《选对音乐运动效果能翻倍》

28、空在结尾, 一般选择总结性的句子。文段首句先提出观点“噪声影响视力”, 接着通过试验来证明。那么得出的结论应该强调的是噪声影响视力。因为不同噪声对视力造成的影响是不同的, 故只有长时间处在噪声环境中, 才会产生巨大影响, 故答案选择B项。

A项、C项, 表达太绝对, 强调的是处于噪声环境中, 就出现眼疲劳现象, 没有强调“长时间”, 应排除。

D项, 不如B项全面, 只描述了影响视力的一个表现(眼疲劳), 应排除。

故正确答案为B。



【出处】《噪音的危害》

29、文段首句先提到多样化的安全验证方式为消费者提供了更多选择,接着举例说明,指纹识别验证方式有望成为移动支付中的主要验证方式。最后通过“此外”,强调其他生物识别技术的发展将提升移动支付的认证技术。故文段整体并列关系,“此外”前后共同说明保障移动支付的安全技术正在不断提高,故答案选择B项。

A项,表述片面,只对应文段第一句话,此外之后强调的不再是“选择”,而是保障安全的方式,故应排除。

C项,表述片面,只对应“此外”之后的内容,应排除。

D项,文段重点不强调“发展很快”,应排。

故正确答案为B。

30、文段整体在强调如何应对欧盟GDPR的监管挑战,先是需要充分研究欧盟数据保护监管的利益关切,还要加强信息开放和共享,健全实体法之间的协调机制,寻求产业合作和个人信息保护执法合作,实现全球数据保护的共商共治。这几条对策的共同点都是各个层次的合作,故对策即是通过数据保护的合作机制来应对欧盟GDPR的监管挑战,答案选择D项。

A项、B项,表述片面,只是数据保护执法合作机制中的一个方面,应排除。

C项,表述模糊,没有具体说明应对挑战的对策,应排除。

故正确答案为D。

【出处】新华网《最严数据法律来了,数字经济企业如何应对?》

31、文段先说明每一项工作都有它创意、趣味、多元的一方面,更有无聊、辛苦的一面,许多哟才气的人最后一事无成,就是因为耐心不够,无法通过无聊、无趣的考验,很多人才气纵横但怨气冲天的人,也因此成为组织边缘人。故文段表达的观点是如果没有耐心应对工作无聊、无趣的一面,最后只能是一个失败者,那么应该耐心对待工作中的无聊与无趣,答案选择C项。其他选项均没有突出“耐心”,应排除。

故正确答案为C。

【出处】《接纳者——他在2012年“自慢”》

32、本题属于中心理解题。文段先介绍人文教育在表面上的作用,后通过“实际上”的表述,指出人文教育的实际作用,包括独立的人格、丰富的想象力和创造力等。结合选项,D项符合。

A项,“英语等级考试”是文段举的例子,非文段重点,排除。

B项,与文段观点矛盾,文段强调“人文教育不仅仅是传授文史哲方面的知识”,故排除。

C项,与文段观点相矛盾,文段强调“并不是所有的教育都可以量化”,故排除。

故正确答案为D。

【文段出处】

《超越“专家”方能出大师》

33、空在中间,所填句子应起到承上启下的作用。横线前强调我国已无可争议地成为网络大国,横线后提到我国在很多方面依然和网络强国存在一些差距。故中间的句子应该含有转折关联词,以表达前



后相反的意思, 故可先排除 B、C 项。对比 A、D 项, A 项具体描述了网络安全和信息技术的话题, 这和后文中的“互联网深度创新能力、信息基础设施建设、信息资源共享、信息化产业”形成照应, 故 A 项比 D 项更详细具体, 排除 D 项。

故正确答案为 A。

【出处】《强化自主创新, 全力推进网络强国建设》

34、观察选项, ②谈论的是“正定县”的旅游情况, ④谈论的是“鹿泉区”的旅游情况, ③没有具体的地方, 而是提出一个观点“新业态旅游产品备受青睐”, 故②④是对③的论证, 故③适合首句, 先排除 C、D 项。对比 A、B 项, ①强调的是正定县的系列旅游活动, 而②谈论的是节前正博会在正定开幕, 按照时间顺序, 应该是先开幕, 再有系列活动, 故应先②再①, 故可排除 B 项。

故正确答案为 A。

【出处】燕赵晚报《五一期间河北省共接待游客 2433.5 万人次》

35、观察选项, ②强调要抓好“培养人”, 就要形成“高水平人才培养体系”, 而③谈论的是怎样才能形成高水平人才培养体系, 故应先强调高水平人才培养体系的重要性, 再谈如何做, 故②更适合做首句, 先排除 B 项。④谈论的是学生能学到什么也是同高水平人才培养体系密切相关, 还是强调这一体系的重要性, 故应放在③之前, 排除 A、C 项, 答案选择 D 项。

故正确答案为 D。

【出处】《大学要抓好“培养人”这个根本》

36、观察选项首句, 只有②中没有提到土壤污染, 其他都论述到了, 故②应放在首句, 引出“土壤”这一话题, 后面再谈论“土壤污染”, 应先排除 B、C 项。对比 A 和 D, 最大的区别在于③和⑤的顺序。③说的是土壤里的污染物是通过食物链进入人体的, 而⑤谈的是土壤污染间接影响人体健康, 发现两者话题一致, 而且③在解释⑤, 故应先提出观点⑤, 再通过“因为”解释原因, 即⑤③顺序锁定, 答案选择 A 项。

故正确答案为 A。

【出处】《警惕啊, 无声无息的土壤杀手》

37、标题应反映文章主要内容。文章第一段先介绍了微创外科的定义; 第二段介绍了外科学的发展总是离不开当时的科技背景; 第三段强调了科技的发展使得腹腔镜技术得以运用; 第四段强调技术的实施是服务于概念的运用, 而新技术亦将引发新的概念, 并得出结论微创外科概念应该并非只是限于内窥镜和腹腔镜术; 最后一段说明 21 世纪的微创外科, 前景是非常激动人心的, 其趋向将从微创到无创的发展。故文段整体都在强调“微创外科”, 故标题应突出这一主体, 先排除 A、D 项。C 项“微创化”是目前的发展情况, 而最后还谈到了未来的发展趋势, 故 B 项比 C 项更全面, 排除 C 项。

故正确答案为 B。

【出处】《外科手术中的“微创”与“无创”》

38、根据提问方式可知, 本题为细节判断题, 将选项信息和原文信息进行对比即可。

A 项, 文章第一段提到“它是要达到造成最小的创伤的外科, 而不是限于哪一种方式或哪一种工具”, 故此项表述正确。



B 项, 文章第一段最后提到“微创外科是指在任何外科创伤应急情况下, 达到最佳的内环境稳定”, 故此表述正确。

C 项, 文章第四段最后提到“所以微创外科概念应该并非只是限于内镜术和腹腔镜术, 而有更广阔视野”, 故此表述错误, 微创不限于内镜外科和腹腔镜外科。

D 项, 文章第四段提到“广义的微创外科应是缩小外科所带来的局部和全身的伤害性效应, 不管是采用何种方法”, 故此表述正确。

此题为选非题, 故正确答案为 C。

【出处】《外科手术中的“微创”与“无创”》

39、根据提问方式可知, 本题为细节判断题, 将选项信息和原文信息进行对比即可。

A 项, 根据第二段“……出现了内镜、腔镜技术, 这为实现微创外科奠定了坚实的基础”, 故基础应该是内镜、腔镜技术, 此项表述错误, 应排除。

B 项, “发展快”和“准确”之间不存在因果关系, 偷换逻辑, 应排除。

C 项, “最高境界”表述太绝对, 原文并没有论及于此, 应排除。

D 项, “广义的微创外科应是缩小外科所带来的局部和全身的伤害性效应, 不管是采用何种方法”, 而最后一段提及“21 世纪的微创外科”时, 强调“可以完全不接触病人, 实现从当前的腔镜手术, 到机器人辅助的手术, 再到远距离操纵的手术”, 符合广义微创外科的概念, 不局限于内镜术和腹腔镜术, 此项表述正确。

故正确答案为 D。

【出处】《外科手术中的“微创”与“无创”》

40、根据提问方式可知, 本题为细节判断题, 将选项信息和原文信息进行对比即可。

A 项, 文章最后一段提到“在这个信息时代, 传统的外科操作可能被微创的、准确的器械操作所代替”, 此项表述太绝对了, 当选。

B 项, 和文章最后提到的问题一致, 强调“随之又会出现新问题, 就是在 21 世纪外科医生该怎么办?”表述正确。

C 项, 文章第三段提到“腹腔镜技术在妇产科中已出现多年, 但由于器械上的原因迟迟未用, 直到 1986 年计算机集成电路微型摄像机的出现, 使腹腔镜显像发生了革命性变化”, 故现代科学的发展推动了外科学的发展, 此项表述正确。

D 项, 和最后一段表述一致。

此题为选非题, 故正确答案为 A。

【出处】《外科手术中的“微创”与“无创”》

41、一周平均每天练 8 道题, 则一周一共练习 $7 \times 8 = 56$ 道题。周一到周六已经练了 $9 \times 4 + 0 + 10 = 46$ 道, 则星期日还需练 $56 - 46 = 10$ 道才达到要求。

故正确答案 B。

42、设 6 年前儿子的年龄为 x 岁, 则父亲年龄为 $5x$ 。今年父子年龄和是 78 岁, 可得: $(x + 6) + (5x + 6) = 78$, 解得 $x = 11$, 则父亲今年年龄为 $5x + 6 = 61$ 岁。



故正确答案 D。

43、这六个数的平均数是 25, 则六个数总和为 $56 \times 6 = 150$ 。前三个数的平均数是 21, 则前三个数和为 $21 \times 3 = 63$, 则后三个数和为 $150 - 63 = 87$ 。后四个数平均数为 32, 则后四个数和为 $32 \times 4 = 128$, 所以第三个数为 $128 - 87 = 41$ 。

故正确答案 D。

44、每 6 厘米做一个记号, 则做记号数为 $288 \div 6 - 1 = 47$ 个; 每 4 厘米做一个记号, 则多记号数为 $288 \div 4 - 1 = 71$ 个; 其中每隔 12 厘米被重复做两次记号, 类似的记号数有 $288 \div 12 - 1 = 23$ 个。因此做记号总数为 $47 + 71 - 23 = 95$ 个, 即绳子被剪成 $95 + 1 = 96$ 段。

故正确答案 C。

45、设甲原存款为 x 万元, 则乙存款为 $96 - x$ 万元。根据题意可得方程: $(1 - 40\%)x - 1.2 = (1 - 40\%)(96 - x) + 1.2$, 解得 $x = 50$ 万元, 乙存款为 $96 - 50 = 46$ 万元。

故正确答案 B。

46、设做错的题目有 x 道, 则做对的题目有 $2x$ 道, 则 $20 \times 2x - 6x = 68$, 解得 $x = 2$, 即做错的题目有 2 道, 做对的题目有 $2x = 4$ 道。这套试卷共有 $2 + 4 = 6$ 道题。

故正确答案 A。

47、设每人可免费携带行李的重量为 x 千克, 超重部分为 y 元/千克。根据题意有 $y(150 - 3x) = 4$, $y(150 - x) = 8$, 解得 $x = 30$ 千克, $y = \frac{1}{15}$ 元/千克。

故正确答案 C。

48、设两支蜡烛长度均为 6, 第一支蜡烛 (蜡烛 A) 2 小时烧完, 则每小时燃烧 $6 \div 2 = 3$, 另一支蜡烛 (蜡烛 B) 3 小时烧完, 则每小时燃烧 $6 \div 3 = 2$ 。设燃烧时间为 x , 根据题意有 $6 - 2x = 2(6 - 3x)$, 解得 $x = 1.5$ 小时, 6 点半经过 1.5 小时后是 8 时。

49、能被 9 整除的数的特点: 如果各位数字之和能被 9 整除, 那么这个数也能被 9 整除; 如果各位数字之和不能被 9 整除, 那么所得余数就是这个数除以 9 所得的余数。

从 0 到 1999 的数字中, 将 0 看成 0000, 1 看成 0001, 10 看成 0010, 以此类推, 且多余的 0 不影响各位数字求和运算:

个位的“0-9”循环出现, 每个数字出现 200 次, 所以个位数字和为 $(1+2+3+\dots+9) \times 200 = 45 \times 200$, 能被 9 整除;

十位的“0-9”每个数字出现 200 次, 所以十位数字和也能被 9 整除;

百位的“0-9”每个数字出现 200 次, 所以百位数字和也能被 9 整除;

千位的“0”和“1”分别出现 1000 次, 千位数字和除以 9 余数为 1。

从 2000 到 2005 这六个数, 各位数字之和为: $2 \times 6 + 1 + 2 + 3 + 4 + 5 = 27$, 能被 9 整除。

综上所述, 多位数“123456789……2005”各位数之和除以 9 余数为 1, 则多位数“123456789……2005”除以 9 余数为 1。

故正确答案 B。



50、根据“至少要摸出几只手套才能……”，可知此题所求为最值问题，应使用最不利原则解题。最不利的情况为：每种颜色的手套都摸出 2.5 副，即 5 只，此时再摸出任意一只手套，都可以实现该颜色的手套有 6 只（即 3 副），可以保证有 3 副手套的颜色相同。则至少要摸出 $5 \times 4 + 1 = 21$ 只手套，才能确保有 3 副手套的颜色相同。

故正确答案为 D。

51、根据题意，分别从 5 种汉堡、4 种小吃、3 种饮料中选一种就可搭配一种套餐，共可搭配的套餐 $= 5 \times 4 \times 3 = 60$ 种。

故正确答案为 C。

52、观察题干数字可得， $1992 \times 19911991 - 1991 \times 19901990 = 1992 \times 1991 \times 10001 - 1991 \times 1990 \times 10001 = 1991 \times 10001 \times 10001 \times 2 = 19911991 \times 2 = 39823982$

故正确答案为 C。

53、为便于表达，设参与游戏的两个人为甲和乙，甲先乙后轮流移动火柴棒。若甲要在游戏中保证获胜，就得让乙移走最后一根火柴， $(1000-1) \div (1+7) = 124 \dots 7$ ，即甲在第一次移走 7 根，剩下 124 个 8 根+最后的 1 根火柴，在这 124 个 8 根中，该乙先甲后的顺序，当乙无论拿几根（但至少 1 根，至多 7 根），甲只要保证自己拿的根数与乙拿的根数相加等于 8 根即可，这样，最后剩下的那 1 根就正好轮到乙拿，乙输。

故正确答案为 D。

54、设发现漏洞时船内水量为 T ，漏洞进水的速度为 x ，每人每小时舀水的速度为 1，要想 2 小时舀完需要人数为 y ，根据牛吃草公式，可得： $T = (12 \times 1 - x) \times 3 = (5 \times 1 - x) \times 10 = (y \times 1 - x) \times 2$ ，解得 $x = 2$ ， $T = 30$ ， $y = 17$ ，则要想 2 小时舀完需要 17 人。

故正确答案为 B。

55、由题干条件可知，猎犬和兔子每步跨出的距离之比为 9:5，相同时间内跨出的步数之比为 2:3，则猎犬和兔子的速度之比为 $(9 \times 2) : (5 \times 3) = 18 : 15 = 6 : 5$ 。在相同时间内，若兔子跑 50 米，猎犬跑 60 米，兔子在猎犬的前方 10 米，则猎犬至少跑 60 米刚好追上兔子，故正确答案为 C。

56、元素组成相似，考虑样式规律。观察发现，在第一组图形中，第二个图形与第三个图形叠加可得第一个图形，第二组图形应遵循相同或者相似的规律，选项中所有图形均有外框，仅需考虑内部线条即可，第二组第二个图形和？处图形叠加得到第一个图形，只有 D 选项满足此规律。

故正确答案为 D。

57、本题为分组分类题目，题干中 6 幅图形均由一个正六面体和面内的 3 条对角线构成，考虑 3 条对角线之间的关系。观察发现，3 条对角线之间不存在明显的垂直或者平行关系，则可考虑 3 条对角线所在面的关系。在①②⑥中，三条对角线所标示的面存在相对面；而③④⑤中，三条对角线所在的面任意两面均两两相邻，不存在相对关系。

故正确答案为 B。



58、元素组成不同, 无属性规律, 考虑数量规律。观察发现, 图形的外框图形依次为正方形、圆形、正方形、圆形、?, 故? 处图形外框图形应为正方形, 据此排除 CD 选项。再次观察图形发现, 外框为正方形的图形内均含有圆形, 且圆形个数依次为 3、6、?, 外框为圆形的图形内均含有三角形, 且三角形个数依次为 2、4, 所以二者均是呈 2 倍递增, 故问号处正方形内的圆形个数应为 12, 据此排除 A 选项。

故正确答案为 B。

59、A 项: 在图形下面的正方体中选一角, 竖直向下可以切出, 如图 1 所示;

B 项: 无法切出;

C 项: 在上面的圆柱横切, 可以切出, 如图 2 所示;

D 项: 在正方体的一个角斜着切, 可以切出, 如图 3 所示。

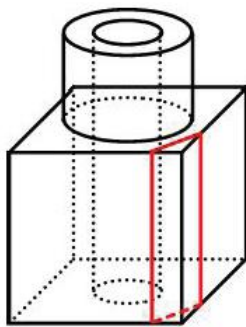


图1

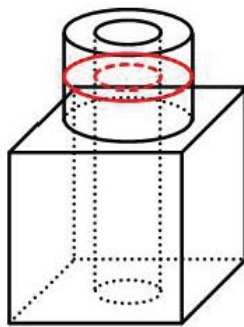


图2

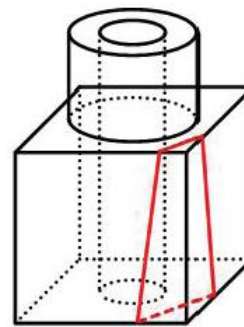
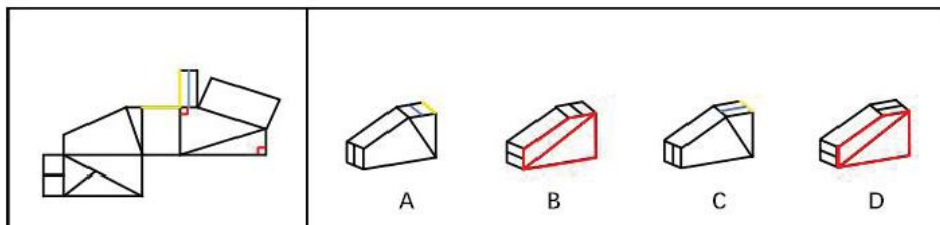


图3

本题为选非题, 故正确答案为 B。

60、本题属于空间重构。



如上图所示, BD 选项中标示的红色面, 在题干平面展开图中并无此面 (展开图中并不存在面内有唯一线条且该线条连接了面内的两个直角顶点), 据此排除 BD 选项。

比较 AC 选项的不同, 不同之处在于顶面内线条的方向。如上图所示, 平面展开图中两条黄色线条为同一条线, 黄色线条与蓝色线条二者相互平行, 而 C 选项中黄色线条与蓝色线条垂直, 据此排除 C 选项。

故正确答案为 A。

61、第一步: 先确定逻辑关系最为明显的事件顺序。

观察题干, 五个事件主要描述“服务需求的发现和解决”的过程。逻辑关系比较明显的是事件 (3) 和 (4), 只有先“汇总解决问题”后, 才会“宣传报道成果”, 因此事件 (4) 排在事件 (3) 之前, 排除 B、D 项。

第二步: 逐一对照选项并判断正确答案。



根据第一步的结果可以判断只有 A、C 项符合, 只有“实地走访调研”发现问题后, 才会“汇总解决问题”, 所以事件 (5) 排在事件 (4) 之前。

故正确答案为 A。

62、第一步: 先确定逻辑关系最为明显的事件顺序。

观察题干, 五个事件主要描述“学生发生呕吐、腹泻反应事件处理”的过程。事件 (2)、(3)、(4)、(5) 均是在事件 (1) 发生后而展开的, 因此事件 (1) 排在题干五个事件的首位, 据此排除 A、C 选项。

第二步: 逐一对照选项并判断正确答案。

根据第一步的结果可以判断只有 B、D 项符合, 事件 (5) 对事故的责任人采取“零容忍”态度, 严肃处理应该发生在事件 (3) 把学生紧急送医之后, 所以事件 (3) 在事件 (5) 之前, 故排除 D 项。

故正确答案为 B。

63、第一步: 先确定逻辑关系最为明显的事件顺序。

观察题干, 五个事件主要围绕“教学计划的制定”而展开。题干中逻辑关系比较明显的是事件 (1) 和 (2), 事件 (2) 个人制定教学进度表后由 (1) 教学管理部审定, 即事件 (2) 发生在事件 (1) 之前, 排除 B 项。

第二步: 逐一对照选项并判断正确答案。

根据第一步的结果可以判断只有 A、C、D 项符合, 事件 (4) 对实际教学进度进行检查, 是在计划制定之后对实际情况的事后督查, 因此事件 (4) 要排在事件 (1) (2) (5) 之后, 排除 A 项。事件 (3) 和事件 (5) 均要在事件 (2) 个人制定教学进度表之前, 排除 D 项。

故正确答案为 C。

64、第一步: 先确定逻辑关系最为明显的事件顺序。

观察题干, 五个事件主要围绕“报考学校”的过程展开。题干中逻辑关系比较明显的是事件 (1)、事件 (3) 和事件 (5), 只有考生办理了报名手续, 才能参加升学考试, 而只有考试后才能领取到成绩单, 即事件 (1)、事件 (3) 和事件 (5) 的顺序为事件 (1)-事件 (3)-事件 (5)。

第二步: 逐一对照选项并判断正确答案。

按照上述分析, 只有 D 选项的事件排序最合乎逻辑。

故正确答案为 D。

65、第一步: 先确定逻辑关系最为明显的事件顺序。

观察题干, 五个事件主要围绕“学校德育计划”的工作过程展开。学校德育计划的最终实施应是落实到年级、班级, 即事件 (5) 分别制定年级、班级、团队工作计划, 逐步实施应处于题干五个事件的末位, 据此排除 A、D 选项。

第二步: 逐一对照选项并判断正确答案。

根据第一步的结果可以判断只有 B、C 项符合, 首先根据上级教育行政部门要求及学校实际制定计划, 然后才能向全体教职工提出该项计划和要求, 故事件 (2) 应该在事件 (1) 之前, 排除 C 项。

故正确答案为 B。



66、第一步: 找出定义关键词。

“低成本、便利化、全要素、开放式”、“新型创业服务平台”

第二步: 逐一分析选项。

A 项: 柴火创客空间为创新制作者提供自由开放的协作环境, 鼓励跨界的交流体现了“全要素、开放式”, 促进创意的实现以至产品化符合“新型创业服务平台”, 符合定义, 排除;

B 项: 新车间向硬件高手、电子艺术家……提供的一个开放式创业社区, 符合“新型创业服务平台”, 与定义关键词相符, 符合定义, 排除;

C 项: 在城市管理领域打造覆盖整个城市的开放创业空间, 是一种“新型创业服务平台”, 符合定义, 排除;

D 项: 美团网的作用是为商家找到最合适的消费者, 给商家提供最大收益的互联网推广, 所以美团网并不是一种“新型创业服务平台”, 不符合定义, 当选。

本题为选非题, 故正确答案为 D。

67、第一步: 找出定义关键词。

“具有消费支付、信用贷款、转账结算、存取现金等全部功能或部分功能”

第二步: 逐一分析选项。

A 项: 信用卡可以借钱, 但是借的钱也是要还的, 所以对收入低的我, 帮助不是很大, 此说法不正确, 排除;

B 项: 当借了很多钱还不起的时候, 只要还最低额度就够了, 这种说法是错误的, 没有体现信用贷款的信用, 最低额度还款仅是银行不起诉的借款人的底限, 最低额度还款后还要承担未还款金额的利息, 此说法不正确, 排除;

C 项: 当遇到急事时可以取一些现金出来用, 即信用卡功能中的信用贷款功能, 这是信用卡众多功能之一, 此说法正确, 当选;

D 项: 如果在最后还款期没有全额还款, 如果不在还款容差之内, 银行也是要追偿所有“免息期”的利息, 利息不会很少, 此说法不正确, 排除。

故正确答案为 C。

68、第一步: 找出定义关键词。

“多以二分裂方式进行繁殖的原核生物, 是在自然界分布最广、个体数量最多的有机体”。

第二步: 逐一分析选项。

A 项: 链球菌属于球菌, 是以二分裂方式进行繁殖的原核生物, 符合定义, 排除;

B 项: 芽孢杆菌是以二分裂方式进行繁殖的原核生物, 符合定义, 排除;

C 项: 大肠杆菌是以二分裂方式进行繁殖的原核生物, 符合定义, 排除;

D 项: 食用菌是由多个细胞构成的多细胞型真核生物, 而非原核生物, 不符合定义, 当选。

本题为选非题, 故正确答案为 D。

69、第一步: 找出定义关键词。

“利用其他领域的观念、知识或方法来寻找解决本领域某个问题的可能途径和思路”



第二步: 逐一分析选项。

A 项: 啤酒冒泡现象和气泡室的设想二者属于不同的领域, 符合“利用其他领域的观念、知识或方法来寻找解决本领域某个问题的可能途径和思路”, 符合定义, 排除;

B 项: 茅草的细齿和锯属于不同的领域, 符合“利用其他领域的观念、知识或方法来寻找解决本领域某个问题的可能途径和思路”, 符合定义, 排除;

C 项: 凭敲酒桶叩击声就能知道桶内有多少酒和以“叩诊”的方法诊断人体胸腔中是否有积水, 二者属于不同的领域, 符合“利用其他领域的观念、知识或方法来寻找解决本领域某个问题的可能途径和思路”, 符合定义, 排除;

D 项: 实验室中看到的蓝光, 发现了天然放射性元素镭, 二者均属于物理学领域, 不符合定义关键词“利用其他领域的观念、知识或方法来寻找解决本领域某个问题的可能途径和思路”, 不符合定义, 当选。

本题为选非题, 故正确答案为 D。

70、第一步: 找出定义关键词。

“没有合法根据, 或事后丧失了合法根据”、“因致他人遭受损失而获得的利益, 应当返还的义务”

第二步: 逐一分析选项。

A 项: 养子女向生父母给付的生活费, 不符合“因致他人遭受损失而获得的利益”, 排除;

B 项: 出租车司机失误多收的打车费属于致使乘客遭受损失而获得利益, 符合“因致他人遭受损失而获得的利益”, 符合定义, 当选;

C 项: 赌博行为是违法行为, 不受法律的保护, 法律不保护因从事违法行为而受的财产损失, 因此不存在“应当返还的义务”, 与定义关键词不符, 排除;

D 项: 债务人主动清偿未到期的债务, 未体现“因致他人遭受损失而获得利益”, 与定义关键词不符, 排除。

故正确答案为 B。

71、根据科技孵化器的定义, 科技企业孵化器是一种科技创业服务机构, ABC 三个选项分别阐述了一个科技创业服务机构在硬件(所有实物)、软件(服务)、管理三个层面上应当具备的基本条件, 而 D 选项所提及拥有政府资金的支持相较于 ABC 三选项来说, 并不是科技孵化器应当具备的基本条件。政府资金的支持是科技孵化器的引子和补偿金, 孵化器的资金更多的应当来源于各类投资和金融机构对孵化企业的资本投入。

故正确答案为 D。

72、第一步: 找出定义关键词。

“存在物品使用权暂时转移”、“获得一定报酬”

第二步: 逐一分析选项。

A 项: 滴滴打车将车的使用权进行了暂时转移, 符合“存在物品使用权暂时转移”, 符合定义, 排除;



B项: 摩拜单车将自行车的使用权进行了暂时转移, 符合“存在物品使用权暂时转移”, 符合定义, 排除;

C项: 二手车市场转移的二手车的拥有权, 并不存在物品使用权的暂时转移, 不符合“存在物品使用权暂时转移”, 不符合定义, 当选;

D项: ofo小黄车将自行车的使用权进行了暂时转移, 符合“存在物品使用权暂时转移”, 符合定义, 排除。

本题为选非题, 故正确答案为C。

73、第一步: 找出定义关键词。

“即时交流信息的业务”

第二步: 逐一分析选项。

A项: 微信提供了“即时交流信息的业务”, 与定义关键词相符, 排除;

B项: Email即电子邮件, 电子邮件不是“即时交流信息”, 与定义关键词不符, 当选;

C项: QQ提供了“即时交流信息的业务”, 与定义关键词相符, 排除;

D项: MSN提供了“即时交流信息的业务”, 与定义关键词相符, 排除。

本题为选非题, 故正确答案为B。

74、第一步: 找出定义关键词。

“将假日时间分配在家庭生活”“减少出门消费而带来商机的现象”。

第二步: 逐一分析选项。

A项: 甲超市门可罗雀, 乙超市门庭若市, 二者均没有体现“将假日时间分配在家庭生活”, 与定义关键词不符, 排除;

B项: 客服人员节假日值班, 并不是“将假日时间分配在家庭生活”中, 与定义关键词不符, 排除;

C项: 五一期间, 某小区附近的按摩店提供上门按摩服务, 是小区居民“将假日时间分配在家庭生活”, 属于“减少出门消费而带来商机”, 与定义关键词相符, 当选;

D项: 快递公司订单减少, 人们出去旅游均不符合定义关键词“将假日时间分配在家庭生活”, 与定义关键词不符, 排除。

故正确答案为C。

75、根据题干信息, 逐一分析选项。

A项: 根据题干中, 用户进入可配置的计算资源共享池(资源包括网络, 服务器, 存储, 应用软件, 服务), 说明云计算具有超大规模的特点, 能够从题干中推出;

B项: 云计算提供的模式是可用的、便捷的、按需的网络访问, 同时云计算只需投入很少的管理工作, 或与服务商进行很少的交互, 可见比较昂贵不属于云计算的特点, 不能从题干中推出;

C项: 云计算通常涉及互联网来提供动态易扩展且经常是虚拟化的资源, 可见云计算的通用性, 能够从题干中推出;

D项: 云计算这种模式提供按需的网络访问, 因此提供的服务是按需服务, 能够从题干中推出。

本题为选非题, 故正确答案为B。



76、逐一代入选项。

A 项: 服装和“大红袍”没有必然的逻辑关系,《奔跑吧!兄弟》是一档综艺节目,和电视没有必然的逻辑关系,前后逻辑关系不一致,排除;

B 项: 咖啡和“大红袍”均是饮品的一种,二者为并列关系,明星是《奔跑吧!兄弟》中的参与者,二者不是并列关系,前后逻辑关系不一致,排除;

C 项: “大红袍”是一种茶,二者为包容关系中的种属关系,《奔跑吧!兄弟》是一种综艺节目,二者为包容关系中的种属关系,前后逻辑关系一致,当选;

D 项: “大红袍”产于福建,电视台指的是通过无线电信号、卫星信号、有线网络或互联网播放电视节目的媒体机构,不是《奔跑吧!兄弟》的产地,前后逻辑关系不一致,排除。

故正确答案为 C。

77、第一步: 判断题干词语间的逻辑关系。

周日是法定休假的日子,二者为对应关系。

第二步: 判断题干词语间的逻辑关系。

A 项: 遵守秩序为动宾短语,与题干逻辑关系不一致,排除;

B 项: 黏土是含沙粒很少、有黏性的土壤,水分不容易从中通过才具有较好的可塑性,沙子是黏土的组成部分,二者为组成关系,与题干逻辑关系不一致,排除;

C 项: 借鉴历史,为动宾短语,与题干逻辑关系一致,排除;

D 项: 清明是民间祭祖的日子,二者为对应关系,与题干逻辑关系一致,当选。

故正确答案为 D。

78、逐一代入选项。

A 项: 资治通鉴的作者为司马光,不是曹雪芹,二者没有必然的逻辑关系,封神演义是明朝时期的小说,二者为作品和朝代的对应,前后逻辑关系不一致,排除;

B 项: 资治通鉴是北宋时期的作品,不是清朝,二者没有必然的逻辑关系,红楼梦是清朝时期的小说,不是明朝,二者没有必然的逻辑关系,前后逻辑关系不一致,排除;

C 项: 资治通鉴是宋朝时期的作品,二者为作品和朝代的对应,永乐大典是明朝时期的作品,二者为作品和朝代的对应,前后逻辑关系一致,当选;

D 项: 资治通鉴是宋朝时期的作品,不是汉朝,二者没有必然的逻辑关系,水浒传是明朝时期的小说,二者为作品和朝代的对应,前后逻辑关系不一致,排除。

故正确答案为 C。

79、第一步: 判断题干词语间的逻辑关系。

题干造句为: 浇灌干旱的土地,且干旱是不好的现象。

第二步: 判断题干词语间的逻辑关系。

A 项: 造句为: 和平紧张的局势,造句不通顺,与题干逻辑关系不一致,排除;

B 项: 造句为: 修理损坏的家具,且损坏是不好的现象,与题干逻辑关系一致,当选;

C 项: 造句为: 呼唤热情的胜利,热情和胜利搭配不当,与题干逻辑关系不一致,排除;



D项: 造句为: 发展新生的事物, 但新生不一定是不好的现象, 与题干逻辑关系不一致, 排除。

故正确答案为 B。

80、第一步: 判断题干词语间的逻辑关系。

投资股票需要账户, 账户是投资股票的必要条件。

第二步: 判断题干词语间的逻辑关系。

A项: 现金不是付款网购的必要条件, 与题干逻辑关系不一致, 排除;

B项: 相机不是浏览照片的必要条件, 与题干逻辑关系不一致, 排除;

C项: 播放视频需要软件, 软件是播放视频的必要条件, 与题干逻辑关系一致, 当选;

D项: 点卡不是充值游戏的必要条件, 与题干逻辑关系不一致, 排除。

故正确答案为 C。

81、第一步: 判断题干词语间的逻辑关系。

阴阳怪气形容态度怪癖, 冷言冷语, 不可捉摸; 左右逢源指做事得心应手, 非常顺利, 也用以比喻为人圆滑, 两头讨好; 二者语义没有关系, 考虑构词结构, 阴和阳是反义关系, 左和右是反义关系, 两个成语的前两个字都是反义关系。

第二步: 判断题干词语间的逻辑关系。

A项: 始和终是反义关系, 是和非是反义关系, 两个成语的前两个字都是反义关系, 与题干逻辑关系一致, 当选;

B项: 爱和财不是反义关系, 挥和金也不是反义关系, 与题干逻辑关系不一致, 排除;

C项: 异和口不是反义关系, 众和说也不是反义关系, 与题干逻辑关系不一致, 排除;

D项: 爱和不不是反义关系, 弃和若也不是反义关系, 与题干逻辑关系不一致, 排除。

故正确答案为 A。

82、第一步: 判断题干词语间的逻辑关系。

垂髫指儿童, 二者为全同关系。

第二步: 判断题干词语间的逻辑关系。

A项: 耄耋指老人, 二者为全同关系, 与题干逻辑关系一致, 当选;

B项: 而立指年至三十, 学有成就, 后来用“而立”指人 30 岁, 与青年不是全同关系, 与题干逻辑关系不一致, 排除;

C项: 青春和洋溢二者没有必然的逻辑关系, 与题干逻辑关系一致, 排除;

D项: 开拓是开辟、开发、开垦, 与创新不是全同关系, 与题干逻辑关系不一致, 排除。

故正确答案为 A。

83、第一步: 判断题干词语间的逻辑关系。

腾空是动作的一种, 二者为包容关系中的种属关系。

第二步: 判断题干词语间的逻辑关系。

A项: 总统和愿望没有必然的逻辑关系, 与题干逻辑关系不一致, 排除;

B项: 开朗是性格的一种, 二者为包容关系中的种属关系, 与题干逻辑关系一致, 当选;



C项: 酒店和昂贵没有必然的逻辑关系, 与题干逻辑关系不一致, 排除;

D项: 水彩是用阿拉伯树胶稀释色料作画的技法, 和作品没有必然的逻辑关系, 与题干逻辑关系不一致, 排除。

故正确答案为B。

84、第一步: 判断题干词语间逻辑关系。

造句子: 创新带动发展, 构成主谓宾关系, 带动是动词。

第二步: 判断选项词语间逻辑关系。

A项: 利润不是动词, 三者不能构成主谓宾关系, 与题干逻辑关系不一致, 排除;

B项: 政府的管理方式可以是宏观的, 宏观不是动词, 与题干逻辑关系不一致, 排除;

C项: 计划资源搭配不当, 不能构成动宾关系, 与题干逻辑关系不一致, 排除;

D项: 税收调节差距, 构成主谓宾关系, 调节是动词, 与题干逻辑关系一致, 当选。

故正确答案为D。

85、第一步: 判断题干词语间逻辑关系。

羚羊和老虎分别是哺乳动物的一种, 前两词为并列关系中的反对关系, 且与第三词构成种属关系。

第二步: 判断选项词语间逻辑关系。

A项: 天鹅属于鸟类, 但蝙蝠属于哺乳动物, 不是鸟类, 与题干逻辑关系不一致, 排除;

B项: 裸子植物和被子植物是种子植物的两种分类, 二者为矛盾关系, 不是反对关系, 并且珍稀植物是按照稀有程度分类的, 前两词与第三词为交叉关系, 与题干逻辑关系不一致, 排除;

C项: 莲花和芦苇分别是草本植物的一种, 前两词为并列关系中的反对关系, 且与第三词构成种属关系, 与题干逻辑关系一致, 当选;

D项: 娃娃鱼又名大鲵, 二者为全同关系, 不是并列关系, 并且大鲵是两栖动物, 不是鱼类, 与题干逻辑关系不一致, 排除。

故正确答案为C。

86、第一步: 判断题干词语间逻辑关系。

口碑和票房是衡量评价电影的两种不同的方式, 是评价方式的对应。

第二步: 判断选项词语间逻辑关系。

A项: 质量和价格是衡量评价商品的两种不同的方式, 是评价方式的对应, 与题干逻辑关系一致, 当选;

B项: 公平和正义是律师的特征, 律师是为当事人提供法律服务的执业人员, 与题干逻辑关系不一致, 排除;

C项: 好评和差评是对服务的具体评价结果, 而口碑和票房是评价电影的两种不同的方式, 与题干逻辑关系一致, 排除;

D项: 相貌指一个人的面容、长相、身材、衣着以及言谈和举止, 品格指品性、性格, 性情指人的性格、习性与思想情感, 三者之间为并列关系, 与题干逻辑关系一致, 排除。

故正确答案为A。



87、第一步: 判断题干词语间逻辑关系。

沉鱼落雁, 鱼见之沉入水底, 雁见之降落沙洲, 可以形容女子容貌极其美丽。沉鱼落雁比美丽的程度更深。

第二步: 判断选项词语间逻辑关系。

A 项: 举世无双, 是指全世界找不到第二个, 可以形容人或事物极其独特。举世无双比独特的程度更深, 与题干逻辑关系一致, 当选;

B 项: 灵活可以形容敏捷, 不呆板。灵活和身手敏捷并不存在程度上的差异, 且身手敏捷并非成语, 而题干第二个词为成语, 因此与题干逻辑关系不一致, 排除;

C 项: 嗤之以鼻, 用鼻子吭声冷笑, 表示轻蔑, 不能用来形容厌恶, 与题干逻辑关系不一致, 排除;

D 项: 三心二意, 又想这样又想那样, 犹豫不定。常指不安心, 不专一, 不能用来形容粗心, 与题干逻辑关系不一致, 排除。

故正确答案为 A。

88、第一步: 判断题干词语间逻辑关系

蛇没有腿, 腿不是蛇的组成部分。

第二步: 判断选项词语间逻辑关系

A 项: 鸡有翅膀, 翅膀是鸡的一部分, 与题干逻辑关系不一致, 排除;

B 项: 狮有爪子, 爪子是狮的一部分, 与题干逻辑关系不一致, 排除;

C 项: 牛有尾巴, 尾巴是牛的一部分, 与题干逻辑关系不一致, 排除;

D 项: 鲸不是鱼, 没有鱼鳃, 鱼鳃不是鲸的一部分, 与题干逻辑关系一致, 当选。

故正确答案为 D。

89、第一步: 判断题干词语间的逻辑关系。

清代与明代都是朝代, 和朝代是种属关系, 并且清代与明代二者为并列关系。

第二步: 判断选项词语间的逻辑关系。

A 项: 青蛙是两栖动物, 不是爬行动物, 二者不是种属关系, 与题干逻辑关系不一致, 排除;

B 项: 王明阳和朱熹是儒家学派分支的代表人物, 与儒家不是种属关系, 与题干逻辑关系不一致, 排除;

C 项: 有期徒刑与死刑都是属于刑罚的一种, 是种属关系, 并且有期徒刑与死刑为并列关系, 与题干逻辑关系一致, 当选;

D 项: 北平是北京在历史上的一个别名, 二者为全同关系, 与题干逻辑关系不一致, 排除。

故正确答案为 C。

90、逐一代入选项。

A 项: 违约可能违背了法律, 民俗和承诺之间没有直接的逻辑关系, 前后逻辑关系不一致, 排除;

B 项: 违约之后可能会被处罚, 处罚是违约的结果, 兑现承诺是动宾短语, 前后逻辑关系不一致, 排除;

C 项: 违约是违背了合同, 食言是违背了承诺, 前后逻辑关系一致, 当选;



D项: 违约之后可能需要赔偿, 赔偿是违约的结果, 做出承诺即意味着担负了一定的责任, 但承诺不是责任的结果, 前后逻辑关系不一致, 排除。

故正确答案为C。

91、第一步: 找出论点和论据。

论点: 用人单位不应该用高薪聘用好听不好用的海归。

论据: 到国外留学并不意味着能力水平的提升, 更并不意味着所受的教育可以对接国内的就业市场, 在人际关系、工作理念和为人处世方面, 反倒与国内社会格格不入。

第二步: 逐一分析选项。

A项: 留学只是诸多学历教育的一种, 并不具有竞争优势, 从学历教育方面补充了一个新论据, 可以加强, 当选;

B项: 留学生一般具有较高的能力, 证明海归有用, 削弱论据, 排除;

C项: 留学人员是中国发展的生力军, 证明海归有积极作用, 削弱论据, 排除;

D项: 海归人才面临就业压力, 是对客观现实的一种描述, 与“是否要高薪聘用海归”无关, 排除。

故正确答案为A。

92、第一步: 翻译题干。

选修数理逻辑课→已修普通逻辑课且对数学感兴趣; 有些对数学感兴趣且一修过普通逻辑课→有些对数学感兴趣的学生不能选修数理逻辑课。题干的推理结构是: 否定了箭头后且关系中的一个, 得到否定箭头前的结论。

第二步: 逐一分析选项。

A项: 获得本年度的特设奖学金→来自贫困地区且成绩优秀; 有些获得特设奖学金且一来自贫困地区→评选本年度奖学金的规定并没有得到很好的执行, 规定是否执行严格在选项前一句中没有提到, 因此推理结构与题干不同, 排除;

B项: 用于初学的骑士训练的马→强健且温驯; 有些马强健且一温驯→有些强健的马并不适合于初学的骑手, 与题干推理结构一致, 当选;

C项: 汽车缺乏经常保养且使用了几年→需要维修; 有些汽车用了很长时间且一需要维修→有些汽车经常得到保养, 箭头前是且关系, 与题干推理结构不同, 排除;

D项: 畅销→有可读性且精心包装; 有些书畅销且一可读性→有些畅销书主要靠包装, 不是推出否定的箭头前, 与题干推理结构不同, 排除。

故正确答案为B。

93、第一步: 分析题干。

①如果说的是真话, 则将这人外乡人在真理之神面前杀掉;

②如果说的是假话, 则将他在错误之神面前杀掉。

第二步: 代入选项逐一分析。

A项: “你们这样做不合乎理性”, 如果该句为真, 则哲学家在真理之神面前被杀掉, 如果该句为假, 则哲学家在错误之神面前被杀掉, 总之肯定会被杀掉, 不符合题干要求, 排除;



B项: “我将死在真理之神面前” 如果该句为真, 则哲学家在真理之神面前被杀掉, 如果该句为假, 则哲学家在错误之神面前被杀掉, 总之肯定会被杀掉, 不符合题干要求, 排除;

C项: “无论如何我都会死”, 如果该句为真, 则哲学家在真理之神面前被杀掉, 如果该句为假, 则哲学家在错误之神面前被杀掉, 总之肯定会被杀掉, 不符合题干要求, 排除;

D项: “我将死在错误之神面前”, 如果该句为真, 按照条件①应该将哲学家在真理之神面前杀掉, 但这样就表明哲学家的话为假, 从而不应该在真理之神面前将其杀掉, 而如果这句话为假, 根据条件②应该将哲学家在错误之神面前杀掉, 但这样就表明哲学家的话为真, 从而不应该在错误之神面前将其杀掉, 因此无论该句是真是假, 都无法杀掉哲学家, 符合题干要求, 当选。

故正确答案为D。

94、第一步: 找出论点和论据。

论点: 限制燃放烟花爆竹可以避免发生火灾, 能避免环境污染, 让空气新鲜、环境优美。

论据: 春节燃放烟花爆竹会带来空气、噪音等环境污染问题, 还可能引起火灾, 一旦引起火灾, 势必造成人身伤亡和财产损失。

第二步: 逐一分析选项。

A项: 火灾会造成人身伤亡, 支持了题干的论点, 无法削弱, 排除;

B项: 限制燃放烟花爆竹能避免火灾的发生, 支持了题干的论点, 无法削弱, 排除;

C项: 限制燃放烟花爆竹不能避免环境污染, 直接反驳题干的论点, 可以削弱, 当选;

D项: 保护环境人人有责, 没有提及燃放烟花爆竹的问题, 与题干论点无关, 排除。

故正确答案为C。

95、第一步: 找出论点论据。

论点: 政府应该严厉打击海外代购行为。

论据: 我国海外代购业务量快速增长, 代购者们通常从海外购买产品, 通过各种渠道避开关税, 再卖给内地顾客从中牟利, 让政府损失了税收收入。

第二步: 逐一分析选项。

A项: 一位前空乘人员开设海外代购店被判走私罪, 只是一个个体犯罪的例子, 至于海外代购行为本身是否普遍, 是否产生了危害等不够明确, 无法支持, 排除;

B项: 奢侈品海外代购规模是全球奢侈品国内门店销售额的一半, 且避开了关税, 说明海外代购行为非常普遍, 规模较大, 且使得政府损失了税收, 应该严厉打击海外代购, 可以支持论点, 当选;

C项: 该项表达的是如何应对国内民众的消费需求提高, 与论点话题无关, 排除;

D项: 该项表明了海外代购给人们带来的好处, 无法支持论点, 排除。

故正确答案为B。

96、日常结论题, 根据题干信息逐一分析选项。

A项: 题干表达的意思是工程技术领域可以考虑与国外先进技术合作, 只是涉及核心技术的项目决不能受制于人, 没有表达不能引进国外的先进技术的意思, 无法推出, 排除;



B 项: 题干的论述是任何涉及核心技术的项目不能受制于人, 不是工程技术领域的项目不能受制于人, 无法推出, 排除;

C 项: 题干没有表达网络安全建设项目不能与国外先进技术合作的意思, 只是强调不能全盘引进, 涉及核心技术的项目要自主创新, 不能受制于人, 无法推出, 排除;

D 项: 根据文段后半段可知, 我国许多网络安全建设项目涉及信息核心技术, 不能受制于人, 可以推出, 当选。

故正确答案为 D。

97、第一步: 翻译题干。

并非所有的员工都在认真工作=有的员工没认真工作。

第二步: 逐一分析选项。

A 项: 无法推出所有的员工都没有认真工作, 排除;

B 项: 根据题干只能推出有的员工没认真工作, 无法得知是否是多数, 排除;

C 项: 根据题干只能推出有的员工没认真工作, 无法得知是否是少数, 排除;

D 项: 根据题干可以推出, 当选。

故正确答案为 D。

98、第一步: 分析题干。

①有 5 部科幻片, 3 部警匪片、3 部武侠片、2 部战争片及 1 部爱情片;

②除两部科幻片安排在周四外, 其余 6 天每天放映的两部电影都属于不同类别;

③爱情片安排在周日;

④科幻片与武侠片没有安排在同一天;

⑤警匪片和战争片没有安排在同一天。

将题干已知信息填入下表, 进一步分析可知, 剩余需安排的影片中有 3 部科幻片、3 部武侠片, 根据条件④可知这两类影片不能排在同一天, 且根据条件②可知除周四外, 其余 6 天每天放映的两部电影都属于不同类别, 因此这 3 部科幻片、3 部武侠片要分别排在剩余 6 天, 即周日和爱情片排在同一天的只能是科幻片或武侠片, 因此 C 项警匪片和爱情片不能排在同一天。

周一	周二	周三	周四	周五	周六	周日
			科幻片			爱情片
			科幻片			

故正确答案为 C。

99、第一步: 分析题干。

①有 5 部科幻片, 3 部警匪片、3 部武侠片、2 部战争片及 1 部爱情片;

②除两部科幻片安排在周四外, 其余 6 天每天放映的两部电影都属于不同类别;

③爱情片安排在周日;

④科幻片与武侠片没有安排在同一天;



⑤警匪片和战争片没有安排在同一天。

将题干已知信息填入下表, 因为同类影片放映日期连续, 所以 3 部武侠片和 3 部警匪片均只能排在周一、周二、周三, 或者是周五、周六、周日, 根据条件④可知, 当 3 部武侠片排在周一、周二、周三, 剩余 3 部科幻片只能排在周五、周六、周日, 反之亦然, 因此 2 部战争片只能排在周五、周六, 因此周六可能放映的电影是科幻片与战争片, 或者是武侠片与战争片。

周一	周二	周三	周四	周五	周六	周日
			科幻片			爱情片
			科幻片			

故正确答案为 D

100、根据题干“2017 年……比上年增长了”, 结合选项都为百分数, 可判定本题为一般增长率计算问题。定位统计图, 2017 年全部财政收入为 947.3 亿元, 2016 年全部财政收入为 847.4 亿元, 增长率 = $\frac{\text{现期量} - \text{基期量}}{\text{基期量}} = \frac{947.3 - 847.4}{847.4} \approx \frac{100}{850} < \frac{1}{8} = 12.5\%$, 只有 A 项满足要求。

故正确答案为 A。

101、根据题干“比上年增长最快”, 可判定本题为一般增长率比较问题。定位统计图, 可得历年财政收入数据, 根据增长率 = $\frac{\text{现期量} - \text{基期量}}{\text{基期量}}$, 可得 2013 年对应增长率为: $\frac{648.3 - 573.4}{573.4} \approx \frac{75}{570} \approx 13\%$; 2014 年对应增长率为: $\frac{680.8 - 648.3}{648.3} \approx \frac{33}{650} < 10\%$; 2015 年对应增长率为: $\frac{776.4 - 680.8}{680.8} \approx \frac{96}{680} \approx 14\%$; 2016 年对应增长率为: $\frac{847.4 - 776.4}{776.4} \approx \frac{71}{776.6} < 10\%$ 。则 2015 年对应增长率最大。

故正确答案为 C。

102、根据题干“2017 年……比上年增长了”, 结合选项都为百分数, 可判定本题为一般增长率计算问题。定位统计图, 2017 年一般公共预算收入为 460.9 亿元, 2016 年一般公共预算收入为 410.7 亿元,

增长率 = $\frac{\text{现期量} - \text{基期量}}{\text{基期量}} = \frac{460.9 - 410.7}{410.7} \approx \frac{50}{410.7} < \frac{1}{8} = 12.5\%$, 只有 D 项满足要求。

故正确答案为 D。

103、根据题干“比上年增长最慢”, 可判定本题为一般增长率比较问题。定位统计图, 可得历年一般公共预算收入数据, 根据

增长率 = $\frac{\text{现期量} - \text{基期量}}{\text{基期量}}$, 可得 2013 年对应增长率为: $\frac{351.1 - 272.3}{272.3} = \frac{78.8}{272.3} \approx 29\%$; 2014 年对应增长率为: $\frac{343.5 - 351.1}{351.1} < 0$, 负增长; 2015 年对应增长率为: $\frac{375.1 - 343.5}{343.5} = \frac{31.6}{343.5} \approx 9\%$; 2016 年对应增长率为: $\frac{410.7 - 375.1}{375.1} = \frac{35.6}{375.1} \approx 9\%$ 。则 2014 年对应增长率最慢。

故正确答案为 B。



104、根据题干“同比增长最快”,可判定本题为一般增长率比较问题。定位文字材料,可知教育支出增长5.3%,医疗卫生支出增长7.6%,节能环保支出增长34.9%,科学技术支出下降17.7%。增长率最高的是节能环保支出。

故正确答案为C。

105、由题干“2017年…硕士毕业生所占比例为…”,可判定此题为现期比重问题。定位统计表中最后一行数据,2017年全省毕业生为337944人,硕士毕业生为26936人,则2017年全省毕业生中硕士毕业生所占比例

$$\text{例} = \frac{26936}{337944} \times 100\% \approx \frac{27}{338} \times 100\% \approx 8\%$$

,与C选项最为接近。

故正确答案为C。

106、定位统计表中第5列,直接找出博士毕业生就业比例数据最高的行业,制造业为2.05%,教育为46.17%,科研与技术为10.52%,其他为27.5%,则博士毕业生就业比例最高的行业是教育。

故正确答案为B。

107、定位统计表中第6行,可以直接找出从事卫生和社会工作人数最多的毕业生,博士毕业生有48人,硕士毕业生有731人,本科毕业生有5900人,专科毕业生有12431人,可见从事卫生和社会工作的毕业生人数最多的是专科毕业生。

故正确答案为D。

108、由题干“2017年…本科生比专科生多…人”,统计表中已知2017年全省毕业生的本科生和专科生的人数,可判定此题为简单加减计算。定位统计表中最后一行,2017年全省毕业生的本科生有173108人,专科生有136293人,则2017年全省毕业生的本科生比专科生多 $173108-136293=36815$ 人。

故正确答案为A。

109、A项:定位统计表中第七列,硕士毕业生在信息传输、软件和信息技术服务业、教育、制造业的就业比例分别是16.93%、14.12%、10.70%,均达到了10%以上,A项正确;

B项:定位统计表中第九列,本科毕业生就业比例排行前三名的分别是信息传输、软件和信息技术服务业(11.16%)、制造业(9.91%)、建筑业(8.80%),B项正确;

C项:定位统计表中最后一列,专科毕业生就业比例排行前四名的分别是建筑业(11.43%)、制造业(10.32%)、卫生和社会工作(9.12%),以及交通运输、仓储和邮政业(8.86%),C项正确;

D项:定位统计表中第三行,信息传输、软件和信息技术服务业的毕业生总数为32415人,硕士所占比例 $=\frac{4560}{32415} \times 100\%$,本科生所占比例 $=\frac{19323}{32415} \times 100\%$,分母相同,则在信息传输、软件和信息技术服务业这一行业就业的毕业生中,硕士所占比例比本科生低,D项错误;

此题为选非题,故正确答案为D。

110、定位材料第一段可得:“2018年一季度,扣除人口总量自然增长因素后的人均GDP增速约为6.3%。全国居民人均可支配收入实际增长6.6%”,故2018年一季度,全国居民人均可支配收入实际增速比人均GDP增速快 $6.6\%-6.3\%=0.3\%$,即0.3个百分点。

故正确答案为A。



111、根据题干“2017年一季度, ……为多少元”, 结合材料时间为2018年一季度, 可判定本题为基期计算问题。定位材料第一段可得: “2018年一季度, 全国居民人均可支配收入7815元, 比上年同期名义增长8.8%”,

故2017年一季度, 全国居民人均可支配收入 $= \frac{\text{现期}}{1+\text{增长率}} = \frac{7815}{1+8.8\%} \approx \frac{7815}{1.09} \approx 7170$ 元, 与C项最为接近。

故正确答案为C。

112、根据题干“……是……的多少”, 可判定本题为比值计算问题。定位材料第一段可得: “2018年一季度, 全国居民人均可支配收入7815元”; 定位材料第二段可得: “2018年一季度, 全国居民人均可支配收入中位数6580元”, 故2018年一季度, 全国居民人均可支配收入中位数是平均数的 $\frac{6580}{7815} \approx \frac{6580}{7820} \approx 84\%$, 与

B项最为接近。

故正确答案为B。

113、根据题干“2017年一季度, ……占……比重为”, 结合材料时间为2018年一季度, 可判定本题为基期比重问题。定位材料第一段可得: “2018年一季度, 全国居民人均可支配收入7815元, 比上年同期名义增长8.8%”; 定位材料第四段可得: “2018年一季度, 全国居民人均工资性收入4450元, 增长9.0%”, 故2017

年一季度, 全国居民人均工资性收入占可支配收入的比重 $= \frac{A}{B} \times \frac{1+b}{1+a} = \frac{4450}{7815} \times \frac{1+9.0\%}{1+8.8\%} \approx \frac{4450}{7800} \times \frac{1.1}{1.1} \approx 57\%$, 与D项最为接近。

故正确答案为D。

114、A项: 定位材料第一段可得: “2018年一季度, 国内生产总值(GDP)增长6.8%。全国居民人均可支配收入7815元, 比上年同期加快0.3个百分点, 扣除价格因素, 实际增长6.6%”, 故一季度, 全国居民收入总体保持平稳增长, 与经济增长基本同步, 正确;

B项: 定位材料第一段可得: “农村居民收入增速快于城镇居民0.9个百分点”, 故农村居民收入增长快于城镇居民, 正确;

C项: 从材料中无法获知一季度外出务工农村劳动力人数及月人均收入, 故无法判断一季度外出务工农村劳动力人数是否减少, 月人均收入下降是否较快, 错误;

D项: 定位材料第三段可得: “2018年一季度, 东部地区、中部地区、西部地区和东北地区居民人均可支配收入分别增长8.6%、9.0%、9.4%和7.1%”, 故中西部地区居民收入增速快于东部及东北地区, 正确;

本题为选非题, 故正确答案为C。

115、定位统计图可得: 2017年全国居民人均消费支出中, 医疗保健为1451元, 教育文化娱乐为2086元, 交通通信为2499元, 生活用品及服务为1121元, 居住为4107元, 衣着为1238元, 食品烟酒为5374元, 其他用品和服务为447元, 故2017年, 全国居民人均消费支出 $= 1451+2086+2499+1121+4107+1238+5374+447$, 加和尾数为3, 选项尾数不同。

故正确答案为B。



116、根据题干“2016年……为多少元”, 结合材料时间为2017年, 可判定本题为基期计算问题。定位文

字资料可得: “2017年, 全国居民人均消费支出扣除价格因素, 实际增长5.4%”; 由116题可得: 2017年,

全国居民人均消费支出为18323元, 故2016年全国居民人均消费支出= $\frac{\text{现期}}{1+\text{增长率}} = \frac{18323}{1+5.4\%} \approx \frac{18323}{1.05} \approx 17500$ 元, 与B项最为接近。

故正确答案为B。

117、定位统计图可得: 2017年全国居民人均消费支出中, 医疗保健为1451元, 教育文化娱乐为2086元, 居住为4107元, 食品烟酒为5374元, 故2017年, 全国居民人均消费支出最多的项目是食品烟酒。

故正确答案为D。

118、根据题干“2016年……为多少元”, 结合材料时间为2017年, 可判定本题为基期计算问题。定位文字资料可得: “城镇居民人均消费支出24445元, 扣除价格因素, 实际增长4.1%”, 故2016年城镇居民人均

消费支出= $\frac{\text{现期}}{1+\text{增长率}} = \frac{24445}{1+4.1\%} \approx \frac{24445}{1.04} \approx 23500$ 元, 与A项最为接近。

故正确答案为A。

119、根据题干“2017年末……增长了”, 结合选项为百分数, 可判定本题为一般增长率问题。定位材料第一段可得: “2016年末石家庄市共有医疗卫生机构(含诊所)6892个”; 定位材料第二段可得: “2017年末石家庄市共有医疗卫生机构(含诊所)7334个”, 故截止2017年末石家庄市医疗卫生机构(含诊所)同比

增长率= $\frac{\text{现期}-\text{基期}}{\text{基期}} = \frac{7334-6892}{6892} \approx \frac{442}{6890} \approx 6.4\%$ 。

故正确答案为C。

120、定位材料可得: “2016年末石家庄市有医院205个, 2017年有235个; 2016年有疾病预防控制中心(防疫站)24个, 2017年有24个; 2016年有妇幼保健院(所、站)24个, 2017年有25个; 2016年有社区卫生服务中心(站)193个, 2017年有189个”, 故与2016年相比, 2017年石家庄市医疗卫生机构数量没有变化的是疾病预防控制中心(防疫站)。

故正确答案为B。

121、根据题干“2017年末……比2016年增加了”, 结合选项带单位, 可判定本题为增长量计算问题。定位材料第一段可得: “2016年末石家庄市的医院拥有床位41972张”; 定位材料第二段可得: “2017年末石家庄市的医院拥有床位46036张”, 故2017年末石家庄市的医院比2016年同期增加的床位数=现期-基期=46036-41972=4064张。

故正确答案为A。

122、根据题干“2016年……占……”, 结合材料已知2016年相关数据, 可判定本题为现期比重问题。定位材料第一段可得: “2016年末石家庄市拥有卫生技术人员70593人, 其中, 执业医师31781人, 注册护士27749人”, 故2016年石家庄市执业医师和注册护士人数约占卫生技术人员人数的比重

= $\frac{\text{部分}}{\text{总体}} = \frac{31781+27749}{70593} \approx \frac{59530}{70600} \approx 84\%$ 。



故正确答案为 D。

123、暂缺